



1. Gezgini, bir dünya vatandaşıdır. Tüm dünya insanlarına, uygarlıklarına ve kültürlerine hiçbir ayırım yapmadan, ön yargısız yaklaşır. İnsanlara ırk, din, dil, cinsiyet ve milliyet kalıplarının dışında, "insan" olarak bakmayı bilir. Kendi kültüründen olmayan insanların geleneklerini, kültürlerini, dünyalarını anlamaya çalışır. Dünyanın ancak insanla değerli olduğunu, bu çeşitliliğin de büyük bir hazine olduğunu bilir.

Paragrafta "gezgini"nin hangi özelliği üzerinde durulmuştur?

- A) Tüm insanları eşit görmesi
- B) Değişik yerler görme isteği
- C) Farklı insanlar tanınması
- D) Bol bol kitap okuması

2. ▲. Almanya, II. Dünya Savaşı'ndan sonra Doğu ve Batı Almanya olarak ikiye ayrıldı. İki ülkeyi birbirinden ayıran sınır olarak kabul edilen Berlin Duvarı, 1989'da yıkıldı ve iki ülke birleşerek 16 eyaletten oluşan Almanya Federal Cumhuriyeti'ni meydana getirdi.
- . Şair ve düşünürlerin ülkesi olarak anılan Almanya, özellikle klasik müziğin anavatanı olarak kabul edilen ülkelerden biridir. Bach, Beethoven ve Brahms'ın da aralarında bulunduğu ünlü Alman besteciler dünya çapında tanınmıştır.
- . Almanya, yetiştirdiği bilim adamlarıyla Nobel Ödülü'nü şu ana kadar 100 kez kazanmıştır. Dâhi fizikçi Albert Einstein, matbaayı icat eden Johannes Gutenberg, röntgen ışınlarını bulan Wilhelm Conrad Röntgen ve otomobili icat eden Karl Benz bu isimlere örnektir.

Sembollerle gösterilen bu paragraflarda Almanya'nın hangi yönleri üzerinde durulmuştur?

	▲	●	■
A)	tarihi	sanatı	bilimi
B)	coğrafyası	tarihi	bilimi
C)	coğrafyası	sanatı	teknolojisi
D)	tarihi	bilimi	ekonomisi

3. İnsanlar, 1600'lü yıllarda teleskopla Ay'a ilk kez baktıklarında Ay'ın yüzeyinde denizi andıran bazı kesimler görmüşlerdir. Gerçekte Ay'da su olmadığı için "deniz" gibi görünen şeyler düzlüklerdir. Bu düzlükler, yeryüzündeki düzlüklere benzemez. Garip şekilli, renkleri yeryüzündekinden farklı, büyük kayalar ve kraterler (yanardağ ağızları) ile kaplıdır. Ay'ın yüzündeki en büyük düzlük, "Fırtınalar Okyanusu" diye adlandırılmıştır. Ay'ın yüzüne düşen dev meteorlar, orada muhtelif kayalar ve kraterlerle kaplı düzlüklerin meydana gelmesine sebep olmuştur.

Bu paragraf niçin yazılmıştır?

- A) Ay hakkında bilgi vermek için
- B) Ay'ın Dünya'dan farklarını ortaya koymak için
- C) Ay'da niçin yaşam olmadığını belirtmek için
- D) Ay hakkındaki yanlış bilgileri düzeltmek için

4.



Hamsterin boyanmadıysa ya da zehirli bir maddeye sürünmediyse onu yıkamaya gerek yok. Hamster, kedi gibi kendini diliyle temizleyen bir hayvandır. Ayrıca çok hassas olduğundan kolay üşüyebilir ve nemden etkilenebilir. Onu mutlaka yıkaman gerekiyorsa suyun ısısına ve ortam sıcaklığına çok dikkat etmelisin. Ancak sağlıklı ve temiz bir hamsterinin olmasını istiyorsan yapman gereken en önemli şey kafesini haftada bir temizlemek. Tabii dilersen onu ılık ve hafif nemli bir bezle de silebilirsin.

Paragrafta hamsterlar ile ilgili bahsedilen konu aşağıdakilerden hangisidir?

- A) Ne zaman aşılacağı
- B) Nasıl beslenecekleri
- C) Hastalıklarının neler olduğu
- D) Temizliklerinin nasıl yapılacağı



5.

TEK KULLANIMLIK PLASTİĞİ REDDETMENİN 9 NEDENİ



1 Fosil yakıtlardan yapılmıştır.



2 Doğaya zarar verir.



3 Yüzylerce yıl geçse de yeryüzünde var olacaktır.



4 Sadece küçük bir kısmı geri dönüştürülebilir.



5 Zehirli maddeleri yiyecek ve içeceklere bulaştırır.




6 Hormon bozuklukları ve kansere sebep olur.



7 Okyanusları kirletir.



8 Deniz canlılarını ve kuşları öldürür.



9 Besin zincirimizle birlikte vücudumuza girer.

**DAHA AZ
PLASTİK**

Aşağıdakilerden hangisi plastiklerin reddedilme sebepleri arasında sayılmamıştır?

- A) Canlı yaşamını tehdit etmesi
- B) Çeşitli hastalıklar ortaya çıkarması
- C) Çevreyi kirletmesi
- D) İhtiyaçtan fazla kullanılması



1. Bazı cins isimler kullanıldıkları cümleye göre özel isim olabilir.
Aşağıdaki cümlelerin hangisinde bu açıklamaya örnek bir isim vardır?

- A) Gönül sıkıntısının çaresi dost sohbetindedir.
- B) Fıstık, kulübesinden çıkmak için uğraşıyordu.
- C) Toprak kokusu insana huzur veriyor.
- D) Fidan dikimi için okulla koruya gideceğiz.

2. Aşağıdaki cümlelerin hangisinde hâl eki almış bir isim yoktur?

- A) Salonda ailece kitap okuyoruz.
- B) Başka bir sergiye daha gideceğiz.
- C) Okuma seviyen henüz yeterli değil.
- D) İçimizden biri okul başkanı olacak.

3. Bu kalemden ben de bir tane istiyorum, çok beğendim onu.



Melis

Bizim kırtasiyede satılıyor, ben sana alayım yarın.



Efe

Melis ve Efe'nin cümlelerinde geçen altı çizili sözcüklerin aldığı hâl eklerinin türü hangi seçenekte doğru verilmiştir?

	Melis	Efe
A)	Belirtme	Yönelme
B)	Ayrılma	Bulunma
C)	Yönelme	Belirtme
D)	Bulunma	Ayrılma

4. Yemeğiniz yanında içecek olarak ne alırsınız?



Tibet

Takvime baktığımda hatırladım doğum gününü.



Nehir

Bizim ekip toplantı salonunda biraz beklesin.



Fırat

İkinci kafil e bu hafta sonu yola çıkacakmış.



Dicle

Çocuklardan hangilerinin cümlesinde topluluk ismi vardır?

- A) Tibet ve Nehir'in
- B) Fırat ve Dicle'nin
- C) Nehir ve Dicle'nin
- D) Tibet ve Fırat'ın

5. 1. Lokantadaki tüm masalara sahici çiçekler yerleştirdik.
2. İzmir'den gelen misafirlerimizi otogardan almaya babam gitti.
3. Aileler tanıştıktan kısa bir süre sonra nişan töreni yapılacaktır.
4. Mezuniyet töreninden birbirimize mutluluklar dileyerek vedalaştık.

Numaralanmış cümlelerden hangisinde soyut, cins, çoğul özelliği taşıyan bir isim vardır?

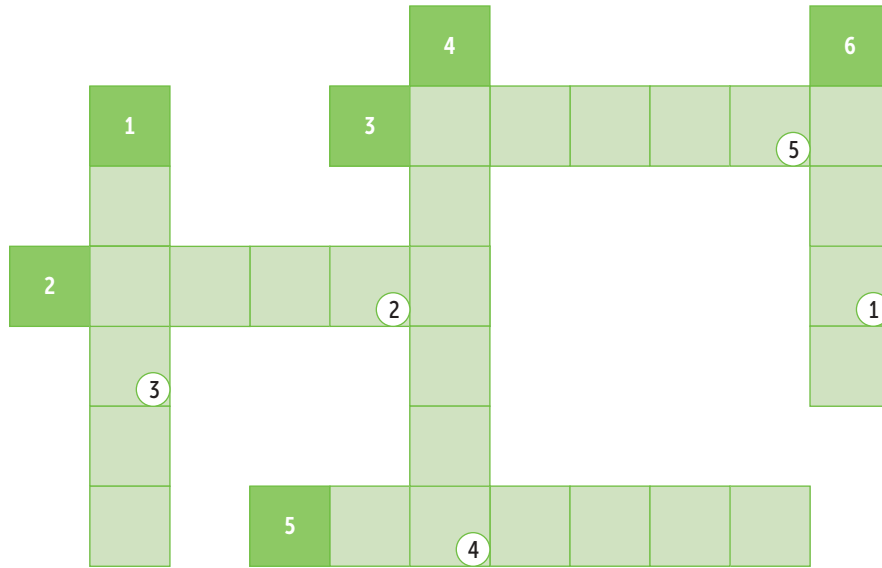
- A) 1
- B) 2
- C) 3
- D) 4



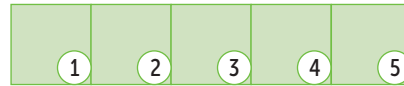
6.

1 Sıcak havalarda bütün çocuklar yolda oyun oynarlar.	2 Orman işçileri kuruyan ağaçları tespit ettiler.	3 Her şey yolunda gittiği için herkes sevinç içindeydi.
4 Bir ülkenin gelişmişliğinde sanatı küçümsemek gerekir.	5 O yıllar bizim için hiç bitmeyecekmiş gibi geliyordu.	6 Çaya biraz da kokulu çaydan kattık.

1. Birinci cümlede bulunma hâl eki alan isim
2. İkinci cümlede topluluk adı olan isim
3. Üçüncü cümlede yer alan soyut isim
4. Dördüncü cümlede belirtme hâl eki alan isim
5. Beşinci cümlede yer alan çoğul isim
6. Altıncı cümlede yönelme hâl eki alan isim



ANAHTAR SÖZCÜK



Buna göre numaralanmış kutularda yer alan harfler "ANAHTAR SÖZCÜK" bölümüne yerleştirildiğinde aşağıdakilerden hangisi oluşur?

A) S A M A N

B) Y A L I N

C) Y A L A N

D) Y A M A N



1. Son zamanlarda hayata geçirilen plastik atıkların değerlendirilmesi projesi oldukça umut vericidir. Amsterdam'da kapağın geri dönüşümüyle elde edilen bir madde kullanılmıştır. Asfalt yerine 218 bin plastik bardak ve 500 bin plastik şişe kullanılarak bir bisiklet yolu yapıldı. Bu plastik atıkların kullanılmasından 30 metrelik bisiklet parkuru elde edilmiştir. Parkura, üzerinden geçen bisiklet sayısını ve günün sıcaklığını algılayan sensörler de eklenmiştir. Hem çevre dostlarının hem de teknoloji severlerin gönlünü çelen bu proje gelecekteki birçok projeye de ışık tutar nitelikte olmuştur. PlasticRoad adı verilen bu yol, bu sebeple dünyanın ilk akıllı bisiklet yolu olarak tarihe geçmiştir. Bu proje, hem fosil yakıtların daha az kullanılması adına hem de geri dönüşüm projelerinin hayatımızın her yerinde kullanılabilecek olması adına oldukça faydalı.

Paragraftan PlasticRoad ile ilgili aşağıdakilerden hangisine ulaşılamaz?

- A) Gelecekteki projelere örnek olacak niteliktedir.
- B) Projeden sonra fosil yakıt kullanımı azalmıştır.
- C) Hem çevreci hem de teknolojik bir yoldur.
- D) Plastik atıkların geri dönüştürülmesiyle oluşturulmuştur.

2. Çağdaş çocuk edebiyatının en güzel kitapları arasına giren, yayımlandığı her ülkede çocukların çok sevecek okuduğu "Esrarengiz Komşu" adlı seri kitap artık Türkçede. Ülkesi Almanya'nın en saygın gazetecilik ödülllerinden Theodor Wolf Ödülü'nün sahibi, gazeteci yazar Silke Lanbeck, her zaman gülümseyerek hatırlanacak, unutulmaz bir kahraman ortaya koydu: Esrarengiz Bay Röslein. İki macerasında da okuru merak içinde bırakan Bay Röslein sevecen ve dost canlısı biri.

Parçada bahsedilen eser ile ilgili aşağıdakilerden hangisine değinilmemiştir?

- A) Birkaç kitaptan oluştuğuna
- B) Beğenilerek okunduğuna
- C) Yaşanmış olayları anlattığına
- D) Farklı dillerde çevirisinin yapıldığına

3. İlk adımı atmak
Korkutucudur
Bilinmeyenle karşılaşmak
Çekince yaratır
İlk adımı atmak
En önemli adımdır
Ufkunuzu genişletir
Yeni bir ışık görmenizi sağlar

Attığınız ilk adım
Tüm kapıları açar
Kendinizi hiç olmadığı gibi
Görmenizi sağlar
Şiirden "ilk adım" ile ilgili aşağıdakilerden hangisi çıkarılamaz?

- A) İnsanda tedirginlik meydana getirdiği
- B) İnsanın bakış açısını değiştirdiği
- C) İnsanın hayatı üzerinde değişiklik yarattığı
- D) İnsanın kendisiyle barışık olmasını sağladığı

4. Tıpkı hapşırma gibi hıçkırma mekanizması da beyin kökünde oluşur. Hıçkırma eylemini tetikleyen şeylerin başında genellikle yeme içme yahut yeme içme sırasında hava yutma gelir. Mide yemek esnasında çok genişlerse mide asidi yutak denilen bölgeye ilerler ve sinirleri uyararak hıçkırık refleksini tetikler. Hıçkırık, iki kalp atışının arasında meydana gelir. Kalp kasının kasıldığı sırada nefes borusu da kapanır ve hıçkırık oluşur. Çoğunlukla kısa sürer. Kısa süreli hıçkırıklar bir hastalık işareti değildir.

Metinden aşağıdaki yargılardan hangisine ulaşılamaz?

- A) Uzun sürmeyen hıçkırık için endişelenmeye gerek yoktur.
- B) Yemek yerken yutulan hava hıçkırığı tetikler.
- C) Kalp kasının kasılması ile birlikte nefes borusunun kapanması ile oluşur.
- D) Bir süreliğine de olsa kalpte meydana gelen bir rahatsızlıktır.



5.



Kaynak: www.aa.com.tr

Görselden hareketle aşağıdaki ifadelerden hangisi yanlıştır?

- A) İstanbul, hem Avrupa'nın hem de Türkiye'nin en gözde fuar alanıdır.
- B) 2018 yılında fuarcılıkta yükselme olmuşken 2019 beklentisi düşüktür.
- C) Fuarcılık alanında Türkiye, Avrupa'da ikinci sırada yer almaktadır.
- D) Türkiye genelindeki fuarların büyük bir çoğunluğu İstanbul'da düzenlenmektedir.



6.

GRİP VE NEZLE ARASINDAKİ FARKLAR

GRİP

Kuluçka süresi: İki gün
Burun akıntısı: Görülür
Üşüme: Her zaman
İshal: Görülmez
Kusma: Görülmez
Ateş: Ara sıra
Ateş: 38 derece üstü
Kas ağrısı: Nadir
Korunmak için: Aşı ve sık sık el yıkama



NEZLE

Kuluçka süresi: İki hafta
Burun akıntısı: Görülür
Üşüme: Nadir
İshal: Sık görülür
Kusma: Nadir
Ateş: Her zaman
Ateş: 38 derece üstü
Kas ağrısı: Sıklıkla
Korunmak için: Elleri sabunlamak

Kaynak: www.yenisafak.com

Görselden hareketle aşağıdakilerden hangisini söylemek yanlış olur?

- A) Burun akıntısı, her iki rahatsızlıkta görülmektedir.
- B) İshal ve kusma gripte görülmezken nezlede görülen belirtilerdir.
- C) Her iki rahatsızlıkta da temizlik önemli bir yere sahiptir.
- D) Grip, her yönden nezleye göre daha tehlikelidir.



5.



Hikâyenin Yapı Unsurları



Kaynak: www.eba.gov.tr

Buna göre aşağıdakilerin hangisinde hikâye unsurlarının tamamı belirgindir?

- A) Sıcak bir yaz günü kırlarda gönlünce şarkı söylüyormuş ağustos böceği. Her şey ama her şey onu mutlu ediyormuş. Bir derenin şırıltısı ya da bir kelebeğin kanat çırpması... Çevresine neşe saçarak dolaşıyormuş. Her yer ne kadar da bol yemişle dolu, diye düşünürken harıl harıl çalışan karıncaya rast gelmiş. "Böylesi güzel bir havada ne çalışır durursun, eğlenmene bak biraz da." diye alay etmiş.
- B) Çoktandır buralara gelmemiştim. Eminönü benim için çocukluğumun balık ekmek yemek için gelinen ve gezilen tek yeriydi âdeta. Şöyle bir etrafıma baktım. Çok da fazla değişmemiş. Yine her yer kalabalık, insanlar ekmek kavgasında, turist kabileleri fotoğraf çekiyor... Küçük oğlum Emir, annesiyle ara sıra buraya gelir gezerdi. Okul için ya da iş yerimiz için bazı malzemeler alırlardı.
- C) "Belki bir gün..." dedi şeker alırken. "Bir gün bizim de istediğimiz her şey olur. Tüm ailemiz yeniden bir araya gelir." Ayten onu dinlemiyordu. Gözleri dalmış bir şekilde neredeyse yarım saattir boş boş elindeki bilete bakıyordu. Kimindi acaba, biri düşürmüş ama yıllar öncesine ait bir bileti kim neden saklardı ki, diye kafasından bir sürü şey geçiriyordu. Nurten telefonuna bakıp: "Ne zaman gelecek bunlar?" diye sitem etti.
- D) Bir sonraki sokaktan gireceksiniz, diye uyardı bizi manav. Aslında adres doğru görünüyordu ama yine de esnafı dinlemek lazımdı. Gezdiğimiz kaçınıcı emlakçıydı kim bilir? Bir türlü gönlümüze göre bir ev bulamamıştık. Hele geçen hafta baktığımız ev tam bir rezaletti. Babam emlakçı ve ev sahibi ile tartışmıştı, bu ev için vaktimizi aldılar diye. Bahçeli bir ev bulsak keşke, diye atıldı birden Tülin.



5.



Kaynak: <http://infografiknedir.com>

Aşağıda evinde soba kullanan kişiler sobayı nasıl yaktıklarıyla ilgili birtakım bilgiler vermiştir:

Zeki: Tekrar tekrar dışarıya çıkmamak için sobayı ağzına kadar kömürle doldurdum.

Ender: Salon fazla ısındığından sobanın kapağını hafiften aralık bırakarak kapadım.

Hakan: Ben daha kolay olduğunu düşündüğüm için sobayı alttan yakıyorum.

Sinan: Sobayı uzun süre yakamadığımdan kömürün üzerine kolonya döktüm.

Görselden hareketle bu kişilerden hangisinin davranışı doğrudur?

A) Zeki'nin

B) Ender'in

C) Hakan'ın

D) Sinan'ın



3.



Biyçeşitliliğin Korunması İçin Alınması Gereken Önlemler



Kaynak: www.eba.gov.tr

Verilen görseldeki bilgiler dikkate alındığında numaralanmış yerlere getirilmesi gereken ifadeler hangi seçenekte doğru verilmiştir?

	1	2
A)	Aşırı ve dikkatsiz otlatma faaliyetlerinin yapılması engellenmelidir.	Nesli tükenme tehlikesi altında olan canlılar için tabiat parkları oluşturulmalıdır.
B)	Ormanlardaki bitkilerin yılın belirli zamanlarında gübre ihtiyacının karşılanması gereklidir.	Hayvanlar, hayvanat bahçelerinden çıkarılıp doğal yaşam alanlarına gönderilmelidir.
C)	Özellikle küçükbaş hayvancılık desteklenmeli, onlara yönelik çalışmalar yapılmalıdır.	Sokak hayvanlarının güvenle yaşayabileceği ortam oluşturulmalıdır.
D)	Zararlı otları hayvanların yememesi için çevreden bu otların temizlenmesi sağlanmalıdır.	Hayvanların da hakları olduğu ve onlara zarar verilmemesi gerektiği unutulmamalıdır.



1, 2 ve 3. soruları aşağıdaki metne göre cevaplayın.

Dünyadaki canlılar beslenmek için başka canlıyı yerken kendileri de başka canlılara yiyecek olmakta. İşte canlıların bu şekilde birbirlerine gıda olmalarının sıralanmasına besin zinciri denir. (1) Gıda piramidi denilen olgu, dünyanın her yerinde değişim gösterebilmesinin yanında bireylerin her birinin rutin olarak alması gereken besin değerlerinin üzerine kurulmuş bir düzendir. Ülkelerin coğrafi ve beşerî koşullarına bakılırsa birbirinden farklı besin piramidi örnekleri olabilir. Kendi ülkemize bakmış olduğumuzda beslenme piramidi oluşturulurken "(2) dört yapraklı yonca" adlı beslenme modelinin benimsendiği görülmektedir. Bu beslenme modeli (3) Türkiye coğrafyası ve Türk insanının beslenme düzeni oluşturmasında da oldukça etkili olmaktadır.

Besin zinciri ve besin piramidi, özel bir denge üzerine kurulmaktadır. Besin zincirinin tabanında otlar, ağaçlar vb. üreticiler yer alır. Üreticilerin biyokütlesi çok fazladır. Çünkü tabanda geniş bir alanı oluşturur. Üst basamaklara çıktıkça biyokütle azalır. Besin piramidinde, aşağıdan yukarıya doğru her kattaki:

- Canlı sayısı azalır.
- Tür sayısı azalır.
- Gıda miktarı azalır.
- Enerji miktarı azalır.
- Tüketicilerin vücut büyüklüğü artar.
- Canlı vücudunda biriken zehir miktarı artar.

Yeryüzü sınırsız sayıda tüketiciyi besleyecek düzeyde besin potansiyeline sahip değildir. Bundan dolayı gıda zincirinin farklı düzeylerinde işlev gören organizmalar arasındaki organik dengenin korunması gerekir.

1. Parçanın anlatımı için aşağıdakilerden hangisi söylenemez?

- A) Bilgilendirici bir metindir.
- B) Açıklama anlatım biçimi ile yazılmıştır.
- C) Nesnel ifadeler hâkimdir.
- D) Olay; giriş, gelişme, sonuç hâlinde verilmiştir.

2. Numaralanmış altı çizili tamlamaların türleri hangi seçenekte doğru verilmiştir?

	1. Tamlama	2. Tamlama	3. Tamlama
A)	Sıfat tamlaması	İsim tamlaması	Sıfat tamlaması
B)	İsim tamlaması	İsim tamlaması	Sıfat tamlaması
C)	İsim tamlaması	Sıfat tamlaması	İsim tamlaması
D)	Sıfat tamlaması	Sıfat tamlaması	İsim tamlaması

3. Metinde aşağıdakilerin hangisinden faydalanılmamıştır?

- A) Karşılaştırma
- B) Tanık gösterme
- C) Tanımlama
- D) Örnekendirme

4. Aşağıdakilerin hangisinde altı çizili söz grubu sıfat tamlaması değildir?

- A) Anıl, telefon numaralarını ezbere biliyor.
- B) Depodaki büyük kutuları ofise taşıyın.
- C) Yeşil tokasını kaybedince çok üzülmüş.
- D) Teyzemle arada görüntülü konuşma yapıyoruz.