



1.

Aşırı Su Tüketimi

Suyu çok hızlı kullanıyoruz

Dünyada sınırlı miktarda su var ve dünyadaki suyun sadece %3'ü içilebilir tatlı su

Son yıllarda su kullanımı, nüfusun iki katından daha fazla artmıştır.



Tuvaletler, her yıkama için 6 - 13 litre su harcar.

Saniyede bir damla oranında damlayan musluklar yılda 10.000 litre su harcar.

Görselden hareketle aşağıdakilerden hangisini söylemek doğru olmaz?

- A) Dünya üzerinde bulunan içme suları sınırlı miktardadır.
- B) Nüfustaki artış su tüketimini de olumsuz etkilemiştir.
- C) Su tüketimindeki artış nedeniyle ilerleyen yıllarda su kıtlığı yaşanabilir.
- D) Dünya üzerindeki suyun yalnızca küçük bir miktarı içme suyudur.

2. Altı şapkalı düşünme tekniği, düşüncelerin daha verimli bir hâle gelmesi için sembol olarak kullanılmıştır. Konulara farklı bakış açılarından bakmayı sağlayan bir metottur. İnsanları kalıplaşmış düşünce tarzlarından uzaklaştırmaya çabalar. Takım hâlindeki çalışmalarda ise ortak düşünce birliği sağlayacaktır.

	Beyaz Şapka	Tarafsız ve objektiftir.
	Sarı Şapka	Düşünmenin olumlu ve yapıcı yanındır. Avantajı, yararı ve fırsatı düşünür.
	Kırmızı Şapka	Sorunlara duygu, sezgi ve reaksiyon kullanılarak yaklaşılr. İnsanların konuya nasıl tepki vereceği tahmin edilir.
	Siyah Şapka	Konunun olumsuz yönleri göz önüne alınır. Savunmacı bir şekilde yaklaşılr. Olaya eleştirel bakış açısı getirir. Tehlikeye dikkat çeker ve zararlı şeyleri yapmaya engel olur.
	Yeşil Şapka	Sorunlara karşı yaratıcı çözümler geliştirilir. Yeni görüşler, yaratıcı fikirler ve üretkenlik ön plana çıkarılır. Amaç herkesin düşüncelerini dile getirmesidir.
	Mavi Şapka	Bu şapka ise düşünme sürecinin düzenlenmesi ile ilgilendir. Konunun sonuçları ortaya konur ve özet geçilir.

"İnsanlık var olduğundan beri teknoloji durmadan ilerlemiş ve sürekli yeni gelişmeler olmuştur." cümlesi üzerinde bir süre düşünen Ceren ve Dilek cümleyi şu şekilde yorumlamıştır:

Ceren: Yapılacak işler daha basit ve hızlı bir şekilde yapılabilir. Bilgiler uzun süre saklanarak istenildiği zaman kullanılabilir.

Dilek: Her ne kadar bilgiye ulaşmak teknoloji sayesinde kolay olsa da insanlar bilgilerin ne kadar doğru olduğunu sorgulamadan kullanıyor.

Bu bilgilerden hareketle Ceren ve Dilek'in kullandıkları şapka aşağıdakilerin hangisinde doğru verilmiştir?

- A) Ceren: mavi şapka / Dilek: kırmızı şapka
C) Ceren: kırmızı şapka / Dilek: sarı şapka

- B) Ceren: yeşil şapka / Dilek: beyaz şapka
D) Ceren: sarı şapka / Dilek: siyah şapka



I.

ANTİBİYOTİK DİRENCİ NEDEN OLUŞUR?



Dünyada ve Türkiye'de **antibiyotik direnci** giderek artıyor.

Dirençli bakterilerin yol açtığı enfeksiyonlar

- **ölüm oranlarının artmasına**
- **hastanedeki yatış sürelerinin uzamasına** neden oluyor.



İnsanlık, yeni antibiyotik geliştirmede bakterilerin direnç geliştirme hızına yetişemiyor.

Antibiyotik Direncinin Nedenleri



Hastalıkların tedavisinde gereksiz yere ve uygunsuz antibiyotik kullanımı



Tarım ve hayvancılık sektörlerinde gereksiz yere ve uygunsuz antibiyotik kullanımı



Turizm, göçler, uluslararası yolculuklar



Hijyen eksikliği

Antibiyotik direnciyle mücadele için doktorunuz yazmadıkça antibiyotik kullanmayın!



TC Sağlık Bakanlığı

Sağlığın Geliştirilmesi
Genel Müdürlüğü

f t i y /sbsggm

Görselden hareketle aşağıdakilerden hangisi söylenemez?

- Bakterilerin direnç kazanması, hastalıkların daha uzun sürede atlatılmasına yol açar.
- Gereksiz yere ve doktor reçetede yazmadıkça antibiyotik kullanmak zararlıdır.
- Temziliğe gerekli önemi vermemek, antibiyotik direncinin oluşmasına neden olur.
- Dirençli antibiyotiklerin yol açtığı enfeksiyonlardan korunmak için turizm bölgelerinden uzak durulmalıdır.



SİBER AKLIMI SEVEYİM!

Güvenli olmayan web sitelerinde;

- Üye **olma!**
- Alışveriş **yapma!**
- Bağlantılara **tıklama!**
- Haberlere **hemen inanma!**
- Dosya **indirme!**
- Güvenlik yazılımı **kullan!**
- Tanımadığın kişilerle **iletişime geçme!**

Elektronik posta **eklerini** açarken **dikkatli ol!**

Telefonda **polis, banka görevlisi, hakim, savcı, müşteri hizmetleri personeli** gibi arayan kişilere **kişisel bilgilerini verme!**

Karşıdaki kişinin **tanıdığın bir kişinin hesabını izinsiz kullanabileceğini unutma!**

İnternette emin olmadığın bilgileri **paylaşma!**

Mümkünse önemli bilgilerin olduğu bilgisayar ile **internete bağlanma!**

İNTERNETTE HİÇBİR ZAMAN TAM GÜVENDE OLAMAYACAĞINI UNUTMA!

Kaynak: <https://ozgurseremet.com>

Görselden hareketle aşağıdakilerden hangisi söylenebilir?

- A) Yakınlarımızı üzecek ve incitecek paylaşımlar yapılmamalıdır.
- B) İnternette paylaşılan her şeye hemen inanmak doğru değildir.
- C) Türkçeyi düzgün kullanmaya, argo veya kaba bir dil kullanmamaya özen gösterilmelidir.
- D) Tüm bilgiler çalınma tehlikesine karşı kopyalanmalıdır.



2. Kumaşlarla uğraşiyor ve küçük küçük süsler, aksesuarlar yapıyorsanız veya yapmak istiyorsanız, kız çocuk ve kız bebeklerine bu konuda hoş bir sürpriz düşünürseniz klipsli saç tokasına kumaştan tutkalla yapıştırmak üzere pratik bir çiçek süsü yapabilirsiniz. Toka süsü yapmak için sırasıyla şu adımları izleyin:
- Alacağınız herhangi bir renkteki kumaşı alt kısmı düz, üst kısmı şekilli olacak şekilde 6 - 7 parça kesin.
 - Daha sonra kestiğiniz kumaşın alt kısmındaki bir ucundan başlayarak ortasına kadar ucunda ip bulunan bir iğneyle tutturun.
 - Aynı şekilde diğer parçaları da iğneyle birbirine tutturun.
 - Son parçayı da iğneyle tutturduktan sonra iğneyi sonuna kadar çekerek tüm parçaların dikilmiş olduğundan emin olun.
 - Dikilen parçaların her iki ucundan tutarak birbirinin üstüne getirin ve işte çiçek şeklindeki toka süsünüz hazır.
- Bu bilgilere göre bebeğine toka süsü yapmak isteyen birinin takip ettiği adımların doğru sıralaması aşağıdakilerden hangisidir?





2.

HAFTADA 1 'BOZA' İÇMEK İÇİN 7 NEDEN



	BOZA İÇMEK Mutluluk hormonu sağlar
Hücreleri yeniler	Mide kasılmalarını azaltır 
OSMANLI KÜLTÜR MİRASI	
	Enfeksiyon hastalıklarıyla mücadele eder
	Vücudun bağışıklık direncini artırır 
Sağlıklı şekilde kilo almanıza sebep olur	
	Zihninizi açarak daha sağlıklı düşünmenize yardımcı olur

Kaynak: <https://www.gzt.com/>

Bilgiler dikkate alındığında aşağıdakilerden hangisinin bu görselin hazırlanma amaçlarından biri olduğu kesinlikle söylenemez?

- A) Unutulmaya yüz tutmuş bir kültürü canlandırmak
- B) Boza içmenin insan sağlığına olumlu etkilerini anlatmak
- C) İçeceğin reklamını yapıp onu halka duyurmak
- D) Yanlış bilinen bir gerçeği gün yüzüne çıkarmak



1. Atasözü Tahmin Etme Oyunu

Atasözleri küçük kâğıtlara yazılır. İsteyen bir öğrenciye bu kâğıtlardan birini çekmesi söylenir. Öğrenci, atasözünün her harfi sayınca tahtaya çizgi çizer. Her sözcük arasına boşluk bırakır. Öğrencilerden bir harf söylemeleri istenir. Bilinen harfler, çizgi üzerinde yerine yazılır. Atasözü ortaya çıkmaya başlayınca her öğrenci bir kez olmak üzere tahminde bulunur. Atasözünü doğru tahmin eden öğrenci alkışlarla tahtaya gelir ve bu etkinlik birkaç defa tekrarlanır.

Söz konusu oyun ile ilgili aşağıdakilerden hangisi söylenemez?

- A) Tahmine dayalı olduğu
- B) Birden çok kişiyle oynandığı
- C) Yazarak oynandığı
- D) Kazanan öğrenciye ödül verildiği

2. Güzel bir yaz günüydü. Okullar tatildi. Batuhan tatilin tadını doyasıya çıkarmak istiyordu. Yoğun ve yorucu ödevler ve yazılılardan sonra bu tatil onun hakkıydı. Sabahın erken saatlerinde köyden ayrılmış, gezinmek için köyün uzak tarlalarına doğru gidiyordu. Şöyle bir kafasını kaldırıp havayı kokladı. Gün, güzel ve güneşli geçeceğe benziyordu.

Bu parça ile ilgili aşağıda verilen bilgilerden hangisi yanlıştır?

- A) Parçadaki kişi: Batuhan
- B) Olayın geçtiği yer: Bir oyun parkı
- C) Olayın geçtiği zaman: Yaz ayı, sabah saatleri
- D) Parçadaki olay: Batuhan'ın köyde gezintiye çıkması

3. Şimdi tarlalarda güneş vardır, Karlar donmuştur otların uçlarında, Artık akşamları dinlenemem Köyüm her zaman aklımda.

Şiire hâkim olan duygu aşağıdakilerden hangisidir?

- A) Özlem
- B) Pişmanlık
- C) Umut
- D) Karamsarlık

4. Aşağıda karışık olarak verilen cümlelerin hangisinde olay daha önce yaşanmıştır?

- A) Ancak hepimizin akli burada kalacaktır; efsaneleriyle, mucizeleriyle Çanakkale'de.
- B) Otobüse bindiğimizde hepimizin aklında tekrar ne zaman geliriz düşüncesi vardı.
- C) Öğretmenlerimize biraz daha kalalım diye ısrar ettik ama ertesi gün okul vardı.
- D) Artık yola çıkma zamanımız gelmişti, bu güzel şehirden ayrılmak zorundaydık.

5. Robotlar, artık günlük yaşamımızı yavaş yavaş işgal etmeye başladı. Sadece fabrikalarda üretim alanında değil, hastane ya da bakımevlerinde de robotlar insanlara hizmet ediyor. Japonya'da ise ilkokulda öğretmenlik yapan robotlar var. Değişik görevler için yeniden programlanmaları gerekiyor. Bu sayede her iş için hedefe uyumlu robotlar geliştirilebiliyor.

Parçada aşağıdakilerden hangisi "robotların kullanım alanları" arasında sayılmamıştır?

- A) Üretim
- B) Sağlık
- C) Tarım
- D) Eğitim

6. "Başlamak, bitirmenin yarısıdır." derler. Buna ben de inanırım. İnsan bir işi kafasına koyup da ona başladığında artık bir yola girmiş demektir. Bundan sonra önemli olan o yolda azimle ve kararlılıkla ilerlemektir. Ancak bunun için de doğru zamanda, doğru yerde, doğru kişilerle ve doğru araçlarla çalışmak çok önemlidir. O zaman kişi, başladığı bir işi sonuna kadar götürebilir ve hedeflediği başarıya ulaşabilir.

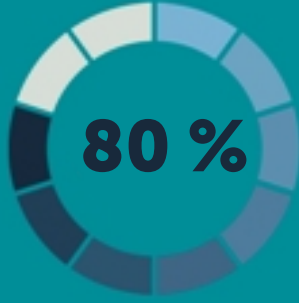
Parçanın ana fikri aşağıdakilerden hangisidir?

- A) İnsan, kararlılıkla ve doğru yöntemlerle çalışırsa başarılı olur.
- B) Başarısızlıklardan ders alan insan başarıya daha çok yaklaşır.
- C) Başarılı olmak için başarılı insanları örnek almak gerekir.
- D) Her insanın ilgi ve yetenekleri birbirinden farklılık gösterir.

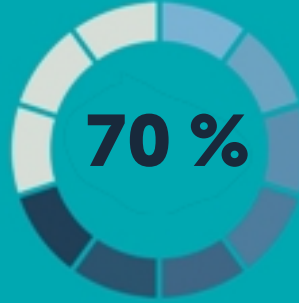


7.

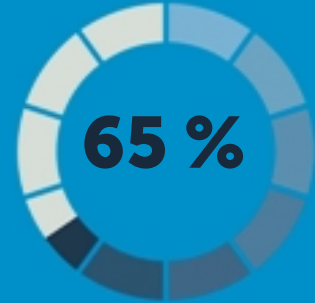
ÇOCUK OTO KOLTUĞU HAYAT KURTARIYOR



Çocuk oto koltuğu kullanımı yaralanmaları %80 oranında azaltıyor



Çocukların %70'i seyahat esnasında yanlış ve eksik güvenlik ürünleri dolayısıyla zarar görüyor



Sürücülerin %65'i ise sürüş esnasında en az 1 kez hata yapıyor



Emniyet kemeri kullanan sürücüler çocuk oto koltuğu kullanmaya daha yatkın



Çocukların 12 yaşına kadar mutlaka çocuk oto koltuğunda seyahat etmeleri gerekir.



Oturma yüksekliği 74 cm, boyu yaklaşık 145 cm, vücut ağırlığı 36 kg oluncaya kadar çocuk oto koltukları kullanılmalıdır

Avrupa Birliği I-Size Yönetmeliği'ne uygun çocuk oto koltuğu kullanılmalıdır. Bu koltuklar yan ve boyun / baş boyun darbelerine karşı "sıkı" koruma sağlamaktadır.

Kaynak: www.autowritetr.com

Görselden hareketle aşağıdakilerden hangisi söylenemez?

- A) Her çocuk oto koltuğu güvenlik açısından aynı seviyede değildir.
- B) Sürücülerin yarısından fazlası araç başında hata yapmaktadır.
- C) Yaralanmaları en aza indirmek için 12 yaşına kadar çocuklar oto koltuğunda seyahat ettirilmelidir.
- D) Çocuğunu oto koltuğu ile seyahat ettiren sürücülerin kendileri de mutlaka emniyet kemeri takar.



1.

RÜZGÂR GÜCÜ
Rüzgârın, rüzgâr türbinleri ve rüzgâr değirmenlerini çevirme gücünden yararlanarak elektrik üreten enerjidir.

JEOTERMAL ENERJİ
Yer altından çıkan sıcak sudan ve onun buharından sağlanan enerjidir.

BİYOYAKIT
Elektrik, ulaşım yakıtları ve kimyasallar meydana getirmek için bitki ve hayvan gübrelere elde edilen enerjidir.

GÜNEŞ ENERJİSİ
Herhangi bir zararlı gaz salınımının olmadığı, doğrudan güneş ışığından üretilen elektrik enerjisidir.

HİDROELEKTRİK
Hızla akan suyun gücünü elektrik enerjisine çeviren enerji kaynağıdır.

5 TÜR YENİLENEBİLİR ENERJİ KAYNAĞI

Görselden hareketle aşağıdakilerden hangisi söylenemez?

- A) Jeotermal enerjinin kaynağı sıcak su ve su buharıdır.
- B) Güneş enerjisinde zararlı gaz salınımı yoktur.
- C) Hidroelektrik enerjide su enerjisi elektrik enerjisine dönüşür.
- D) Rüzgâr enerjisi yenilenebilir enerjilerin en kullanışlı olanıdır.



2.



Yukarıda şeması verilen sınıfta okuyan Mesut, Beril, Can, Eda, Feride ve Çınar'ın oturdukları yerler hakkında bilinenler şunlardır:

- Pencere kenarında oturanlardan biri Eda değildir.
- Kapiya en yakın oturan Can'dır.
- Beril; Çınar ile Eda'nın arasında oturmaktadır.
- Mesut'un arkasındaki sırada Çınar oturmaktadır.

Buna göre Feride kaç numaralı sırada oturmaktadır?

A) 1

B) 2

C) 5

D) 6