

5.

## İTERNET KULLANICISI ARTTI




%56,6



%66,8

Türkiye'de 16-74 yaş grubundaki kişilerden bilgisayar kullananların oranı **yüzde 56,6**, internet kullananların oranı **yüzde 66,8** oldu

**%78,3**

Genişbant internet erişim imkanına sahip haneler, **%78,3'ü** buldu

■ Türkiye'de her 10 haneden 8'i internet erişim imkanına sahip (%80,7)

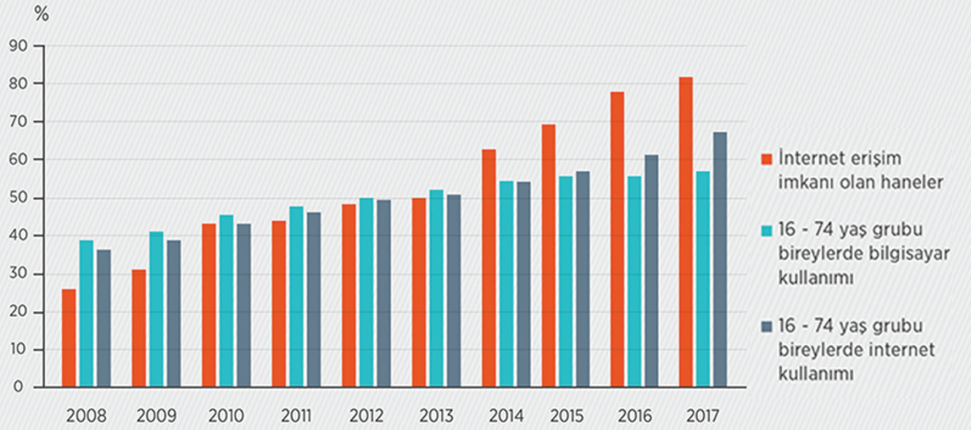


**%42,4**

Bireylerin **%42,4'ü** e-devlet hizmetleri kullandı

**%24,9**

İnternet üzerinden alışveriş **%24,9** oldu



<https://www.aa.com.tr/tr/info/infografik/6816>

Yukarıdaki grafikte verilen bilgiler dikkate alındığında aşağıdaki yargılardan hangisine ulaşamaz?

- A) İnternet erişim hızında yıllara göre dalgalanmalar olmuştur.
- B) Türkiye'de evlerin yarısından fazlasında internet kullanımı vardır.
- C) 16- 74 yaş grubunda olan bireylerin internet kullanımı yıllara göre artış göstermiştir.
- D) Bireylerin e-devlet hizmetlerinden yararlanma oranı internet üzerinden alışveriş yapma oranından daha fazladır.



1. Anayasamızın 32. maddesinde; "Basın - yayın yoluyla hakaret edilmesi ve yanlış bilgi verilmesi durumunda, bundan zarar görenlerin düzeltme ve cevap hakkı vardır. Bunu yerine getirmeyen yazar ve yayıncı mahkemeye verilebilir." ifadesi yer almaktadır. Anayasamızın yukarıdaki maddesine göre, aşağıdakilerden hangisine ulaşamaz?

- A) Basının, kişi haklarına saygı göstermesi gerektiğine
- B) Basın yoluyla zarar görenlerin devlet tarafından yasalarla korunduğuna
- C) Basının, suçluların cezalandırılmasında etkili olduğuna
- D) Yaptığı yanlış kabul etmeyen basın mensuplarının yargılanabileceğine

2. Anayasamızın 28. maddesinde; "Basın hürdür, sansür edilemez." denilmektedir. Yukarıdaki maddede basının hangi yönü vurgulanmıştır?

- A) Özgür olması
- B) Modern olması
- C) Baskıcı olması
- D) Eşitlikçi olması

3. "Hazırladığım tartışma programında, farklı mesleklerden kişilerin, aynı olay karşısındaki fikirlerini yanıtıyorum." diyen bir televizyon programcısı, bireylerin hangi temel hakkını kullanmasını sağlamıştır?

- A) Seyahat özgürlüğünü
- B) Özel hayatın gizliliğini
- C) Konut dokunulmazlığını
- D) Düşünce ve ifade özgürlüğünü

4. Devletin güvenliğini, toplumun yararını ve bireyin kişilik haklarını korumak için Anayasamızda düşünce, kanaat ve ifade özgürlüklerine bazı sınırlamalar getirilmiştir.

Yukarıdaki bilgiler aşağıdakilerden hangisini kanıtlar niteliktedir?

- A) Devletin, kişilerin düşünce özgürlüğünü halk yararını korumak amacıyla sınırlandırabildiğini
- B) Düşünce özgürlüğünün, bireylere yöneticiler tarafından tanındığını
- C) Bireylerin, düşüncelerini farklı yollarla açıklayabildiğini
- D) Düşünce özgürlüğünün toplumsal sorunların yaşanmasına neden olduğunu

5. Aşağıda bazı temel hak ve özgürlüklere ait ifadeler yer verilmiştir.

- "Ailemle birlikte evimde rahatsız edilmeden yaşama hakkına sahibim."
- "Hiç kimse benden izinsiz olarak mektuplarımı açıp okuyamaz."
- "Ünlü bir kişi olabilirim. Ancak benden izinsiz özel hayatım gözler önüne serilemez."
- "Farklı illerde yaşayan tanıdıklarım ile telefon görüşmeleri yapabilirim."

Yukarıdaki ifadelerden kaç tanesinin konut dokunulmazlığı içerisinde yer aldığı söylenebilir?

- A) 1
- B) 2
- C) 3
- D) 4

6. Bireylerin haklarının ihlal edilmesi durumunda basın yayın kuruluşlarının yayımlamak zorunda olduğu yazıya ★ denir.

Yukarıda ★ sembolüyle gösterilen yere aşağıdakilerden hangisi getirilmelidir?

- A) savunma
- B) tekzip
- C) ifade özgürlüğü
- D) meslek ilkeleri



8.

1. Divan toplantılarında alınan kararlara, diğer belgelere padişahın imzası olan tuğrayı çekmekle görevlidir.

2. Padişahın mührünü taşırdı. Padişah sefere çıkmadığında orduyu komuta ederdi.



3. Divan toplantılarında büyük davalara bakar, kadıların ve müderrislerin atamasını yapardı.

4. Bütçenin hazırlanması, devletin gelir ve giderlerinin hesaplanması işlerinden sorumluydu.

Yukarıda numaralandırılarak verilen görevleri yerine getiren Divan üyeleri hangi seçenekte doğru gruplandırılmıştır?

A) 1. Nişancı  
2. Sadrazam  
3. Kazasker  
4. Defterdar

B) 1. Sadrazam  
2. Nişancı  
3. Defterdar  
4. Kazasker

C) 1. Kazasker  
2. Defterdar  
3. Nişancı  
4. Sadrazam

D) 1. Defterdar  
2. Kazasker  
3. Sadrazam  
4. Nişancı

9. I. Murat Dönemi'nde kurulan Yeniçeri Ocağı, askerlik dışında hiçbir görev yapamazdı. Yeniçeriler evlenemezler, ticaretle uğraşamazlar, tarım arazilerinde çalışamazlardı. Ancak III. Murat Dönemi'nde Yeniçeri Ocağı'na kanuna aykırı olarak bazı kişiler alınmaya başlandı.

Yukarıdaki bilgiler, aşağıdakilerden hangisinin göstergesi değildir?

- A) Orduda aksaklıkların görüldüğünün  
B) Yeniçeri Ocağı'nda disiplinin bozulduğunun  
C) Avrupa'daki yeniliklerin, askerî alandaki bozulmaları etkilediğinin  
D) Yeniçerilerle ilgili kanunların geçerliliğini yitirmeye başladığının

6.



— Osmanlı donanmasının karadan yürütüldüğü yol    — İç ve dış surlar    — Haliç'i kapayan zincir    — Osmanlı Donanması    — Bizans Donanması

Harita: Fatih Dönemi'nde İstanbul'un Kuşatılması

II. Mehmet'in gerekli hazırlıkları yaptıktan sonra 6 Nisan 1453'de başlayan İstanbul kuşatmasını gösteren yukarıdaki haritaya bakarak aşağıdaki yorumlardan hangisi yapılamaz?

- A) Bizans Devleti tarafından İstanbul'un etrafı surlarla çevrilmiştir.
- B) Bizans Devleti Haliç'in ağzını zincirlerle kapatarak tedbir almıştır.
- C) Osmanlı Devleti donanmasını karadan yürütmeyi başarmıştır.
- D) Osmanlı Devleti kuşatma esnasında komşu devletlerden askerî yardım almıştır.

7.

## I. Durum

II. Bayezid, Safevi Devleti'nin Anadolu halkını kışkırtarak çıkardığı Şahkulu İsyanı'nı güçlükle bastırdı.

## II. Durum

II. Bayezid, İspanya'da baskı gören Müslümanlar ile Yahudileri Osmanlı topraklarına kabul etti.

Yukarıdaki I. ve II. durum ile ilgili verilen bilgiler;

- I. Anadolu topraklarında iç karışıklıkların yaşandığı,
  - II. Hoşgörü politikasının benimsendiği,
  - III. Avrupa devletlerinden askerî destek alındığı
- yargılarından hangisini ya da hangilerini kanıtlar niteliktedir?

- A) Yalnız I
- B) Yalnız III
- C) I ve II
- D) II ve III



1. I. Selim, tahta geçtikten sonra Türk ve İslam dünyasında birliği sağlamaya çalıştı. I. Selim, ilk olarak Osmanlı topraklarını ele geçirme amacı taşıyan İran üzerine sefere çıktı ve Safevi Devleti ile yaptığı Çaldıran Savaşı'nda başarılı oldu.

Buna göre I. Selim'in;

- Osmanlı topraklarının bütünlüğünü koruma,
- Türkler ve Müslümanlar arasında bütünlüğü sağlama,
- Dini kuralların yönetimdeki etkinliğine son verme

amaçlarından hangisine ya da hangilerine ulaşmak istediği söylenebilir?

- A) Yalnız I                      B) Yalnız III  
C) I ve II                        D) II ve III

2. Aşağıdakilerden hangisinin Yükselme Dönemi'nde fethedildiği söylenemez?

- A) Kırım                        B) Edirne  
C) Rodos                        D) Mısır

3.

| Yavuz Sultan Selim                        | ✓ / X |
|---|-------|
| Halifeliğin Osmanlı Devleti'ne geçmesi    |       |
| Baharat Yolu'nun ele geçirilmesi          |       |
| Anadolu Türk siyasi birliğinin sağlanması |       |
| Viyana'nın kuşatılması                    |       |

Yukarıdaki tabloda Yavuz Sultan Selim Dönemi'nde meydana gelen gelişmelerin olduğu kutucuklara ✓ işareti konulacaktır.

Buna göre, tabloda kaç tane ✓ işareti kullanılmalıdır?

- A) 1                      B) 2                      C) 3                      D) 4

4.

|   |                |   |            |
|---|----------------|---|------------|
| 1 | Bosna - Hersek | 2 | Amasra     |
| 3 | Konya          | 4 | Arnavutluk |

II. Mehmet Dönemi'nde alınan yerler hangi seçenekte Anadolu ve Balkanlardaki fetihler olarak doğru gruplandırılmıştır?

|    | Anadolu | Balkanlar |
|----|---------|-----------|
| A) | 2 - 3   | 1 - 4     |
| B) | 1 - 2   | 3 - 4     |
| C) | 2 - 4   | 1 - 3     |
| D) | 3 - 4   | 1 - 2     |


5. Aşağıdaki savaşlardan hangisi Osmanlı Devleti'nin Yükselme Dönemi'nde gerçekleşmemiştir?

- A) Çaldıran                      B) Koyunhisar  
C) Mercidabık                      D) Otlukbeli


6.

Mısır Seferi sonucunda Memlük Devleti ortadan kaldırıldı.

Turnadağ Savaşı ile Dulkadiroğulları Beyliği Osmanlı topraklarına katıldı.



Berna



Yalın

Yalın ve Berna'nın yukarıdaki ifadeleri ile ilgili aşağıdakilerden hangisi söylenebilir?

- |               |              |
|---------------|--------------|
| <u>Berna</u>  | <u>Yalın</u> |
| A) Doğrudur.  | Doğrudur.    |
| B) Doğrudur.  | Yanlıştır.   |
| C) Yanlıştır. | Yanlıştır.   |
| D) Yanlıştır. | Doğrudur.    |



6.

## TÜRKİYE NÜFUSU 80 MİLYONU GEÇTİ

Türkiye'nin nüfusu, 2017'de bir önceki yıla göre 995 bin 654 kişi artarak 80 milyon 810 bin 525 kişi oldu. 2016'da binde 13,5 olan yıllık nüfus artış hızı, 2017'de binde 12,4'e geriledi

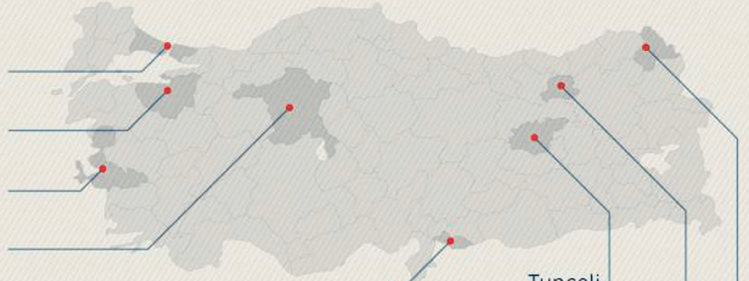
2016 **79 MİLYON 814 BİN 871**



2017 **80 MİLYON 810 BİN 525**



|          |                             |
|----------|-----------------------------|
| İstanbul | <b>15 milyon 29 bin 231</b> |
| Bursa    | <b>2 milyon 936 bin 803</b> |
| İzmir    | <b>4 milyon 279 bin 677</b> |
| Ankara   | <b>5 milyon 445 bin 26</b>  |



### NÜFUS YOĞUNLUĞU EN YÜKSEK İLLER (km<sup>2</sup>'ye düşen kişi sayısı)

|          |                  |
|----------|------------------|
| İstanbul | <b>2 bin 892</b> |
| Kocaeli  | <b>521</b>       |
| İzmir    | <b>356</b>       |

### NÜFUS YOĞUNLUĞU EN AZ İL

Tunceli 11

### TÜRKİYE GENELİ

105

Tunceli  
**82 bin 498**

Kilis  
**136 bin 319**

Bayburt  
**80 bin 417**

Ardahan  
**97 bin 96**

[www.twitter.com/anadoluajansi](http://www.twitter.com/anadoluajansi)

Yukarıda görselde verilen bilgiler dikkate alındığında;

- 2017 yılında nüfus artış hızının bir önceki yıla göre artış gösterdiği,
  - Bursa'da yaşayan kişi sayısının İzmir ile Ankara'da yaşayan kişi sayısından az olduğu,
  - Kocaeli'de kilometre kareye düşen kişi sayısının İzmir'de kilometre kareye düşen kişi sayısından fazla olduğu,
  - Nüfus ve nüfus yoğunluğunun illere göre farklılık gösterdiği
- yargılarından hangisine ya da hangilerine ulaşılabilir?

A) Yalnız I

B) I ve II

C) II ve III

D) II, III ve IV




1. Aşağıdaki tabloda bazı coğrafi bölgelerimizin yüz ölçümleri ile nüfusları verilmiştir.

| Bölgeler     | Alanı (km <sup>2</sup> ) | Nüfus (milyon) |
|--------------|--------------------------|----------------|
| Marmara      | 67.300                   | 23,6           |
| Ege          | 85.000                   | 10             |
| Karadeniz    | 146.178                  | 6,9            |
| İç Anadolu   | 160.000                  | 12,3           |
| Doğu Anadolu | 171.000                  | 5,9            |


Tablodaki bilgilere bakılarak aşağıdakilerden hangisine ulaşılabilir?


- A) Ülkemizin kapladığı alana  
B) Bölgelerdeki nüfus artışına  
C) Ülkemizin toplam nüfusuna  
D) Bölgelerin nüfus yoğunluklarına
2. Türkiye, ortalama yükseltisi fazla olan bir ülkedir. Yükseltinin fazla olduğu yerlerde kış mevsiminin uzun geçmesi, tarımsal faaliyetler üzerinde olumsuz etkiye sahiptir. Buralarda ulaşımda zorluklar yaşanması, insanların başka yerlere göç etmesine neden olur. Bu durum yüksek yerlerin nüfuslanmasını olumsuz etkiler. Yukarıdaki bilgilere bakılarak aşağıdakilerden hangisine ulaşamaz?
- A) Yükseltisi fazla olan yerlerin göç verdiğine  
B) Yüksek alanlarda nüfus miktarının az olduğuna  
C) Yükseltinin beşerî ve ekonomik koşulları olumsuz etkilediğine  
D) Yükseltinin arttığı yerlerde ekonomik faaliyetlerin çeşitlilik gösterdiğine

3. Sosyal bilgiler dersinde öğretmen öğrencilerine, "Ülkemizde 1985 yılından itibaren nüfus artış hızının düşmesinin nedenleri nelerdir?" diye soruyor. Öğretmenin sorusuna öğrencilerin verdiği cevaplardan hangisi yanlıştır?

A)  Aile planlaması çalışmalarının yapılması

B)  Kadınların çalışma hayatında aktif olarak yer alması

C)  Doğum oranlarında yıllara göre artış yaşanması

D)  Bireylerin, çocuk sahibi olma konusunda bilinçli davranması

4. Nüfus artışının sebepleri ile ilgili araştırma yapan bir öğrenci, bir bölgede nüfus artışının doğum, ölüm ve göç gibi sebeplere bağlı olduğunu öğrenmiştir. Araştırma yaptığı bölgede doğum ve ölüm oranlarının birbirine yakın olmasına rağmen nüfusun yıldan yıla arttığını tespit etmiştir. Yukarıdaki bu durum aşağıdakilerden hangisiyle açıklanabilir?
- A) Ölüm oranının hızla azalmasıyla  
B) Bölgenin dışarıdan göç almasıyla  
C) Doğum oranında artış olmasıyla  
D) Salgın hastalıklar nedeniyle nüfusun hızla azalmasıyla



7.

### Sultan Ahmet Camii, İstanbul

Cami ,mescit, namazgâh inşası; camilerin mum kandillerinin temin edilmesi, camilerde vaaz edilmesi ve camilerin temizliği vakıflar tarafından yapılırdı.



### Buruciye Medresesi, Sivas

Osmanlı Devleti'nde günümüz ilkokullarına denk gelen sübyan mekteplerinden medreselere kadar tüm eğitim faaliyetleri vakıflarca sunulurdu. Vakıf mektep ve medreselerinde ders veren hocaların maaşları da vakıf tarafından karşılanırdı.

### Mostar Köprüsü, Bosna

Yol ,köprü, kanal, kemer, bent, çeşme ,sebil, kaldırım ,kervansaray deniz feneri vakıflar tarafından yapılırdı. Bu yapıların her türlü masrafı vakıflar tarafından karşılanırdı.



### Haydarpaşa Numune Eğitim ve Araştırma Hastanesi, İstanbul

Osmanlı Devleti'nde ülkenin her tarafında bulunan darüşşifa, bimarhane, darussihha gibi isimlerle anılan hastanelerin giderleri ve personel ücretleri vakıflarca karşılanırdı. Temizlenmesi için vakıflar kuruldu.

Yukarıda görsellerin yanında verilen bilgiler dikkate alındığında vakıflar ile ilgili;

- I. Sosyal dayanışma ve yardımlaşmaya katkı sağladığı,
  - II. Farklı ihtiyaçları karşılamak ve halk yararına hizmet vermek amacıyla kurulduğu,
  - III. Giderlerinin tamamının devlet tarafından karşılandığı,
  - IV. Vakıf eserlerinin Batı sanatının ve kültürünün bir sonucu ortaya çıktığı
- yorumlarından hangisi ya da hangileri yapılabilir?

A) Yalnız I

B) I ve II

C) I, II ve III

D) I, II, III ve IV





1. Cumhuriyetin ilk yıllarında ülkemizde halkın çoğunluğu tarım sektöründe çalışmaktaydı. Bu dönemde tarım, iklim koşullarına bağlı yapıliyordu. Yapılan çalışmalarla sulama imkânları artırıldı. Böylelikle daha önce yetiştirilemeyen tarım ürünleri de yetiştirilmeye başlandı.

**Yukarıdaki bilgilere göre aşağıdakilerden hangisi söylenemez?**

- A) Cumhuriyetin ilk dönemlerinde halkın büyük bir kısmı geçimini tarımdan sağlamıştır.  
B) Ülkemizde sulama alanında olumlu gelişmeler yaşanmıştır.  
C) Ülkemizde kuraklık sorunu tamamen çözümlenmiştir.  
D) Sulama olanaklarının artmasıyla, tarım ürünlerinin çeşitliliği artmıştır.

2.

Tımar sisteminde atlı askerler yetiştirmek, tımarlı sipahiye ait bir görevdir.



Gizem

Tımar sisteminde toprağı her yıl ekip biçmek ekmek, köylüye ait bir görevdir.



Gülşah

**Gizem ve Gülşah'ın yukarıdaki ifadeleriyle ilgili aşağıdakilerden hangisi söylenebilir?**

- A) Yalnız Gülşah'ın ifadesi doğrudur.  
B) Yalnız Gizem'in ifadesi doğrudur.  
C) Her ikisinin ifadesi de doğrudur.  
D) Her ikisinin ifadesi de yanlıştır.

3. Hititlerin temel geçim kaynağı tarım ve hayvancılıktı. Hitit kralları, tarımın düzenli bir şekilde devam etmesi için toprağı komutan ve vali gibi görevlilere verirdi.

**Yukarıdaki bilgiler Hititler ile ilgili;**

- I. Üretimde sürekliliğı sağlamaya çalıştıkları,  
II. Ülke sınırlarını genişletmeye çalıştıkları,  
III. Tarım faaliyetlerinden çok hayvancılıkla uğraştıkları

**yargılarından hangisinin ya da hangilerinin göstergesidir?**

- A) Yalnız I  
B) Yalnız II  
C) II ve III  
D) I ve III

4.

Osmanlı Devleti'nde vakıf hizmetlerinin düzenli yürütülmesinin sonuçları



**Yukarıdaki şemada ▲, ● ve ★ sembolleri ile gösterilen yerlerden herhangi birinin yerine aşağıdakilerden hangisi getirilemez?**

- A) Ülke toprakları bayındır hâle geldi.  
B) Eğitim faaliyetlerinin düzenli yürütülmesi sağlandı.  
C) Askerî birliklere yardımcı olabilecek bazı çalışmalar yapıldı.  
D) Devlet yöneticilerinin ekonomik gelirleri artırıldı.

5.

- ▲ Bilim ve teknik alanında gelişmeler yaşanması  
● Büyük sermayeli firmalar ve bankalar kurulması  
■ Üretilen ürünlerin fiyatlarının ucuzlaması  
★ Coğrafi Keşifler sonucunda gelişen sömürgecilik nedeniyle sermaye ve ham madde birikiminin olması

**Yukarıda sembollendirilerek verilen bilgilerden hangileri, Sanayi İnkılabı'nın nedenleri arasında yer alır?**

- A) ▲ - ★  
B) ● - ■  
C) ▲ - ●  
D) ■ - ★



7. Osmanlı Devleti ,Batı'daki gelişmeleri takip ederek demokratikleşmeyi sağlamak için 1839'da Abdülmecit zamanında Tanzimat Fermanı'nı ilan etti. Aşağıda Tanzimat Fermanı'nın bazı maddeleri verilmiştir.



- Müslüman, Hristiyan ve Musevi bütün halkın can, mal ve namus güvenliği sağlanacaktır.
- Herkesten belli yöntemlere ve kazancına göre vergi alınacaktır.
- Askerlik işleri sağlam kurallara bağlanacaktır.
- Herkes kanun önünde eşit tutulacaktır.
- Herkes mal ve mülküne sahip olacak ve miras bırakabilecektir.
- Müsadere usulü kaldırılacaktır.

Yukarıda verilen maddeler ile ilgili öğrencilerden bazıları şu yorumları yapmışlardır:

**Mert:** Vergiler herkesten eşit olarak alınmaya başlandı.

**Sema:** Devletin vatandaşın malına el koymasına sona erdi.

**Akın:** Padişah kendi yetkilerinin üstünde kanun gücünü tanımış oldu.

**Simay:** Özel mülkiyet anlayışı oluştu.

Buna göre, hangi öğrencilerin yaptığı yorumların doğru olduğu söylenebilir?

- A) Mert ve Sema                      B) Sema ve Akın                      C) Akın ve Simay                      D) Sema, Akın ve Simay

8. Orta Asya Türk devletlerinde savaş ve barış gibi devleti ilgilendiren konular kurultay adı verilen mecliste görüşülürdü. Kurultaya boy beyleri, hatun ve ileri gelen devlet memurları katılırdı. Kurultayda alınan kararlar, hakanın onayından geçmeden yürürlüğe giremezdi.

Yukarıdaki bilgiler kurultay ile ilgili aşağıdakilerden hangisini kanıtlar nitelikte değildir?

- A) Danışma kurulu niteliği taşıdığını  
B) Farklı kesimlerin katılımına açık olduğunu  
C) Hakanın siyasi yetkilerinin sınırlandırıldığını  
D) Askerî ve siyasi konuların görüşüldüğü yer olduğunu



1. Toplum yaşamında ve insanların vicdanında adalet kavramı önemli bir yere sahiptir.  
**Buna göre, adaletin sağlanmadığı toplumlarda;**
- Suç işleme oranı,
  - İnsan hakları ihlalleri,
  - Bireylerin yasalara bağlılığı
- hangisinde ya da hangilerinde artış olabileceği söylenebilir?**
- A) Yalnız I                      B) Yalnız II  
C) I ve II                        D) II ve III

2. Türkiye Cumhuriyeti Devleti, laik devlet niteliğine sahiptir. Bu durumun bir gereği olarak



Aysun'un yukarıdaki ifadesinin sonuna aşağıdakilerden hangisi getirilirse yanlış olur?

- A) devlet, yalnızca aynı dine inanan kişileri korur.  
B) tüm vatandaşlar vicdan özgürlüğüne sahiptir.  
C) devletimiz dine dayalı ayrıcalıkları reddeder.  
D) bireyler istediği gibi ibadet etme hakkına sahiptir.
3. Bir devletin yurttaşlarının onurlu bir hayat sürmeleri için onların ihtiyaçlarını karşılaması, devletin hangi niteliği ile ilişkilendirilebilir?
- A) Sosyal devlet                B) Hukuk devleti  
C) Laik devlet                    D) Demokratik devlet

4. "Eğitsel Kulüp Çalışmalarının Amaçları" konusu ile ilgili proje ödevi alan Sinem, ödevine şu bilgileri yazmıştır:
- Başkalarını düşünen, topluma hizmet etmekten zevk duyan,
  - Kanun ve emirlere kendi çıkarlarına göre uyan,
  - Bireysel olarak veya başkalarıyla iş birliği içinde çevresindeki toplumsal sorunlarla ilgilenebilen,
  - Tabiatı ve kültür eserlerini seven ve koruyan bilinçli yurttaş yetişmesini amaçlar.
- Buna göre, Sinem'in ödevine yazdığı bilgilerden kaç tanesi doğrudur?**

- A) 1                      B) 2                      C) 3                      D) 4

5. Seçme ve seçilme hakkı, demokratik devletlerin anayasalarında yer alan temel haklardan biridir. Seçme ve seçilme hakkını kullanmak hem hak hem de bir görevdir. Anayasamızın 67. maddesinde bu konu ile ilgili; "Vatandaşlar, kanunda gösterilen şartlara uygun olarak seçme, siyasi faaliyette bulunma ve halk oylamasına katılma hakkına sahiptir." ifadesine yer verilmiştir.
- Yukarıdaki bilgilere göre aşağıdakilerden hangisi söylenemez?**

- A) Bireylerin siyasi faaliyetlerde bulunabileceği  
B) Demokratik devletlerde bireylerin seçme ve seçilme hakkının olduğu  
C) Bireylerin seçme ve seçilme hakkına anayasa ile sınırlandırma getirildiği  
D) Seçme ve seçilme hakkının, vatandaşların hak ve görevleri arasında yer aldığı