

BEST

PEAK

AYT

TAMAMI YENİ NESİL SORULAR

COĞRAFYA

SORU BANKASI

RIZA AKIN KAYAR



ÜNLÜ
YAYINLAR

Video Çözümlü



İÇİNDEKİLER

1. ÜNİTE: DOĞAL SİSTEMLER

□ BİYOÇEŞİTLİLİK VE EKOSİSTEMLERİN UNSURLARI.....	8
□ ENERJİ AKIŞI, MADDE DÖNGÜLERİ VE SU EKOSİSTEMLERİ.....	14
□ EKSTREM DOĞA OLAYLARI, DOĞADA DEĞİŞİM VE KÜRESEL İKLİM DEĞİŞİMİ	20
□ ÜNİTE TESTİ.....	26

2. ÜNİTE: BEŞERİ SİSTEMLER

□ NÜFUS POLİTİKALARI VE TÜRKİYE'NİN NÜFUS PROJEKSİYONLARI	34
□ ŞEHİRLERİN FONKSİYONLARI - ETKİ ALANLARI VE TÜRKİYE'DE YERLEŞMELER.....	40
□ EKONOMİK FAALİYETLER VE DOĞAL KAYNAKLAR.....	52
□ GEÇMİŞTEN GELECEĞE ŞEHİR VE EKONOMİ.....	64
□ TÜRKİYE'NİN EKONOMİ POLİTİKALARI VE TÜRKİYE EKONOMİSİNİN SEKTÖREL DAĞILIMI....	74
□ TÜRKİYE'DE TARIM VE ORMANCILIK	80
□ TÜRKİYE'DE HAYVANCILIK.....	88
□ TÜRKİYE'DE MADENLER VE ENERJİ KAYNAKLARI.....	94
□ TÜRKİYE'DE SANAYİ.....	106
□ TÜRKİYE'DE ULAŞIM	114
□ TÜRKİYE'DE TİCARET.....	122
□ TÜRKİYE'DE TURİZM	130
□ TÜRKİYE'DE İŞLEVSEL BÖLGELER VE KALKINMA PROJELERİ.....	138
□ ÜNİTE TESTİ.....	144

3. ÜNİTE: KÜRESEL ORTAM: BÖLGELER VE ÜLKELER

□ İLK KÜLTÜR MERKEZLERİ, KÜLTÜR BÖLGELERİNİN OLUŞUMU VE DAĞILIŞI.....	164
□ TÜRK KÜLTÜRÜ VE ANADOLU'NUN KÜLTÜREL ÖZELLİKLERİ.....	170
□ ULUSLARARASI TİCARET.....	174
□ ULUSLARARASI TURİZM.....	178
□ SANAYİLEŞME SÜRECİ: ALMANYA VE TARIM - EKONOMİ İLİŞKİSİ (AVRUPA).....	182
□ ULUSLARARASI ÖRGÜTLER.....	186
□ JEOPOLİTİK KONUM VE TÜRKİYE'NİN JEOPOLİTİK KONUMU.....	190
□ TEKNOLOJİK GELİŞMELERİN ETKİLERİ VE ÜLKELERİN GELİŞMİŞLİK DÜZEYLERİ.....	194
□ ÜLKELERİN DOĞAL KAYNAK POTANSİYELLERİ, ENERJİ GÜZERGÂHLARI VE ETKİLERİ.....	198
□ SICAK ÇATIŞMA BÖLGELERİ.....	202
□ ÜNİTE TESTİ.....	206

4. ÜNİTE: ÇEVRE VE TOPLUM

□ ÇEVRE SORUNLARI VE TÜRLERİ.....	222
□ MADEN VE ENERJİ KAYNAKLARINA AİT KULLANIMIN ÇEVRESEL ETKİLERİ.....	226
□ DOĞAL KAYNAK VE ARAZİ KULLANIMININ ÇEVRESEL ETKİLERİ.....	230
□ KÜRESEL ÇEVRE SORUNLARI.....	234
□ DOĞAL KAYNAKLARIN SÜRDÜRÜLEBİLİR KULLANIMI.....	238
□ DOĞAL ÇEVRENİN SINIRLILIĞI VE DOĞAL KAYNAKLARIN BİLİNÇSİZ KULLANIMI.....	242
□ ÇEVRE POLİTİKALARI VE ÜLKELERİN ÇEVRE SORUNLARINA YAKLAŞIMLARI.....	246
□ ÇEVRESEL ÖRGÜTLER, ÇEVRE ANLAŞMALAR, ORTAK DOĞAL VE KÜRESEL MİRASA YÖNELİK TEHDİTLER.....	250
□ ÜNİTE TESTİ.....	254



TEST - 1

1. (I) Doğa olayları herhangi bir yerde normal seyrini yaşarken bazen bu seyrin dışına çıkarak o güne kadar görülmeyen ya da çok az görülen olaylar şeklinde meydana gelir. (II) Örneğin İspanya'nın Sevilla kentinde 50°C olarak ölçülen hava sıcaklığı buranın normal bir sıcaklığı olmayıp ekstrem bir olay sayılır; ancak bu sıcaklık değeri Libya'nın El Azizias kenti için normal bir sıcaklık değeri sayılabilir. (III) Olayların en alt ya da en üst seviyelerine ekstrem olay denir. (IV) Ekstrem olaylara sıra dışı doğa olayları da diyebiliriz. Gerçekten de normalin dışında oluştukları için oldukça sıra dışıdır ve bu ekstrem olaylar uzun süren aralıklarla tekrarlanırlar. Bu aralığın ne kadar olduğu değişkendir. Diğer bir ifadeyle arada sırada oluşurlar. Ekstrem olayların bazılarının ne zaman olacağı önceden tahmin edilebilirken bazılarının ne zaman olacağı tahmin edilemez. (V) Ayrıca ekstrem olaylar yalnızca beşerî nedenlerle olur.
- Yukarıda numaralandırılarak verilen ekstrem olaylar hakkındaki bilgilerden hangisi yanlıştır?**

A) I B) II C) III D) IV E) V

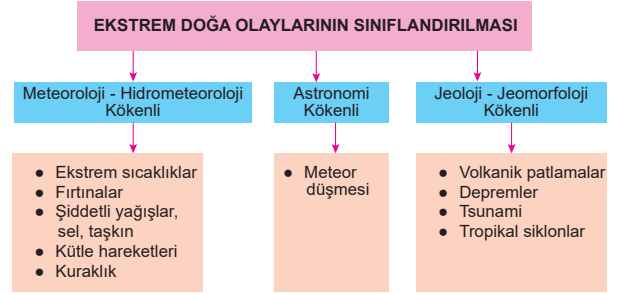
2. Doğa olaylarının en alt ya da en üst seviyelerine ekstrem olay denir; ancak bu seviyeler her bölgede farklı hissedilebilir.
- Buna göre, aşağıdakilerden hangisinin ekstrem durum oluşturduğu söylenebilir?**

A) Sahra'da Çölü'nde sıcaklık farkının fazla olması
B) Sibiry'a'da -30°C sıcaklığın görülmesi
C) Muson Asya'sında yazın yağış olması
D) Japonya'da 4 büyüklüğündeki depremin meydana gelmesi
E) İskandinavya'da ocak ayında 25°C sıcaklığın görülmesi

3. Erozyon, yer kabuğunun üzerindeki toprakların, dış etkenlerle aşındırılıp, yerinden koparılması, taşınması ve biriktirilmesi olayıdır.
- Buna göre, aşağıdakilerden hangisi erozyonu önleme yöntemlerinden biri değildir?**

A) Ağaçlandırma çalışmaları yapılmalıdır.
B) Toprakta nadas yerine nöbetleşe ekim yapılmalıdır.
C) Eğimli yamaçlarda taraçalar yapılmalıdır.
D) Ormanlar tahrip edilip meralar genişletilmelidir.
E) Mevcut bitki örtüsü korunmalıdır.

4.



Buna göre, tablodaki bilgi yanlışlığının giderilmesi için aşağıdakilerden hangisinin yapılması gerekir?

- A) Ekstrem sıcaklıklar ile volkanik patlamalar yer değiştirilmelidir.
B) Tropikal siklonlar ile kuraklık yer değiştirilmelidir.
C) Tropikal siklonlar ile kütle hareketleri yer değiştirilmelidir.
D) Ekstrem sıcaklıklar ile tsunami yer değiştirilmelidir.
E) Fırtınalar ile depremler yer değiştirilmelidir.

5.

Ekstrem olaylar, kaynağını farklı alanlardan alabilir.

Buna göre, jeoloji ve jeomorfoloji kökenli ekstrem olaylar ile aşağıdakilerden hangisi paralellik gösterir?

- A) Aşırı yağış
B) Fay hatları
C) Şiddetli rüzgârlar
D) Fırtınalar
E) Meteor düşmesi

6.

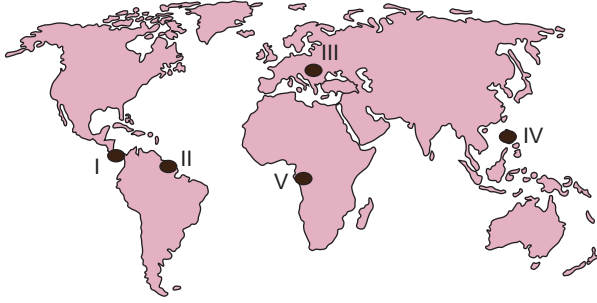
- I. Kütle hareketleri
II. Volkanizma
III. Tropikal siklonlar

Yukarıda verilen doğal afetlerden hangilerinin meydana gelmesinde iklim koşullarının etkili olduğu söylenebilir?

- A) Yalnız I B) Yalnız II C) Yalnız III
D) I ve II E) I ve III

Ekstrem Doğa Olayları, Doğada Değişim ve Küresel İklim Değişimi

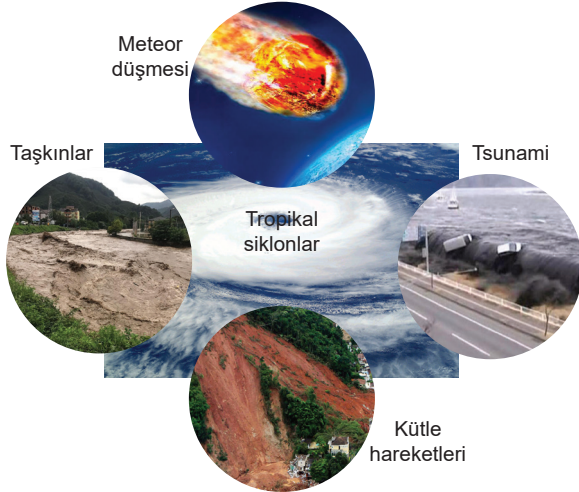
7. Tropikal kuşaktaki okyanuslarda oluşan, saatte 118 km ve daha fazla hızla kendi etrafında dönerek esen rüzgârlara "tropikal fırtınalar" denir. Tropikal fırtınalar, okyanus suyu sıcaklığının 27°C ve üzerinde olduğu; Kuzey Yarım Küre'de haziran - ekim, Güney Yarım Küre'de ise kasım - mayıs ayları arasında oluşur.



Buna göre, Dünya haritası üzerinde belirtilen bölgelerin hangisinde tropikal fırtına oluşması beklenmez?

- A) I B) II C) III D) IV E) V

8.



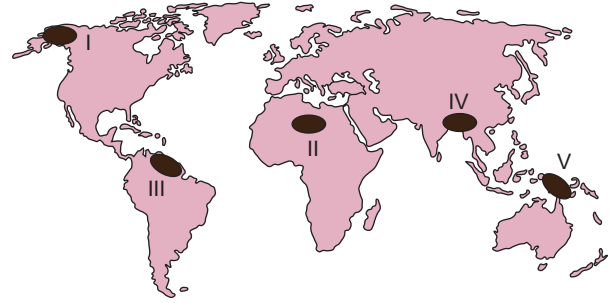
Yukarıdaki ekstrem olaylar kökenlerine göre ikiye gruplandırıldığında hangisi dışarıda kalır?

- A) Tsunami B) Taşkın
C) Meteor düşmesi D) Tropikal siklon
E) Kütle hareketleri

9. Yakın jeolojik zamanda oluşan ülkelerde deprem riski fazladır. Buna göre, aşağıda verilen ülkelerden hangisinde deprem olma ihtimali daha azdır?

- A) Türkiye B) İran C) Yunanistan
D) Japonya E) Avustralya

10.



Yukarıdaki haritada taralı olarak numaralanmış alanların hangisinde yüksek sıcaklık ve yağış azlığına bağlı olarak beşeri faaliyetlerde aksamalar daha fazla olur?

- A) I B) II C) III D) IV E) V

11.



Yukarıdaki kavram haritasında "?" işaretli yere aşağıdakilerden hangisi yazılabilir?

- A) Depremler B) Tropikal siklonlar C) Volkanizma
D) Tsunami E) Kütle hareketleri

12. Tropikal siklonlar, büyük çaplı ve çok şiddetli Beaufort ölçeğine göre saatte 118 km'den fazla hızla ve dönerek esen tropik rüzgârdır. Büyük Okyanus ve Güney Atlantik hariç subtropikal ve tropikal iklim kuşağındaki bütün sıcak denizlerde sık sık meydana gelir. Etkili oldukları bölgelerde farklı isimlerle anılırlar.

Yukarıda verilen bilgiler göz önüne alındığında aşağıdakilerden hangisi, tropikal rüzgârların görüldüğü yerler ve isimlerinden biri değildir?

- A) Hint Okyanusu'nda siklonlar
B) ABD ve Karayiplerde hurricaneler
C) Meksika Körfezi'nde musonlar
D) Güney Çin Denizi'nde tayfunlar
E) Latin Amerika'da tornadolar



TEST - 5

1. Aşağıda Türkiye'nin 1932 - 1950 yılları arası dönemde uyguladığı ekonomik politikalar numaralandırılarak verilmiştir.



Buna göre, kaç numaralı bilgi yanlış verilmiştir?

- A) I B) II C) III D) IV E) V

2. Mekansal farklılıkları azaltmak için bazı teşvikler yapılır. Buna göre, aşağıdakilerden hangisi Türkiye'deki mekânsal farklılıkları azaltmak için alınan teşviklerden biri değildir?

- A) Vergi indirimi
B) Arsa temini
C) Araç gereç alımında gümrük vergisi indirimi
D) Katma değer vergisi indirimi
E) Nakit yardımı

3. Aşağıda Türkiye'nin bazı doğal ve beşeri özellikleri numaralandırılarak verilmiştir.

- I. Hayvancılığa elverişli alanların fazla olması
II. Hidroelektrik potansiyelinin yüksek olması
III. Kış turizminin yapılabilmesi
IV. Yaylacılık faaliyetlerinin yaygın olması

Buna göre, yukarıdakilerden hangileri Türkiye'nin yüksek ve engebeli bir ülke olmasının ekonomik avantajlarından?

- A) Yalnız I B) Yalnız II C) I ve II
D) I, II ve III E) I, II, III ve IV

4. Dünya enerji ihtiyacının yarısından fazlası termik santrallerden karşılanmaktadır.

Buna göre, termik santrallerde enerji kaynağı olarak aşağıdakilerin hangisi kullanılmaz?

- A) Linyit B) Taş kömürü C) Doğal gaz
D) Rüzgâr gücü E) Asfaltit

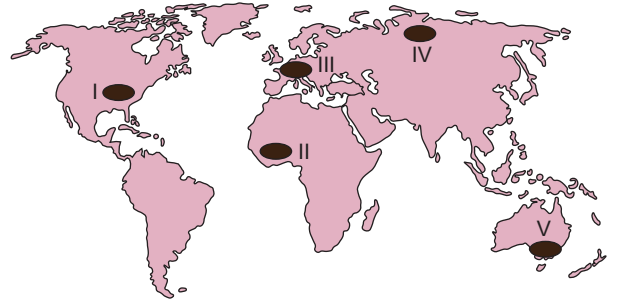
5. Aşağıdaki Türkiye haritasında beş bölge numaralandırılarak gösterilmiştir.



Buna göre, kaç numaralı bölgede kış turizmi daha çok gelişmiştir?

- A) I B) II C) III D) IV E) V

6. Aşağıdaki Dünya haritasında bazı alanlar taranarak verilmiştir.



Buna göre, yukarıdaki haritada numaralandırılmış taralı alanlardan hangisi zengin kömür yataklarına sahip değildir?

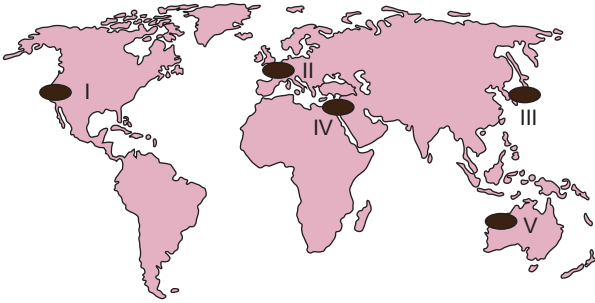
- A) I B) II C) III D) IV E) V

7. Türkiye ekonomisi bazı yıllarda Dünya'ya açılma sürecine girmiştir.

Buna göre, aşağıdaki dönemlerin hangisinde Türkiye ekonomisinin Dünya'ya açılma süreci hız kazanmıştır?

- A) 1923 - 1932 B) 1932 - 1950 C) 1950 - 1960
D) 1960 - 1980 E) 1980 sonrası

8. Aşağıdaki Dünya haritasında beş bölge taranarak numaralandırılmıştır.



Buna göre, yukarıdaki haritada numaralandırılmış taralı alanlardan hangisinde gelgit enerji potansiyeli daha azdır?

- A) I B) II C) III D) IV E) V

9. Aşağıdakilerden hangisi Türkiye'nin 1980'den sonraki dönemde uygulanan ekonomik politikalarından biri değildir?

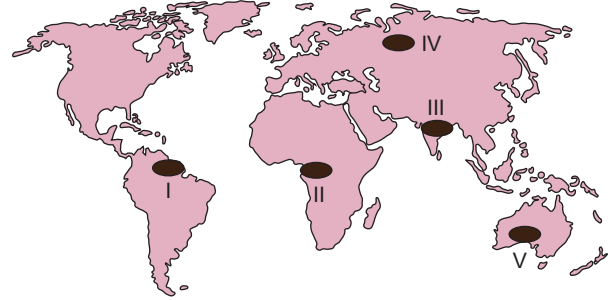
- A) Devletçilik politikası terkedilmiş özelleştirme politikaları benimsenmiştir.
B) Devlete ait sanayi kuruluşları özelleştirilmeye başlanmıştır.
C) Bölgeler arası gelişmişlik farkları azaltılmaya çalışılmıştır.
D) Bölgesel kalkınma projeleri uygulanmaya başlamıştır.
E) Ekonomide içe yönelme süreci başlamıştır.

10. Yer altından yüzeye sıkışan sıcak sular bir buhar kazanından birikerek enerjiye dönüştürülür.

Buna göre, aşağıdaki ülkelerin hangisi jeotermal sular bakımından zengin değildir?

- A) Endonezya B) Hollanda C) Türkiye
D) Yeni Zelanda E) İzlanda

11. Aşağıdaki Dünya haritasında bazı alanlar koyu renkle taranarak verilmiştir.



Buna göre, yukarıdaki haritada numaralandırılmış taralı alanlardan hangisi zengin ormanlık alanlara sahip değildir?

- A) I B) II C) III D) IV E) V

12. Petrol, hayvan fosillerinin yer altında birikmesiyle meydana gelir.

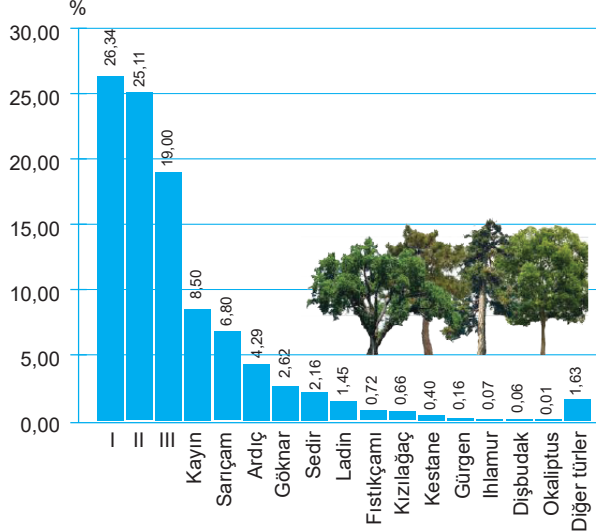
Buna göre, aşağıdaki ülkelerden hangisi petrol rezervi bakımından zengin değildir?

- A) Venezuela B) Suudi Arabistan C) Katar
D) Endonezya E) Almanya



TEST - 4

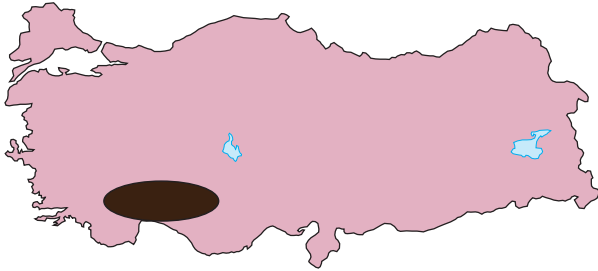
1. Aşağıdaki tabloda Türkiye'deki asli ağaç türlerinin ormanlık alanlara oranı verilmiştir.



Buna göre, tabloda yer alan I, II ve III numaralı alanlara aşağıdakilerden hangileri yazılmalıdır?

I	II	III
A) Kızılağaç	Meşe	Karaçam
B) Kızılağaç	Karaçam	Meşe
C) Meşe	Karaçam	Kızılağaç
D) Meşe	Kızılağaç	Karaçam
E) Karaçam	Meşe	Kızılağaç

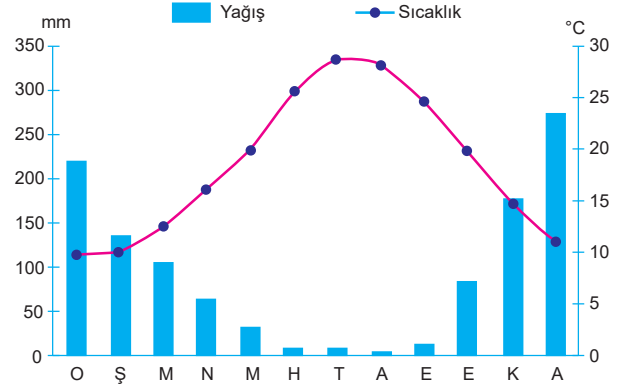
2. Aşağıdaki Türkiye haritasında orman yangınlarının çok sık karşılanan alanlar taranarak gösterilmiştir.



Buna göre, aşağıdakilerden hangisi taralı alanda orman yangınlarını azaltmak için alınacak önlemlerden biri değildir?

- A) Yangına müdahale edecek uçak filosu kurmak
B) Yangınların yayılmasını önleyecek şeritler açmak
C) Orman köylerindeki insanların bilinçlendirilmesi
D) Ormanlarda gözetleme kuleleri yapmak
E) Ormanlık alanları genişletmek

3. Aşağıda bir yöreye ait yıllık sıcaklık ve yağış ortalamaları grafiği verilmiştir.



Bu grafiğe göre bölgenin hakim doğal bitki örtüsü aşağıdakilerden hangisidir?

- A) Orman
B) Kızılağaç
C) Çayır
D) Bozkır
E) Kaktüs

4. Aşağıdaki grafikte Türkiye'deki ormanların dikey yöndeki dağılışı verilmiştir.



Buna göre, yukarıda bitki örtüsünün dikey dağılışı şartlarına bağlı olarak yaprak türlerine göre kuşaklar oluşmasının nedeni aşağıdakilerden hangisidir?

- A) Enlem
B) Ağaç genetiği
C) Yükselti
D) Jeolojik yapı
E) Bakı

5. Geçmişten bugüne kadar ormanlar çeşitli nedenlerle insanlar tarafından tahrip edilmiştir.

Buna göre, ormanların tahrip edilmesi sonucunda aşağıda verilen;

- I. erozyon,
- II. sellenme,
- III. yeşil alanlarda

durumlarından hangilerinde artış görülür?

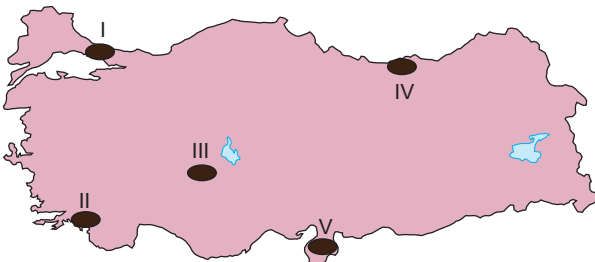
- A) Yalnız I
- B) Yalnız II
- C) I ve II
- D) I ve III
- E) I, II ve III

6. Orman alanlarını korumak, doğal çevre için temel gereksinimler arasındadır.

Buna göre, aşağıdakilerden hangisi Türkiye'de orman varlığını korumak amacı ile yapılacak çalışmalardan biri değildir?

- A) Orman köylülerini bilinçlendirmek
- B) Gözetleme kuleleri kurmak
- C) Kağıt ve kereste fabrikalarını sınırlamak
- D) Karma ağaçlar dikmek
- E) Orman içi yollar yapmak

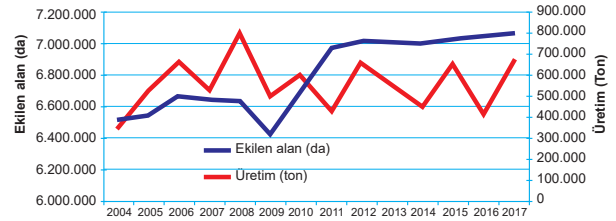
7. Aşağıdaki Türkiye haritasında beş alan taranarak numaralandırılmıştır.



Buna göre, yukarıda verilen numaralı alanlardan hangisinde tahrip edilen ormanların, kendi kendini yenileme süresi daha uzundur?

- A) I
- B) II
- C) III
- D) IV
- E) V

8. Aşağıdaki grafikte Türkiye fındık ekim alanı ve üretim miktarı verilmiştir.



Buna göre, yukarıdaki grafikteki bilgiler dikkate alındığında aşağıdaki yargılardan hangisi çıkarılabilir?

- A) Fındık üretimin en fazla olduğu yıl 2016'dır.
- B) Fındık tüketiminin en fazla olduğu yıl ile fındık üretiminin en fazla olduğu yıl paralellik gösterir.
- C) Fındık ekim ve üretiminin en az olduğu yıl 2009'dur.
- D) Fındık üretim ile ekim alan dönemleri arasındaki farkın en az olduğu yıl 2015'tir.
- E) Fındık üretiminin en fazla olduğu 2007 ile 2008 yılları arasındadır.

9. Aşağıdaki grafikte Türkiye ormanlarının bazı özellikleri verilmiştir.



Buna göre, Türkiye ormanları hakkında verilen yukarıdaki numaralandırılmış bilgilerden hangisi yanlıştır?

- A) I
- B) II
- C) III
- D) IV
- E) V



TEST - 4

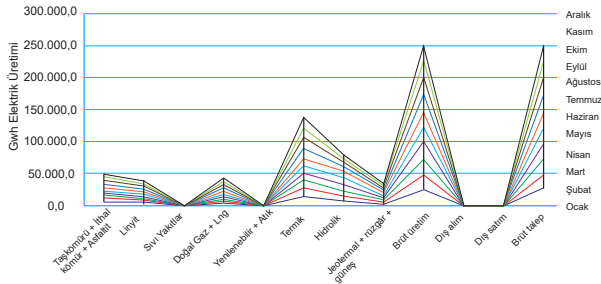
1. Aşağıdaki tabloda Türkiye'deki enerji kaynaklarının özellikleri numaralandırılarak verilmiştir.

I.	Termik enerji kaynaklarının kullanımı çevre kirliliğine neden olur.
II.	Hidroelektrik enerji, rüzgâr enerjisi ve güneş enerjisi üretimi iklim koşullarından etkilenir.
III.	Jeotermal enerji ve gelgit enerjisi üretimi iklim koşullarından etkilenmez.
IV.	Tükenebilir enerji kaynakları ile çalışan santraller enerji kaynaklarından uzak bir yere kurulabilir, ancak yenilenebilir enerji kaynakları ile çalışan santraller söz konusu enerji kaynağına yakın kurulmak zorundadır.
V.	Hidroelektrik enerji üretimi iklimden en az etkilenir.

Buna göre, yukarıdaki bilgilerden hangisi **yanlış** verilmiştir?

- A) I B) II C) III D) IV E) V

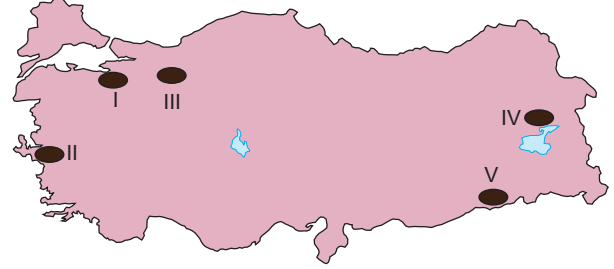
2. Aşağıdaki grafikte Türkiye'nin 2019 yılı ekim ayına kadar brüt elektrik üretiminin birincil enerji kaynaklarına göre aylık dağılımı verilmiştir.



Buna göre, yukarıdaki grafikteki bilgilerden yararlanarak aşağıdakilerden hangisi çıkarılabilir?

- A) Ekim ayı elektrik üretiminde hidroelektrik birinci sıradadır.
B) Dış satım elektrik üretiminde en fazla ithal kömür kullanılmıştır.
C) Haziran ayının elektrik üretiminde rüzgâr enerjisi ilk sıradadır.
D) Tüm aylarda elektrik üretiminin çoğunluğu termik santrallerden karşılanmıştır.
E) Doğal gazdan elektrik üretimi için enerji kaynağı ithal yollardan karşılanmıştır.

3. Aşağıdaki Türkiye haritasında bazı alanlar taranarak numaralandırılmıştır.



Buna göre, taralı olarak gösterilen alanlardan hangisinde jeotermal enerji potansiyeli **en azdır**?

- A) I B) II C) III D) IV E) V

4. Aşağıdaki Türkiye haritasında Çatalağzı Termik Santrali gösterilmiştir.



Buna göre, Çatalağzı Termik Santrali aşağıdaki enerji kaynaklarından hangisiyle çalışır?

- A) Taş kömürü B) Linyit C) Turba
D) Grafit E) Doğal gaz

5. Bazı sanayi kollarında kullanılan ham maddelerin bir kısmı ithal edilir.

Buna göre, Türkiye'de, aşağıdaki sanayi faaliyetlerinden hangisinin ham maddesi **daha çok** yurt dışından sağlanır?

- A) Bakır sanayi
B) Gübre sanayi
C) Gıda ürünleri sanayi
D) Toprak sanayi
E) Dokuma ve tekstil sanayi

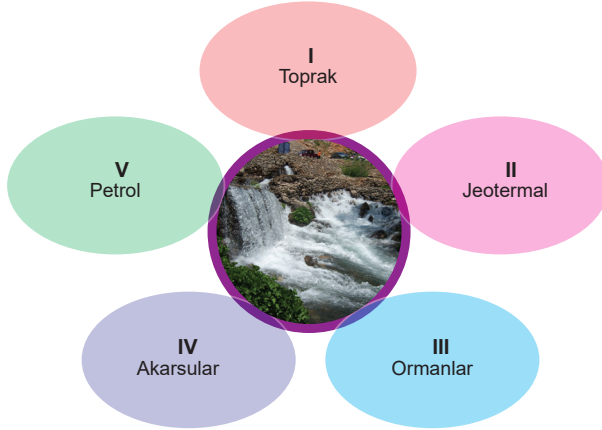
6. Aşağıdaki Türkiye haritasında bazı santraller taranarak gösterilmiştir.



Buna göre, yukarıdaki harita üzerinde verilen taralı santraller aşağıdaki enerji kaynaklarından hangisiyle çalışır?

- A) Linyit B) Demir C) Bakır
D) Petrol E) Doğal gaz

7. Aşağıdaki diyagramda Türkiye'nin sahip olduğu doğal kaynaklar numaralandırılarak verilmiştir.



Buna göre, kalkınmada doğal kaynakların etkisi göz önüne alındığında yukarıdaki doğal kaynaklardan hangisi Türkiye'nin kalkınmasında en az etkiye sahiptir?

- A) I B) II C) III D) IV E) V

8. I. Hamitabat
II. Seyitömer
III. Soma
IV. Yatağan
V. Tunçbilek

Yukarıda verilen termik santrallerden hangisi Batı Anadolu'da yer almaz?

- A) I B) II C) III D) IV E) V

9. I. Diyarbakır
II. Siirt
III. Batman

Yukarıdaki şehirlerimizden hangilerinde petrol çıkarımı yapılmaktadır?

- A) Yalnız I B) Yalnız II C) I ve II
D) I ve III E) I, II ve III

10. Aşağıdaki grafikte Türkiye'deki enerji kaynaklarının kullanım özellikleri numaralandırılarak verilmiştir.



Yukarıdakilerden hangisi Türkiye'nin enerjide dışa bağımlılığını azaltmak için yapılacak uygulamalardan biri değildir?

- A) I B) II C) III D) IV E) V

11. Sanayi kolları Anadolu'nun birçok yerinde yaygınlık kazanmıştır.

Buna göre, aşağıdaki ekonomik faaliyetlerden hangisi hem Batı Karadeniz hem de Doğu Karadeniz Bölümleri'nde yapılmaktadır?

- A) Şeker üretimi
B) Çay üretimi
C) Bakır üretimi
D) Demir - çelik sanayisi
E) Taş kömürü işletmesi



GENEL TEKRAR TESTİ - 2

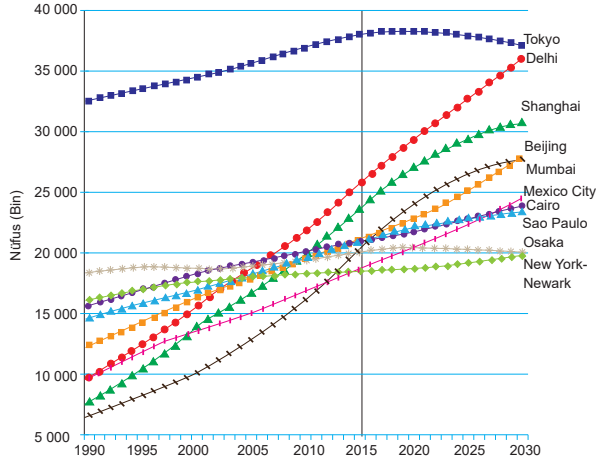
1. Miami, iklimi ve kumsallarıyla tanınan deniz turizmine bağlı gelişmiş bir turizm şehridir.



Buna göre, yukarıda bazı özellikleri verilen turizm şehri Dünya haritasında numaralandırılan alanların hangisinde yer alır?

- A) I B) II C) III D) IV E) V

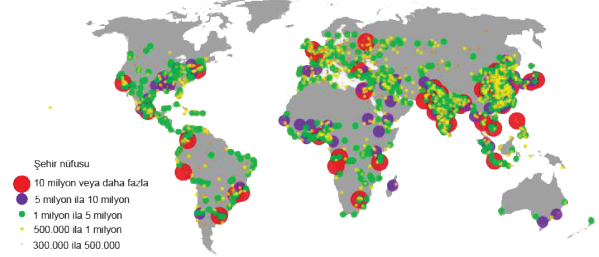
2. Aşağıdaki grafikte bazı şehirlerin 2030 yılına kadarki tahmini nüfusu ve nüfusun kentsel yığılma senaryoları verilmiştir.



Buna göre, yukarıdaki grafikten aşağıdaki yargılardan hangisi kesin olarak çıkarılabilir?

- A) Kentsel yığılmanın en fazla olduğu kıta Afrika'dır.
B) Kırsal yığılma ile kentsel yığılma farkının en az olduğu şehir Osaka'dır.
C) Kentsel yığılma hızının en fazla olduğu şehir Delhi'dir.
D) Tüm şehirlerde kentsel yığılma hızı sürekli artmıştır.
E) Kırsal yığılma oranı ile kentsel yığılma oranının en yüksek olduğu şehir New York'tur.

3. Aşağıdaki Dünya haritasında bazı kentsel yerleşmelerin 2030 yılı tahmini nüfus miktarları verilmiştir.



Buna göre, nüfusu 5 milyon ve üstü olan şehirlerin Kuzey Yarımküre'de fazla olmasının sebeplerinden biri aşağıdakilerden hangisidir?

- A) Elmas yataklarının fazla olması
B) Kara oranının fazla olması
C) Jeolojik yapılarının uygun olması
D) Batı rüzgârlarının etkisi altında olmaları
E) Yeni kıtaların Kuzey Yarımküre'de bulunması

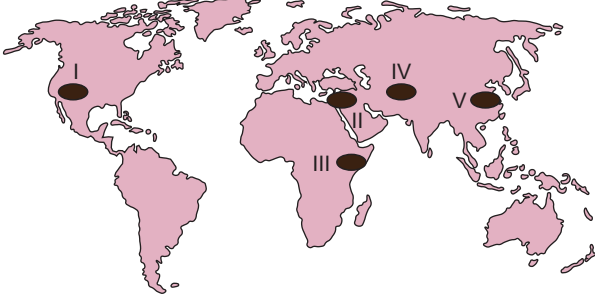
4. Aşağıdaki tabloda nüfus artış hızını artırmaya yönelik politikalar uygulayan bazı ülkelerin teşvikleri numaralandırılarak verilmiştir.

I.	Çocuk başına nakdi yardımın yapılması
II.	Reklamlarla çocuk sevgisinin ön plana çıkarılması
III.	Doğum kontrol yöntemlerinin yaygınlaştırılması
IV.	Çalışan kadınlara doğum öncesi ve sonrası ücretli izinlerin verilmesi
V.	Anne ve çocuk sağlığı merkezlerinin yaygınlaştırılması

Buna göre, yukarıda verilenlerden hangisi nüfusu artıran uygulamalardan değildir?

- A) I B) II C) III D) IV E) V

5. Kudüs, üç semavi din için önemli değerlere sahip olan kutsal bir şehirdir.



Buna göre, yukarıda bazı özellikleri verilen dini nitelikli şehir Dünya haritasında numaralandırılan alanların hangisinde yer alır?

- A) I B) II C) III D) IV E) V

6. Sanayileşmenin olumlu sonuçları olabileceği gibi olumsuz sonuçları da olabilir.

Buna göre;

- I. vergi gelirlerinin artması,
II. iş gücünün ucuzlaması,
III. nitelikli işgücü açığının ortaya çıkması

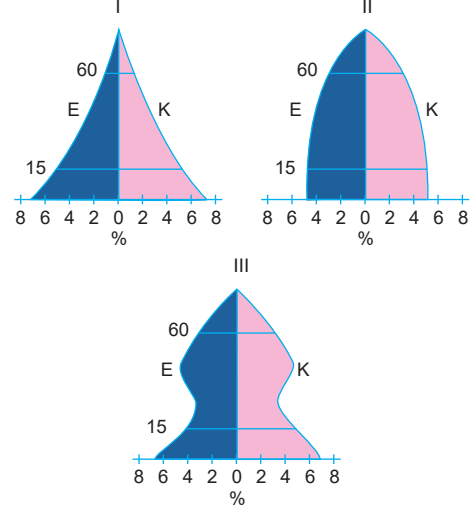
durumlarından hangileri genel olarak sanayileşmenin olumlu sonuçlarıdır?

- A) Yalnız I B) Yalnız II C) I ve II
D) I ve III E) I, II ve III

7. Dünya'da nüfusu 10 milyonu geçen şehirlerin en fazla Asya Kıtası'nda bulunmasında aşağıdakilerden hangisi en önemli faktördür?

- A) Yeraltı kaynakları bakımından zengin olması
B) Nüfus artış hızının yüksek olması
C) Yer şekillerinin sade olması
D) Verimli tarım arazilerinin bulunması
E) Sanayi faaliyetlerinin yoğun gerçekleşmesi

8. Aşağıdaki grafiklerde üç farklı ülkenin nüfus piramitleri gösterilmiştir.



Buna göre, yalnızca nüfus piramitlerinin özellikleri göz önüne alındığında, hangi ülkelerin son yıllarda düşük nüfus artış hızı karşısında, nüfus artış hızını artırıcı politikalar uygulayarak başarılı oldukları söylenebilir?

- A) Yalnız I B) Yalnız II C) Yalnız III
D) I ve III E) I, II ve III

9. Aşağıdaki tabloda üretim, dağıtım ve tüketim faaliyetlerini etkileyen faktörler verilmiştir.

I.	Temel ihtiyaçlar
II.	Gelir düzeyi
III.	Su kaynakları
IV.	Ulaşım
V.	Reklam ve moda

Buna göre, grafikteki bilgiler dikkate alındığında üretim, dağıtım ve tüketim faaliyetlerini etkileyen faktörlerden hangisi doğal faktördür?

- A) I B) II C) III D) IV E) V



GENEL TEKRAR TESTİ - 6

1. Coğrafya Öğretmeni Cavit Bey dersinde şehirlerin gelişim süreci konusunu numaralandırarak tahtaya yazmıştır.



Buna göre, Cavit Bey'in tahtaya yazdığı bilgilerden hangileri şehirlerin gelişim süreciyle ilgili doğru bilgidir?

- A) Yalnız I B) Yalnız II C) I ve II
D) I ve III E) I, II ve III

2. Coğrafya Öğretmeni Cemal Bey dersinde şehirlerin gelişimi konusunu işlerken öğrencilerine şu açıklamalarda bulunmuştur.

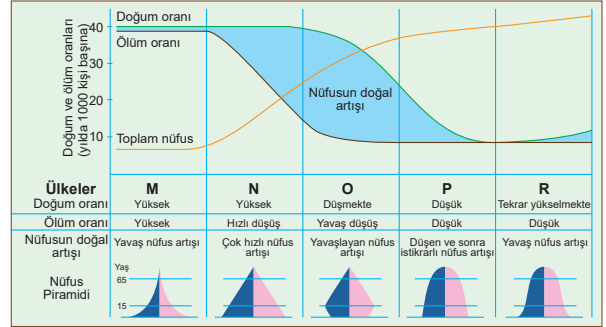
- Aztek Uygarlığı'na başkentlik yapmıştır.
- Tarım, ticaret, yönetim ve dini bakımdan önemlidir.
- 100.000 kişinin yaşadığı şehir 1521'de İspanyollar tarafından işgal edilmiştir.
- Güneş ve ay piramitleri bu şehri turizm şehri haline getirmiştir.



Buna göre, yukarıdaki görselde görüldüğü gibi Cemal Bey'in bahsettiği şehir aşağıdaki ülkelerden hangisinin sınırları içerisinde bulunur?

- A) Arjantin B) Brezilya C) Meksika
D) Kolombiya E) ABD

3. Aşağıdaki görselde demografik geçiş dönemleri verilmiştir.



Buna göre, demografik geçiş dönemleri verilen ülkelerle ilgili olarak aşağıdaki ifadelerden hangisi yanlıştır?

- A) M ülkesinde kişi başına kullanılan tıbbi ilaç miktarı az olup hekim başına düşen hasta sayısı genelde yüksek seyretmektedir.
- B) Ekonominin doğaya bağımlı olduğu N ülkesinde ihracat kalemlerinde yer alan birincil ekonomik faaliyetlerdeki ürünlerin yıllara göre dalgalanması fazladır.
- C) Genç nüfus efsanesinin azalmaya başladığı O ülkesinde ilerleyen yıllarda sanayide gerçekleşecek olan atılımların yeterli iş gücü ile desteklenmemesi durumunda ekonomik bir tedirginlik hali yaşanacaktır.
- D) P ülkesinde artan çocuk oranlarına bağlı olarak yapılan demografik yatırımlar ülkenin gayri safi milli hasılası içerisinde önemli derecede yer tutmuş, dinamik nüfusunu işlevsel hâle getirmiştir.
- E) R ülkesi ABD ve Kanada gibi ülkelerde uygulanan nüfusu artırıcı politikaları barındıran nicel ve nitel artışı simgeler.

4. Coğrafya Öğretmeni Azime Hanım dersinde tarihteki ilk şehirlerin ortak özelliklerini anlatırken aşağıdaki ifadeleri kullanmıştır.

- I. Nüfus miktarları azdır.
II. Ekonomi tarım ve ticarete dayanır.
III. İdari yapılanmalar meydana gelmemiştir.

Buna göre, Azime Hanım'ın kullandığı yukarıdaki ifadelerden hangileri doğrudur?

- A) Yalnız I B) Yalnız II C) I ve II
D) I ve III E) I, II ve III

5. Aşağıda, Dünya'da bazı şehirlerin fonksiyonel özelliklerini tanıtan görseller verilmiştir.



Buna göre, fonksiyonel özellikleri verilen bazı şehirler yukarıdaki Dünya haritasında taranarak gösterilen alanların hangisinde daha yoğun olarak görülür?

- A) I B) II C) III D) IV E) V

6. Aşağıdaki tabloda beş ülkedeki nüfusun yaş gruplarına göre dağılımı % olarak verilmiştir.

Ülkeler	0 - 14 yaş	15 - 64 yaş	65 yaş ve üzeri
I.	13	65	22
II.	25	70	5
III.	16	70	14
IV.	19	69	13
V.	14	71	14

Buna göre, hangi ülkede ortalama yaşam süresi daha kısadır?

- A) I B) II C) III D) IV E) V

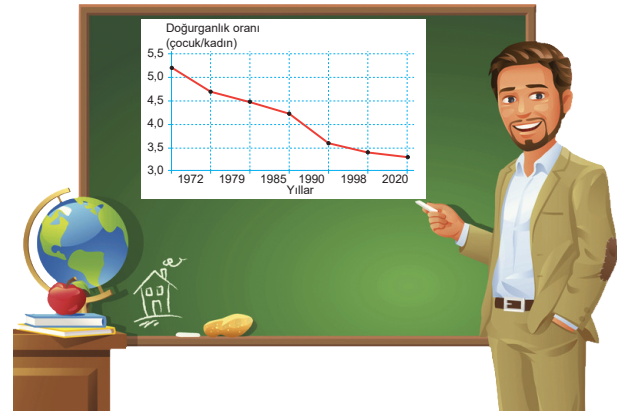
7. Aşağıdaki görselde bir grup öğrencinin bir ülkenin ekonomik yapısı hakkındaki araştırma sonucu verilmiştir.



Buna göre, ekonomik yapısı yukarıdaki gibi olan söz konusu ülke aşağıdakilerden hangisi olabilir?

- A) Hollanda B) Hindistan C) Endonezya
D) Kolombiya E) Meksika

8. Coğrafya Öğretmeni Kerem Bey tahtaya bir ülkenin 1974 – 2020 yılları arasında kadın başına düşen doğurganlık oranlarını gösteren grafiği çizmiştir.



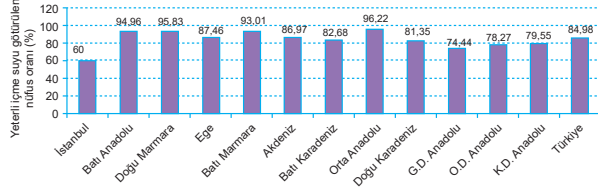
Buna göre, tahtadaki bilgiler gözönüne alındığında bu ülkeyle ilgili aşağıdakilerden hangisi kesin olarak söylenebilir?

- A) Aritmetik nüfus yoğunluğu artmıştır.
B) Ortanca yaş düşmüştür.
C) Tarımsal nüfus yoğunluğu artmıştır.
D) Bebek ölüm miktarı artmıştır.
E) Nüfus miktarı azalmıştır.



GENEL TEKRAR TESTİ - 9

1. Aşağıdaki grafikte Nuts Düzey 1 Bölgelerine göre yeterli içme suyu götürülen nüfus oranları verilmiştir.



Buna göre, Nuts Düzey 1 sınıflandırmasından İstanbul'un yeterli içme suyu nüfus oranının az olmasının temel nedeni aşağıdakilerden hangisi olabilir?

- A) Coğrafi konumu
B) Jeolojik yapısı
C) Nüfus artış hızı
D) Jeomorfolojik yapısı
E) Nüfus miktarı

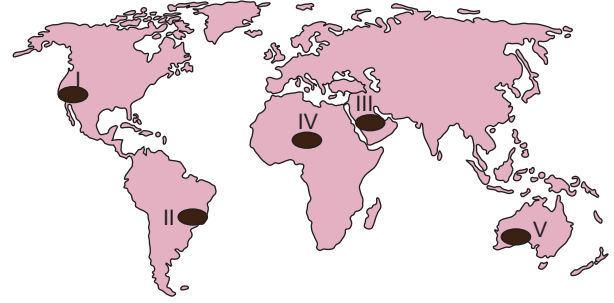
2. Coğrafya Öğretmeni Bilal Bey dersinde öğrencilerine bazı ülkelerin doğal kaynak potansiyelleri ve gelişmişlik düzeyleri hakkında soru sormuştur. Öğrencilerin verdiği cevapları aşağıdaki görselde sembolize edilmiştir.



Buna göre, yukarıdaki dört öğrencinin verdiği cevaplar aşağıdaki ülkelerden hangilerine ait olabilir?

- | | I | II | III | IV |
|----|------------|-----------|-----------|-----------|
| A) | Moğolistan | Japonya | Nijerya | ABD |
| B) | Japonya | Nijerya | ABD | Hindistan |
| C) | Çin | Hindistan | Almanya | Nijerya |
| D) | Moğolistan | Japonya | ABD | Nijerya |
| E) | Ermenistan | Japonya | Hindistan | Pakistan |

3. Agro turizm; kırsal çevreyle, ürünle ve konaklamayla bağlantılı bir çiftlikte, kampta veya pansiyonda konaklama, eğitsel gezi, yeme - içme, rasyonel faaliyetler ve çiftlikte ürün ve el sanatlarının satılmasıyla ilişkili faaliyetler bütününe denir.



Buna göre, yukarıdaki Dünya haritasında işaretli alanların hangisinde agro turizm daha yaygın olarak yapılır?

- A) I B) II C) III D) IV E) V

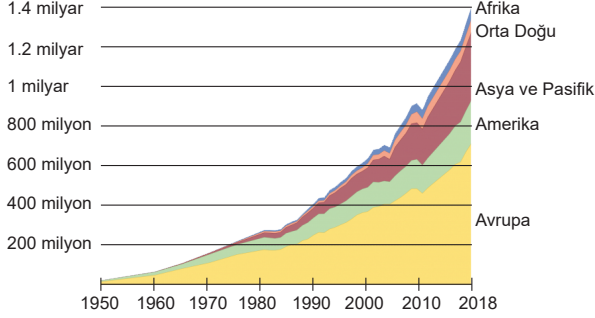
4. Aşağıdaki tabloda ülkemizde turunçgil üretiminde ilk sırada yer alan şehirler gösterilmiştir.

Ürünler	İller	Türkiye üretimindeki payı (%)
Portakal	Antalya	27,7
	Adana	23,9
Mandalina	Hatay	40,2
	Adana	29,2
Limon	Mersin	69
Greyfurt	Adana	77

Buna göre, turunçgil üretiminin bu şehirlerde yoğunluk göstermesinin temel sebebi aşağıdakilerden hangisi olabilir?

- A) Sıcaklık ve yağış koşulları
B) Sıcaklık ve bitki örtüsü
C) Yer şekilleri ve sıcaklık
D) Bitki örtüsü ve yer şekilleri
E) Bakı faktörü ve sıcaklık koşulları

5. Aşağıdaki grafikte uluslararası turizmde turistlerin varış miktarları bölgelere ve yıllara göre milyon kişi olarak verilmiştir.



Buna göre, Afrika'da uluslararası turist sayısının tüm yıllarda az olmasının temel sebebi aşağıdakilerden hangisi olabilir?

- A) Yer şekli ve tanıtım eksikliği
 B) Can güvenliği ve tanıtım eksikliği
 C) Uzak olması ve can güvenliğinin az olması
 D) Kültürel yapı ve ekonomik durum
 E) Sermaye ve pahalı oluşu

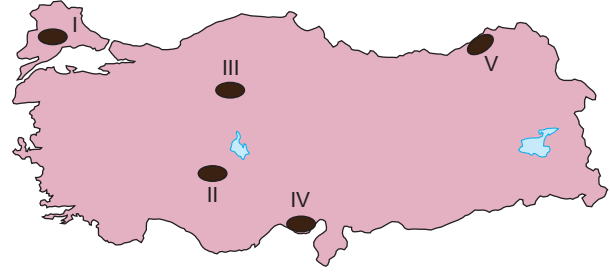
6. Aşağıdaki tabloda bazı illerde yaygın olan sanayi tesisleri verilmiştir.

İl	Sanayi Tesisi
Adana	Pamuklu Dokuma, Hazır Giyim
Kocaeli	Yünlü Dokuma, Hazır Giyim, Halı ve Kilim
İzmir	Hazır Giyim, Deri Yünlü Dokuma, Pamuklu Dokuma
İstanbul	Deri, Hazır Giyim, Pamuklu Dokuma, İpekli Dokuma

Buna göre, İzmir'de yukarıdaki sanayi tesislerinin kuruluşunda etkili olan faktörler aşağıdakilerin hangisinde doğru olarak verilmiştir?

- A) Ulaşım ve pazarlama
 B) Ham madde ve pazarlama
 C) Ulaşım ve ham madde
 D) İş gücü ve ham madde
 E) Sermaye ve ham madde

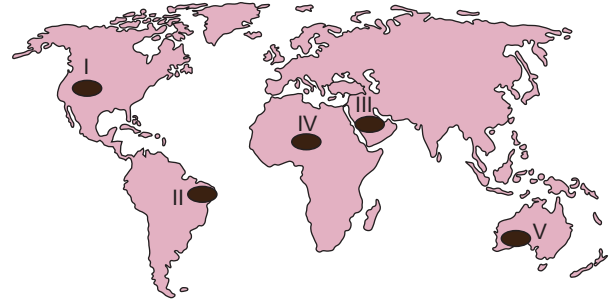
7. Aşağıdaki görselde kırsal yerleşim birimlerinden kesit verilmiştir.



Buna göre, sembolize edilen kırsal yerleşim birimi faaliyetinin yukarıdaki Türkiye haritasında taranarak numaralandırılan alanların hangisinde yaygın olarak görülmesi beklenmez?

- A) I B) II C) III D) IV E) V

8. Teknolojik gelişmelere bağlı olarak yeni icatların yapılması bazı doğal kaynakların önem kazanmasına sebep olmuştur.



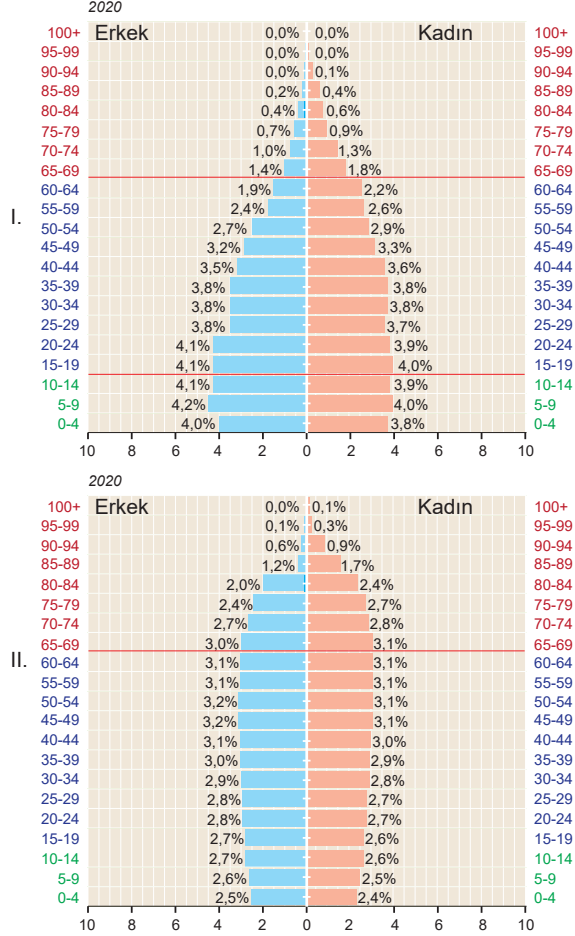
Buna göre, matbaanın icadı ile önemi artmış olan doğal kaynak yukarıdaki Dünya haritasında numaralı alanların hangisinde yaygın olarak bulunduğu söylenebilir?

- A) I B) II C) III D) IV E) V



TEST - 2

1. Aşağıda iki ülkenin nüfuslarının yaş gruplarına dağılım grafiği gösterilmiştir.



Buna göre, grafikteki bilgilere göre;

- I. yaşlı nüfus oranı,
II. nüfus artış hızı,
III. gelişmişlik düzeyi

niceliklerinden hangileri II. ülkede **daha fazladır**?

- A) Yalnız I B) Yalnız II C) I ve II
D) I ve III E) I, II ve III

2. Ekonomisi tarıma dayalı bazı ülkelerde ihracat ve ithalat hacmi sınırlıdır. Bunun sonucunda bu ülkeler dış ticaret dengesinde sürekli açık verirler.

Buna göre, aşağıdaki ülkelerden hangisinin dış ticaretinin **daha fazla** açık vermesi beklenir?

- A) Güney Kore B) Hollanda
C) Rusya Federasyonu D) Fransa
E) Nepal

3. Bir ülkede ulaşımın niteliği ve niceliği söz konusu ülkenin gelişmişliği ile doğru orantılıdır.

Buna göre, aşağıda verilen ülkelerden hangisinde ulaşım faaliyetleri **daha fazla** gelişmiştir?

- A) Kosova B) Romanya C) Bulgaristan
D) Almanya E) Ukrayna

4. Batı Avrupa ülkeleri akarsularda ulaşım ve taşımacılıktan yararlanmaktadır.

Buna göre, bu durum Batı Avrupa ülkelerindeki akarsuların hangi özelliğinin bir sonucudur?

- A) Yatak genişliği B) Akım miktarı
C) Akarsu rejimi D) Yatak eğimi
E) Jeolojik yapı

5. Aşağıdaki tabloda ülkelerin bazı özellikleri numaralandırılarak verilmiştir.

I.	Tarımsal nüfus yoğunlukları
II.	Ortanca yaşları
III.	İklim özellikleri
IV.	Nüfus miktarları
V.	Yer şekilleri

Buna göre, Fransa ve Pakistan'ın gelişmişlik düzeyleri yukarıdakilerden hangilerine bakılarak anlaşılabilir?

- A) I B) II C) III D) IV E) V

6. Aşağıdaki grafikte bir ülkenin bazı özellikleri verilmiştir.



Buna göre, görselde bazı özellikleri verilen ülke aşağıdakilerden hangisidir?

- A) Brezilya B) Hollanda C) Çin
D) Mısır E) Yunanistan

Teknolojik Gelişmelerin Etkileri ve Ülkelerin Gelişmişlik Düzeyleri

7. Aşağıdaki tabloda Almanya ve Hollanda'nın bazı ortak özellikleri numaralandırılarak gösterilmiştir.

I.	Batı Avrupa'da yer alırlar.
II.	Modern hayvancılık gelişmiştir.
III.	Ilıman okyanusal iklim görülür.
IV.	Atlas Okyanusu'na kıyıları vardır.
V.	Tarımda ekstansif yöntemler kullanılır.

Buna göre, yukarıdakilerden hangisi Almanya ve Hollanda'nın ortak özellikleri arasında değildir?

- A) I B) II C) III D) IV E) V

8. Uzak Doğu'da adalar üzerinde yer alır. Türkiye ile ticari ilişkileri gelişmiştir.

Buna göre, yukarıda bazı özellikleri verilen ülke aşağıdakilerden hangisidir?

- A) Güney Kore B) Japonya
C) Çin D) Rusya Federasyonu
E) Avustralya

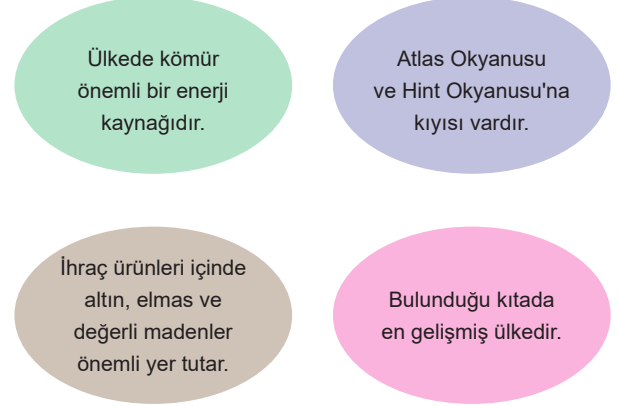
9. Aşağıdaki tabloda bir ülkenin bazı özellikleri gösterilmiştir.

Ülke genelinde muson iklimi etkilidir.
Yer altı kaynakları bakımından zengindir.
Dünya'nın en kalabalık ülkelerindedir.
Tarımda ilkel yöntemleri kullanılır.

Buna göre, öncülde özellikleri verilen ülke aşağıdakilerden hangisidir?

- A) Hindistan B) Endonezya C) Japonya
D) Sri Lanka E) Avustralya

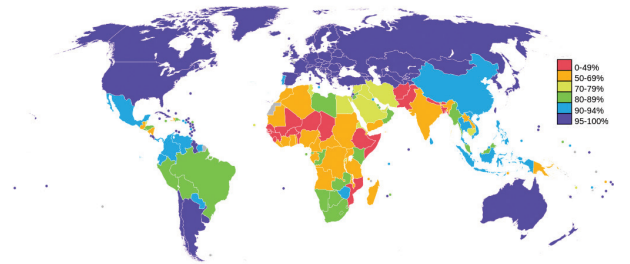
10. Aşağıdaki grafikte bir ülkenin bazı özellikleri verilmiştir.



Buna göre, yukarıda özellikleri verilen ülke aşağıdakilerden hangisidir?

- A) Güney Afrika Cumhuriyeti
B) Nijerya
C) Rusya Federasyonu
D) Avustralya
E) Hindistan

11. Aşağıdaki Dünya haritasında ülkelerin okuryazar oranları gösterilmiştir.



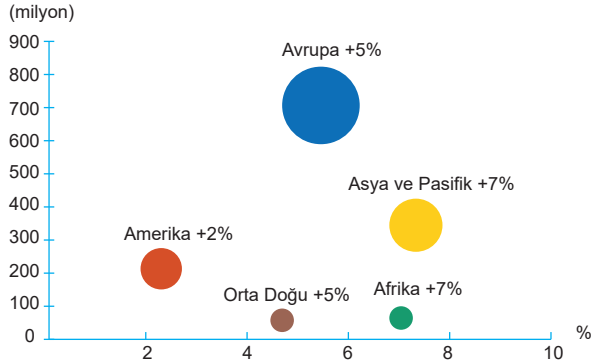
Buna göre, ülkelerin okuryazar oranlarının farklı olmasının temel sebebi aşağıdakilerden hangisi olabilir?

- A) Coğrafi konumları
B) Gelişmişlik düzeyleri
C) Jeolojik yapıları
D) İklim özellikleri
E) Ulaşım özellikleri



GENEL TEKRAR TESTİ - 2

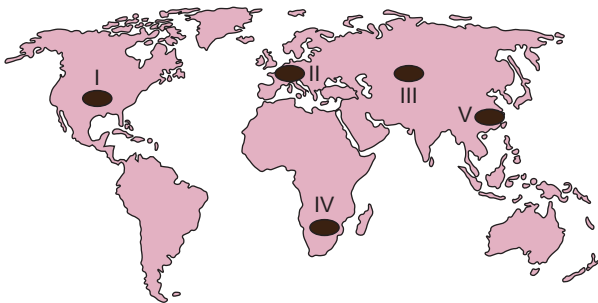
1. Aşağıdaki grafikte 2019 yılı bölgelere göre uluslararası turist varış sayıları ve yüzdeleri verilmiştir.



Buna göre, uluslararası turizmde en fazla turist Avrupa'ya gitmesinin temel nedeni aşağıdakilerden hangisi olabilir?

- A) Tanıtım ve reklam faaliyetleri
- B) Litolojik ve morfolojik yapıları
- C) Nüfus miktarlarının fazla olması
- D) Sanayileşme düzeyinin yüksek olması
- E) Yeraltı kaynakları bakımından zengin olmaları

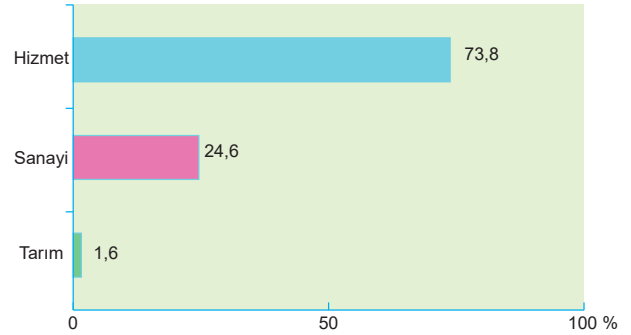
2. Biyosfer rezervleri biyolojik çeşitliliğin korunması, ekonomik kalkınma ve kültürel değerlerin devamlılığı arasındaki çatışmaların sürdürülebilir bir şekilde çözülmesine dönük temel bir yaklaşımdır.



Buna göre, yukarıdaki Dünya haritasında taranarak verilen bölgelerin hangisinde biyosfer rezerv alanı daha fazladır?

- A) I
- B) II
- C) III
- D) IV
- E) V

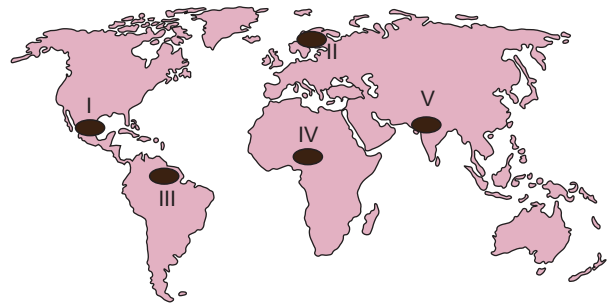
3. Aşağıdaki grafikte bir ülkede çalışan nüfusun ekonomik sektörler göre dağılımı verilmiştir.



Buna göre, çalışan nüfusun ekonomik sektörler göre dağılımı verilen ülke aşağıdakilerden hangisi olabilir?

- A) Hindistan
- B) Almanya
- C) Nijerya
- D) Çin
- E) Tayland

4. İnsani Gelişme Göstergesi, Dünya'daki ülkeler için yaşam uzunluğu, okur yazar oranı, eğitim ve yaşam düzeyi doğrultusunda hazırlanan bir ölçümdür. İnsanların yüksek standartlarda yaşaması, özellikle çocuk hakları için bir ölçüt teşkil eder. Bu araştırma sonucunda bir ülkenin gelişmiş, gelişmekte olan ya da gelişmemiş bir ülke olduğu; bunun yanı sıra ekonomisindeki etkinin yaşam niteliğini yüksek düzeyde etkilediğini gösterir.



Buna göre, yukarıdaki Dünya haritasında işaretli alanların hangisinde İnsani Gelişme Göstergesi daha yüksektir?

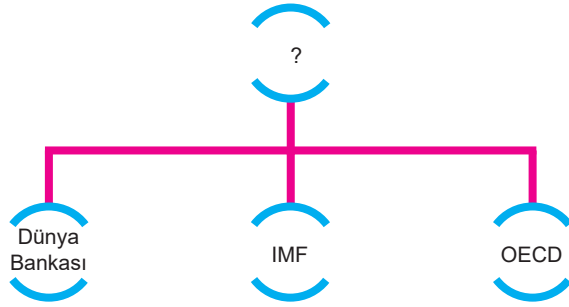
- A) I
- B) II
- C) III
- D) IV
- E) V

5. Aşağıda bir ülkenin bazı özellikleri verilmiştir.
- Dünya'nın önde gelen ihracatçılarındandır.
 - Toplam gelirin %73'ünü hizmet sektörü, %24'ünü endüstri alanları ve %1.6'sını tarım sektörü oluşturmaktadır.
 - Üretilen ürünlerin büyük çoğunluğunu otomobil, makine, metal sanayi ve kimyasal madde ürünleri oluşturmaktadır.
 - Kömür, demir - çelik üretimi çok fazladır. Ülke Dünya'da sanayide önde gelen ülkelerindedir.
 - Demir - çelik üretiminde Dünya'da ön sıralardadır.
 - Ülke dış ticarete Avrupa'da birinci, Dünya'da ise ABD'den sonra 2. sıradadır.
 - Türkiye'nin dış ticaretinde ilk sırada yer almaktadır.
 - Ülke, rüzgâr enerjisini ve güneş enerjisini Dünya'da en çok kullanan ülkedir.

Buna göre, bazı özellikleri verilen ülke aşağıdakilerden hangisidir?

- A) Almanya B) Fransa C) İsveç
D) Norveç E) Rusya

6. Aşağıdaki grafikte bazı örgütler gösterilmiştir.



Buna göre, grafikteki "?" işaretli alana aşağıdakilerden hangisinin yazılması daha doğru olur?

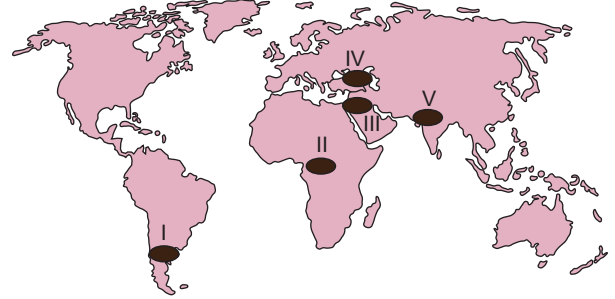
- A) Küresel siyasi örgütler
B) Bölgesel ekonomik örgütler
C) Küresel çevre örgütleri
D) Bölgesel çevre örgütleri
E) Küresel ekonomik örgütler

7. Birleşmiş Milletler Genel Kurulu'na bağlı birçok yardımcı organ vardır.

Buna göre, aşağıdakilerden hangisi Birleşmiş Milletler Genel Kurulu'nun yardımcı organlarından biri değildir?

- A) UNESCO B) WHO C) ILO
D) FAO E) NAFTA

8. Aşağıdaki Dünya haritasında beş bölge numaralandırılarak gösterilmiştir.



Buna göre, harita üzerinde taranarak numaralandırılan bölgelerin hangisi Dünya'daki sıcak çatışma bölgelerinden değildir?

- A) I B) II C) III D) IV E) V

9. Aşağıdaki Dünya haritasında bir bölge taranarak gösterilmiştir.



Buna göre, dünya haritası üzerinde taranarak gösterilen alanın günümüzde sıcak çatışma bölgesi olmasındaki temel etken aşağıdakilerden hangisidir?

- A) Su kaynakları B) Enerji kaynakları
C) Sınır anlaşmazlıkları D) Ulaşım yolları
E) Kültürel baskı

10. Türkiye uluslararası platformlardaki etkinliğini arttırmak için bölgesel ve küresel birçok yapılanmaya üye olmuştur.

Buna göre, aşağıdakilerden hangisi Türkiye'nin üyesi olduğu organizasyonlardan biri değildir?

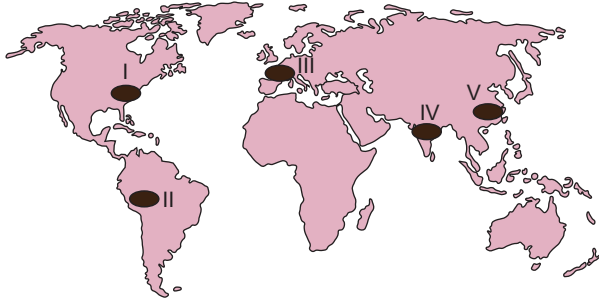
- A) Birleşmiş Milletler
B) Avrupa Güvenlik ve İş Birliği Teşkilatı
C) Uluslararası Para Fonu
D) Dünya Bankası
E) Kuzey Amerika Serbest Ticaret Bölgesi



GENEL TEKRAR TESTİ - 7

1. Aşağıdaki tabloda bir ülkenin bazı özellikleri verilmiştir.

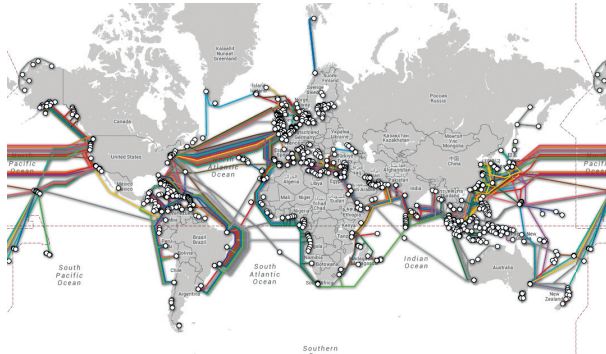
- Ülke genelinde muson iklimi etkilidir.
- Dünyanın en kalabalık ülkelerindendir.
- Tarımın gayri safi milli hasıla içindeki payı fazladır.
- Yer altı kaynakları yönüyle zengindir.



Buna göre, bazı özellikleri verilen ülke yukarıdaki Dünya haritasında işaretli alanların hangisinde yer alır?

- A) I B) II C) III D) IV E) V

2. Aşağıdaki Dünya haritasında internet alt yapısı gösterilmiştir.



Buna göre, internet alt yapısının yoğun olduğu alanlarla aşağıdakilerden hangisi paralellik gösterir?

- A) Gelişmişlik düzeyi
B) İklim koşulları
C) Mutlak konum özellikleri
D) Jeolojik yapıları
E) Jeomorfolojik yapıları

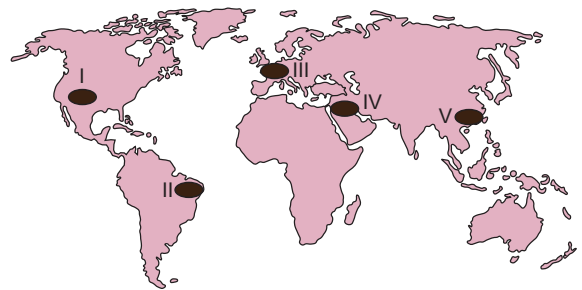
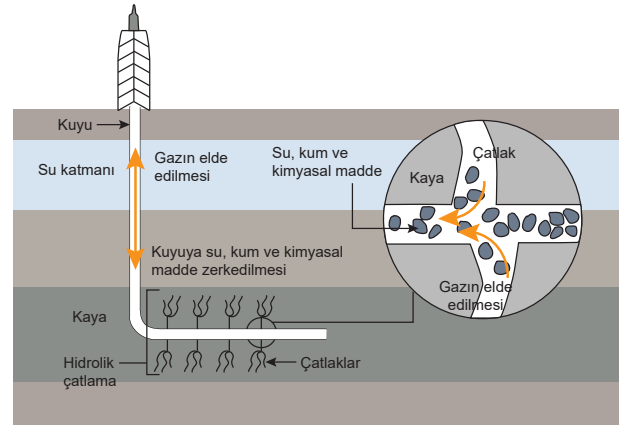
3. Aşağıdaki tabloda bazı örgütler ve çalışma alanları karışık olarak verilmiştir.

- | | |
|-------------------------------------|-------------|
| a) Yeşil Barış Örgütü | x) Çevre |
| b) Petrol İhraç Eden Ülkeler Örgütü | y) Siyasi |
| c) Birleşmiş Milletler | z) Ekonomik |

Buna göre, tablo üzerinde verilen bilgilerin doğru sıralaması aşağıdakilerin hangisinde doğru olarak verilmiştir?

- A) a) y - b) x - c) z B) a) x - b) y - c) z
C) a) z - b) x - c) y D) a) x - b) z - c) y
E) a) y - b) z - c) x

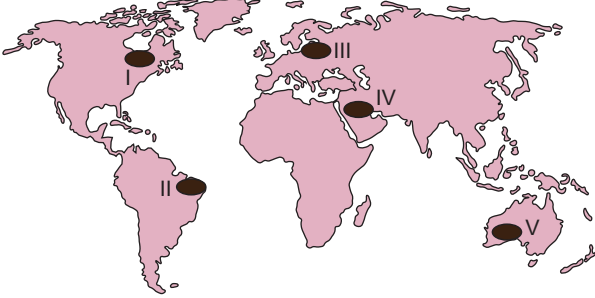
4. Devonik şeyl gaz, organik madde yönünden zengin kil ile kuvars ve kalsit minerallerinden oluşan tortul kayacın küçük gözeneklerinde bulunan ve yatay sondaj ile hidrolik kırma yöntemleriyle yer yüzüne taşınabilen doğal kaynaktır. Aşağıdaki görselde devonik şeyl gaz çıkarımı gösterilmiştir.



Buna göre, yukarıdaki Dünya haritasında işaretli alanların hangisinde devonik şeyl gaz rezervi daha fazladır?

- A) I B) II C) III D) IV E) V

5. Çevre ve kimyasal kirlilik ekonomik faaliyetleri de olumsuz şekilde etkilemektedir.



Buna göre, plantasyon tarımının ticari ve sanayi amaçla, büyük ölçekli bitki üretimi endeksli kullanılan tarımsal alan ve işletmeleri ifade ettiği bilindiğine göre, yukarıdaki Dünya haritası üzerinde verilen alanların hangisinde sözü edilen durumdan ötürü plantasyon tarımı daha çok zarar görür?

- A) I B) II C) III D) IV E) V

6. Coğrafya Öğretmeni Kayahan Bey, örgütler konusunu işleyen öğrencilerine G - 20'ye üye ülkelerin ortak özelliklerini sormuştur. Üç öğrenci söz alarak aşağıdaki cevapları vermiştir.



Buna göre, hangi öğrencilerin doğru cevap verdiği söylenebilir?

- A) Yalnız I B) Yalnız II C) I ve II
D) II ve III E) I, II ve III

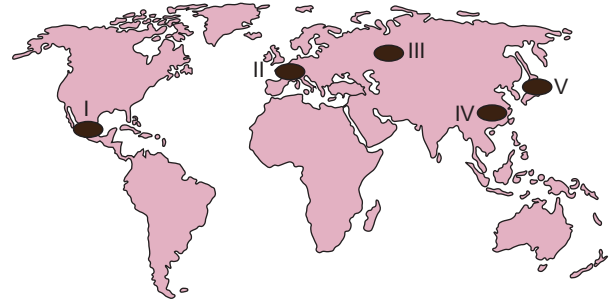
7. Aşağıdaki grafikte toprağın bazı kullanım alanları verilmiştir.

- Tuğla, cam ve çimento fabrikalarında yaygınlaşması
- İnsanların yerleşik hayata geçmesiyle birlikte tarımda yoğunlaşması
- Kilin, çömlek ve porselen yapımında kullanılması

Buna göre, yukarıdaki bilgiler göz önüne alındığında, toprağın kullanım alanının yaygınlaşması aşağıdakilerden hangisine neden olmuştur?

- A) Toprağın öneminin artmasına
B) Toprağın sanayide yaygın olarak kullanılmasına
C) Tarım alanlarının genişlemesine
D) Toprağın enerji kaynağı olarak kullanılmasına
E) Toprağın aşırı kullanımıyla birlikte çevre kirliliğinin artmasına

8. Endüstriyel robotlar geleceğin Dünya'sında tüm endüstriyel sektörlerde ve orta ölçekli şirketlerde kullanılabilir hâle gelecektir. Uzmanlarca ön görülen duruma göre gelecek elli yıl içinde robot işçiler endüstride büyük oranda görev alacaktır.



Buna göre, yukarıdaki Dünya haritasında işaretli alanların hangisinde sözü edilen durum belirgin olarak görülmez?

- A) I B) II C) III D) IV E) V



GENEL TEKRAR TESTİ - 5

1. "Gelecek nesillere aktarılması gereken eşsiz doğal güzellikler, tarihsel ve kültürel değerler doğal ve kültürel miras olarak adlandırılır. Bu değerler geçmişe ışık tutan, insanlığın ortak hafızası olarak kabul edilir. Birleşmiş Milletler Eğitim, Bilim ve Kültür Örgütü (UNESCO) tarafından Dünya Kültürel ve Doğal Mirasının Korunmasına Dair Sözleşme'nin kabul edilmesiyle insanlığın ortak doğal ve kültürel mirasının korunması ve gelecek kuşaklara aktarılması yolunda adım atılmıştır. Buna göre yer aldığı ülke tarafından korunması garanti edilen ve "üstün evrensel değere" sahip bütün kültürel ve doğal varlıklara dünya mirası, bu varlıkların yer aldığı listeye ise Dünya Miras Listesi adı verilir. Bu uygulama, doğal ve kültürel mirasların korunması yolunda devlet yönetimine sorumluluk vermiş de doğal ve kültürel miraslara yönelik tehlikeler devam etmektedir." (dünyaatlası.com)

I.	Madencilik faaliyetleri
II.	Gelen turist sayısının artması
III.	Yasa dışı avlanmalar

Buna göre, metinde verilen internet haberi dikkate alındığında yukarıdakilerden hangisi doğal ve kültürel miraslara yönelik tehlikelerin başlıca nedenleridir?

- A) Yalnız I B) Yalnız II C) I ve II
D) I ve III E) I, II ve III

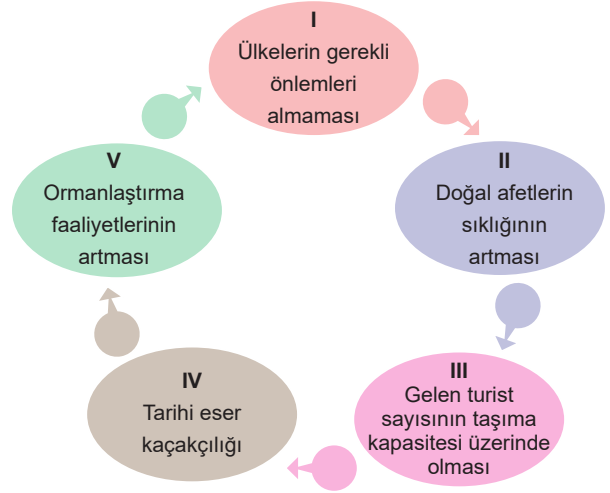
2. Coğrafya Öğretmeni Selin Hanım dersinde öğrencilerine "nüfusun artmasıyla beraber doğa üzerindeki baskı da artmaktadır." demiştir.



Buna göre, gelecekte doğa üzerindeki baskıyı azaltmak için yukarıdakilerden hangilerinin yapılması daha doğru olur?

- A) Yalnız I B) Yalnız II C) I ve II
D) II ve III E) I, II ve III

3. Aşağıdaki grafikte doğal ve kültürel mirasları tehdit eden başlıca faktörler verilmiştir.



Buna göre, yukarıdakilerden hangisi doğal ve kültürel mirasları tehdit eden başlıca etkenlerden biri değildir?

- A) I B) II C) III D) IV E) V

4. Aşağıdaki görselde bazı çevre sorunlarının nedenleri gösterilmiştir.



Buna göre, görselleri verilen çevre sorunlarını en aza indirmek için aşağıdakilerden hangisinin yapılması daha doğru olur?

- A) Ormansızlaştırma faaliyetlerine önem verilmesi
B) Tüklenen doğal kaynakların kullanımının yaygınlaştırılması
C) Termik enerji santrallerinin kullanımının yaygınlaştırılması
D) Nükleer enerji santrallerinin yoğunlaştırılması
E) Sürdürülebilir doğal kaynak kullanımının yaygınlaştırılması

5. Sulak alanlar, yeryüzünün en zengin ve en üretken ekosistemlerini oluşturmaktadır. Bu alanlar yöre insanlarına ve ülkenin geneline geniş yelpazede hizmet veren oldukça karmaşık doğal sistemlerdir. Yeryüzündeki başka hiçbir ekosistemle karşılaştırılmayacak ölçüde işlev ve değerlere sahiptir.



Buna göre, yukarıdaki dünya haritasında taranarak numaralandırılan bölgelerin hangisinde sulak alanlar daha geniş yer tutar?

- A) I B) II C) III D) IV E) V

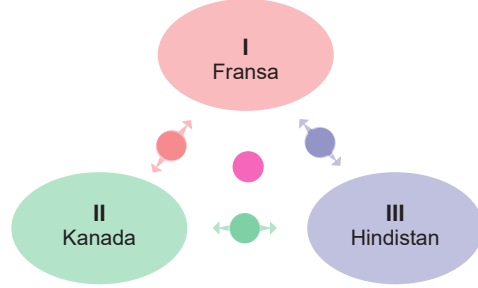
6. Aşağıdaki görselde Tayvan'daki Taipei Yehliu Heshigten Küresel Jeoparkı'ndan bir kesit gösterilmiştir.



Buna göre, bir bölgenin jeopark olarak ilan edilmesindeki temel özellik aşağıdakilerden hangisidir?

- A) Jeolojik yapının kriterlere uygun olması
B) Yer yapısının karstik olması
C) İkliminin ılıman olması
D) Bitki örtüsünün gür olması
E) Bölgenin kırsal kesimde yer alması


7. Çevre eğitimi, çevrenin korunması için tutumların, değer yargılarının, bilgi - becerilerin geliştirilmesi, çevre dostu davranışların gösterilmesi ve bunların sonuçlarının görülmesi sürecidir.



Buna göre, yukarıdaki ülkelerden hangileri çevre eğitiminin gereklerini yeterince benimsemiş olabilir?

- A) Yalnız I B) Yalnız II C) I ve II
D) II ve III E) I, II ve III

8. Coğrafya Öğretmeni Deniz Hanım dersinde Sürdürülebilir, Kalkınma modelini açıklarken: "Sevgili arkadaşlarım sürdürülebilir kalkınma modeli, gelişen teknolojiye yararlanarak kaynak üretimi ve tüketimi arasında denge oluşturma faaliyetleridir." demiş ve sonrasında öğrencilerinden sürdürülebilir kalkınma modelinin amaçlarını sormuştur.



Buna göre, yukarıdaki öğrencilerden hangilerinin verdiği cevap sürdürülebilir kalkınma modelinin amaçları arasında yer alır?

- A) Fatma B) Zehra C) Poyraz
D) Zehra ve Poyraz E) Fatma, Zehra ve Poyraz