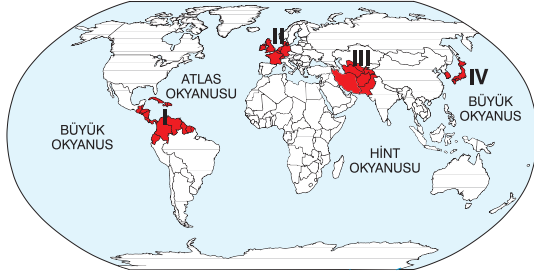




2E033769

COĞRAFYA DENEMESİ - 1

1. Doğada meydana gelen olayların afet olarak nitelendirilebilmesi, insanların bu olaylardan olumsuz etkilenmeleri durumunda söz konusu olur. Örneğin insanların bulunmadığı ya da gerekli tedbirlerin alındığı bir alanda meydana gelen deprem, insanları olumsuz etkilemediği sürece afet sayılmaz. Afetlerin herhangi bir bölgede yol açtığı sonuçları afetin büyüklüğü, nüfus yoğunluğu, yapılaşma özellikleri ve ekonomik gelişmişlik düzeyi gibi faktörler etkiler.



Buna göre, Richter ölçeğine göre 6 büyüklüğündeki bir depremin, haritada numaralandırılan bölgelerin hangilerinde afete dönüşme olasılığı daha fazladır?

- A) I ve II B) I ve III C) II ve III
D) II ve IV E) III ve IV

2. I. Su buharının büyük kısmını bulundurduğu için iklim olaylarının meydana geldiği katmandır.
II. Güneş'ten gelen zararlı ışınları süzen ozon gazının yoğunlaştığı ve ozon tabakasının oluştuğu katmandır.
III. Atmosfere giren gök taşlarının yanarak parçalandığı katmandır.

Yukarıdakilerin hangileri, atmosferin troposfer katmanının özellikleridir?

- A) Yalnız I B) Yalnız II C) I ve II
D) II ve III E) I, II ve III

3. Meridyen; iki kutup noktası arasında uzanan, paralel dairelerini dik kesen hayali yarım dairelerdir.

Buna göre aşağıdakilerden hangisi, meridyenlerin özelliklerinden biri değildir?

- A) Meridyenler, iki kutup noktası arasında kuzey ve güney yönünde uzanır.
B) Ardışık iki meridyen arasında birer derecelik açı vardır.
C) Ardışık iki meridyen arasındaki mesafe, Ekvator çizgisi üzerinde yaklaşık 111 km'dir.
D) Meridyenler kutup noktalarında birleşir ve boyları birbirine eşittir.
E) Meridyenlerin numara değeri Doğu Yarım Küre'de batıya doğru, Batı Yarım Küre'de doğuya doğru artar.

4. "Bu ekonomik etkinlik yakın zamanda ortaya çıkmış iş kollarındandır. Çünkü bu alan, teknoloji çağına özgüdür. İleri düzeyde gelişmiş ülkeler veya şirketlerde kısaca Ar-Ge olarak tanımlanan araştırma, geliştirme birimleri oluşturulmaktadır. Bu birimlerdeki insanlar bilgi toplama, işleme, değiştirme ve yayma işiyle uğraşmaktadırlar. Coğrafi bilgi sistemlerinden yararlanma, bu alan için büyük bir önem taşımaktadır. Reklam yayıncılığı, yazılım hizmetleri, ağ işletmeciliği ve grafik tasarım hizmetleri, bu alandaki ekonomik etkinliklere örnek verilebilir."

Paragrafta özellikleri verilen ekonomik faaliyet kolu aşağıdakilerden hangisidir?

- A) Birincil B) İkincil C) Üçüncül
D) Dördüncül E) Beşincil



3D21C41C

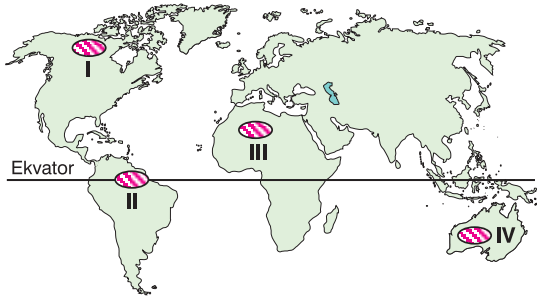
COĞRAFYA DENEMESİ - 3

1. Afet yönetimi; risk ve zarar azaltma, hazırlık, müdahale ve iyileştirme olmak üzere dört aşamadan oluşur. Bu kavram, afet sonrası gerçekleştirilen müdahale ve iyileştirme çalışmalarının yanı sıra, afet öncesinde yapılması gereken zarar azaltma ve hazırlık çalışmalarını da kapsar. Afetle mücadelede en etkili yöntem, afetin oluşmasına zemin hazırlayacak koşullara karşı bilinçli davranarak önceden önlem almaktır. Afetlere sık maruz kalan gelişmiş ülkeler, afet bilinci ve yönetimi konusunda da gelişmişlerdir.

Buna göre, aşağıdaki ülkelerin hangisinde, afet bilinci ve yönetimi daha fazla gelişmiştir?

- A) Pakistan B) Venezuela C) Japonya
D) Bosna-Hersek E) Nijerya

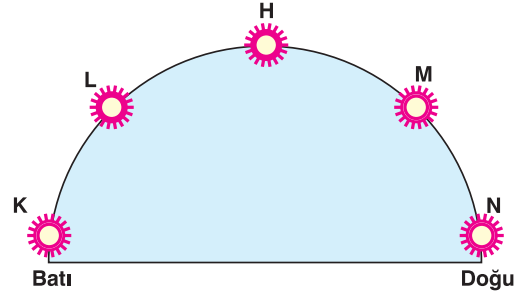
2. Rüzgârlar, yarı kurak ve özellikle de kurak bölgelerde en etkili dış kuvvetlerden biridir. Rüzgârlar, hızlarının azaldığı veya bir engelle karşılaştığı yerlerde taşıdığı malzemeleri biriktirerek bazı şekiller oluşturur. Bu şekilde taşınan kum boyutundaki malzemelerin birikmesiyle kumullar meydana gelir.



Buna göre, haritada numaralandırılan bölgelerin hangilerinde, kumulların yaygın olduğu söylenebilir?

- A) I ve II B) I ve III C) II ve III
D) II ve IV E) III ve IV

3. Aşağıdaki şekilde, aynı paralel üzerinde yer alan K, L, H, M ve N şehirlerinde aynı günde ve aynı anda, Güneş'in gökyüzündeki konumu gösterilmiştir.



Buna göre;

- I. H şehri, öğle vaktini yaşamaktadır.
II. N, en doğuda olan şehirdir.
III. Güneş en önce K şehrinde doğmuştur.
IV. K ve L şehirleri arasındaki yerel saat farkı, M ve L şehirleri arasındakinden azdır.
V. Güneş L şehrinde, M şehrine göre daha geç batacaktır.

yargılarından hangileri doğrudur?

- A) I ve II B) I ve V C) II ve III
D) I, III ve IV E) III, IV ve V

4. Biyosferin bir unsuru olan insan, yaşadığı doğal ortamda birtakım yaşamsal faaliyetlerde bulunur. İnsanın ihtiyaçlarını karşılamak için doğal ortamda yapmış olduğu yaşamsal faaliyetlerinin tümüne beşerî olay denir.

Buna göre, aşağıdakilerden hangisi beşerî olay olarak nitelendirilebilir?

- A) Topraklarda humus oluşması
B) İnsanların yer altından taş kömürü çıkarması
C) Bitkilerin yapraklarını dökmesi
D) Tropikal bölgelerde kasırgaların oluşması
E) Volkanik bir dağın faaliyete geçmesi

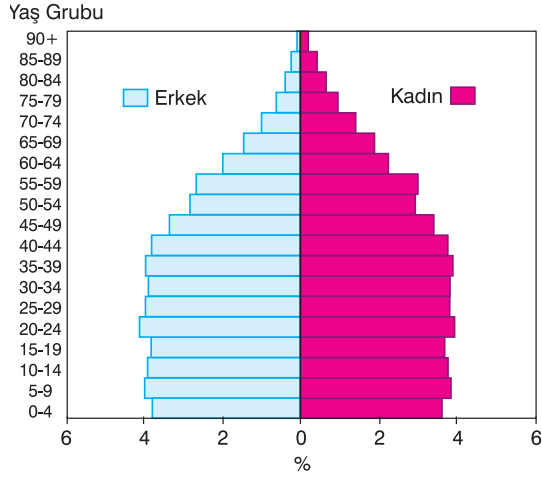
5. Aşağıdaki tabloda, üç şehrimizde bulunan höyüklerin başlıca özelliği verilmiştir.

	Höyük	Başlıca Özelliği
I	?	Konya'nın Çumra ilçesi sınırları içindedir. 9000 yıllık bir geçmişe dayandığı tahmin edilmektedir. Yerleşim alanında üst üste inşa edilmiş binalar yapay bir tepe oluşturur. Yapılan kazılarda birbirinin üzerine kurulmuş on üç yapı katı ortaya çıkarılmıştır.
II	?	Şanlıurfa'nın 20 km kuzeydoğusundadır. Tarihi MÖ 10. yüzyıla dayanır. Etrafında herhangi bir yerleşim bulunmayan bir ibadet yeridir. Höyükte dikdörtgen şeklinde iki büyük tapınak bulunur ve bu tapınak tarihin ilk dinî yapısı sayılmaktadır.
III	?	Çorum ilinin sınırları içindedir. Höyük alanı Hititlerden kalma Eski Çağ yerleşkesidir. Hititlerin dinî ve siyasi merkezidir. Bulunduğu alanın tarım faaliyetine uygun olması, kuruluşundaki en önemli faktördür. Yapılan kazılarda Bakır Çağı'ndan Osmanlı'ya kadar olan dönemlere ait buluntular ortaya çıkarılmıştır.

Buna göre, soru işaretli bölümlere yazılması gereken höyükler, aşağıdakilerin hangisinde doğru sıralanmıştır?

- | | I | II | III |
|----|-------------|-------------|-------------|
| A) | Çatalhöyük | Alacahöyük | Göbeklitepe |
| B) | Göbeklitepe | Alacahöyük | Çatalhöyük |
| C) | Çatalhöyük | Göbeklitepe | Alacahöyük |
| D) | Alacahöyük | Göbeklitepe | Çatalhöyük |
| E) | Alacahöyük | Çatalhöyük | Göbeklitepe |

5. Aşağıda Türkiye'nin, 2020 yılı sonundaki TÜİK verilerine göre oluşturulan nüfus piramidi gösterilmiştir.



Yalnızca piramide göre;

- I. Türkiye'nin nüfusu 80 milyondan azdır.
- II. 0-4 yaş grubundaki nüfus, 5-9 yaş grubundakinden azdır.
- III. Türkiye'de şehir nüfusu kır nüfusundan fazladır.
- IV. Yaşlı nüfusta, kadın oranı erkek oranından fazladır.

yargılarından hangileri doğrudur?

- A) I ve II B) I ve III C) II ve III
D) II ve IV E) III ve IV



A8204635

COĞRAFYA DENEMESİ - 19

1. Aşağıdaki şekilde, Güneş Sistemi ve içinde bulunan gezegenler gösterilmiştir.



Bu şekle göre, aşağıdaki yargılardan hangisine varılamaz?

- A) Güneş Sistemi'nde Dünya'dan büyük gezegenler vardır.
B) Dünya, Güneş'e en yakın üçüncü gezegendir.
C) Dünya, şekli ve boyutları bakımından bazı gezegenlerden büyüktür.
D) Güneş Sistemi'nde 8 büyük gezegen vardır.
E) Dünya, Güneş Sistemi'ndeki ikinci büyük gezegendir.

2. Gelişmekte olan ülkelerde, ikincil ve üçüncül ekonomik faaliyetler arttıkça sosyal ve ekonomik yapı değişir.

Buna göre, aşağıdakilerden hangisi bu durumun sonuçlarından biridir?

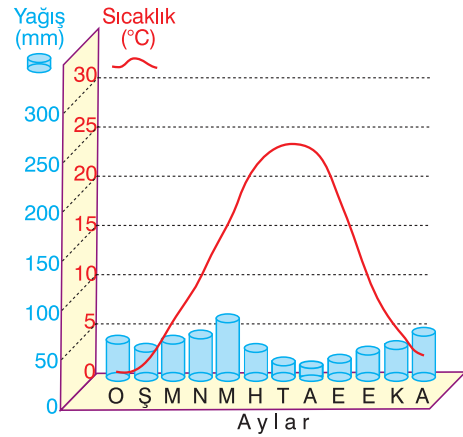
- A) Kırsal nüfus oranının artması
B) Ham maddeye ve enerjiye olan ihtiyacın azalması
C) Kentsel nüfus oranının artması
D) Kişi başına düşen gelirin azalması
E) Nitelikli nüfus oranının azalması

3. Yeryüzünde doğal, beşerî ve ekonomik yönden birbirine benzer ya da farklı yerlerin olması, çeşitli özelliklerine göre bölgelerin oluşturulabilmesini sağlamıştır. Bu özelliklerdeki değişme, bölge sınırlarının da değişmesine neden olmaktadır.

Buna göre, belirli özelliklere dayanarak oluşturulan aşağıdaki bölgelerden hangisinin sınırlarının, daha kısa sürede değişmesi beklenir?

- A) Türkiye patates üretim bölgesinin
B) Akdeniz iklimi bölgesinin
C) Ekvatorial yağmur ormanları bölgesinin
D) Dünya aktif volkanlar bölgesinin
E) Alp - Himalaya kıvrım dağları bölgesinin

4. Aşağıda, ılıman karasal iklimin görüldüğü bir merkezin aylara göre sıcaklık ve yağış grafiği gösterilmiştir.



Grafikteki bilgilere göre, merkezle ilgili aşağıdaki yargılardan hangisine varılabilir?

- A) Yıllık sıcaklık farkı 20 °C'den azdır.
B) Yağış rejimi düzensizdir.
C) Yıllık yağış ortalaması 600 mm'den fazladır.
D) Yağmur yağışı görülmez.
E) En yağışlı mevsim yazdır.

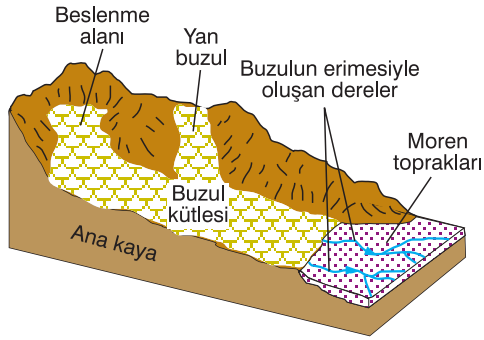
5. I. Kıyılarımızda gelgit olayının etkin olmamasından dolayı, akarsuların döküldüğü yerlerde delta ovaları oluşmuştur.
- II. İç bölgelerde bulunan ovaların pek çoğu, tektonik hareketlerle meydana gelmiştir
- III. Bazı bölgelerdeki ovaların oluşumunda karstik süreçler etkili olmuştur.

Yukarıdaki anlatımlara, aşağıdakilerin hangisinde doğru ova örnekleri verilmiştir?

I	II	III
A) Antalya	Bafra	İğdır
B) Çarşamba	Silifke	Bakırçay
C) Çukurova	Erzincan	Muğla
D) Gediz	Muş	Bolu
E) Amik	Çarşamba	Büyük Menderes



1.



Yukarıdaki şekilde gösterilen toprak türünün, aşağıdaki ülkelerin hangisinde bulunma olasılığı da ha fazladır?

- A) Brezilya B) Mısır C) Yunanistan
D) Finlandiya E) Avustralya

2. "Adım Rizwan Khan. Pakistan'da tıp fakültesini bitirdikten sonra uzmanlık çalışması yapmak üzere İngiltere'ye gittim. Orada iki yıl eğitim gördükten sonra ABD'ye geldim. Buradaki çalışmalarım sonucunda bana araştırmalarımı sürdürebilmem için olanaklar sağlandı. Ekonomik yönden sıkıntı çekmeyeceğim düzeyde gelirim oldu. Şimdi araştırmalarımı sürdürürken bir yandan da üniversitede ders veriyorum."

Yukarıdaki anlatıma göre, Rizwan Khan'ın yaptığı göç aşağıdakilerin hangisine örnek gösterilebilir?

- A) Beyin göçlerine
B) Mübadele göçlerine
C) İşçi göçlerine
D) Doğal afetlere bağlı yapılan göçlere
E) Mülteci (sığınmacı) göçlerine

3. Nüfus özellikleri ile ülkelerin gelişmişlik durumu arasında yakın ilişki vardır.

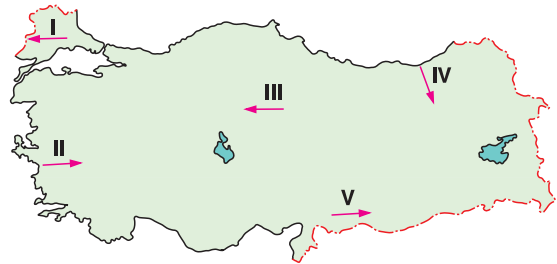
Buna göre;

- I. ortalama yaşam süresi uzun,
II. kırsal nüfus oranı fazla,
III. hizmet sektöründe çalışan nüfus oranı yüksek,
IV. doğum oranı yüksek

nüfus özelliklerinden hangilerine sahip ülkelerin, daha gelişmiş olduğu söylenebilir?

- A) I ve II B) I ve III C) II ve III
D) II ve IV E) III ve IV

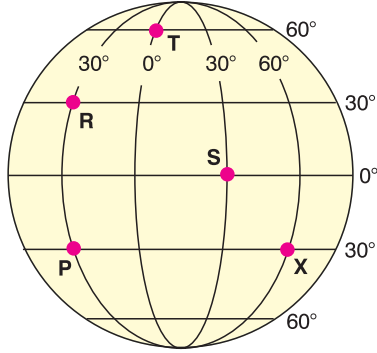
4. Türkiye'de yer şekillerinin çeşitlilik göstermesinden dolayı, yağış miktarı yörelere göre farklılık gösterir.



Buna göre, haritada numaralandırılan doğrultuların hangisinde eşit mesafe gidildiğinde, yağış miktarında daha belirgin değişim görülür?

- A) I B) II C) III D) IV E) V

5. Aşağıdaki küre üzerinde, beş farklı merkezin konumları gösterilmiştir.



Buna göre;

- Gurup ve tan sürelerinin en uzun olduğu merkez ----'dir.
I
- Başlangıç Meridyeni'ne göre Batı Yarım Küre'de, Ekvator'a göre Güney Yarım Küre'de yer alan merkez ----'dir.
II
- 21 Mart günü diğerlerine göre Güneş'in en erken doğduğu merkez ----'dir.
III

İfadelerindeki boş bırakılan yerlere yazılması gerekenler, aşağıdakilerden hangisinde doğru verilmiştir?

	I	II	III
A)	P	R	S
B)	R	X	T
C)	S	T	P
D)	T	P	X
E)	X	S	R