



I.

### FRANSIZ İHTİLALİ'NİN NEDENLERİ

- O günkü devlet yönetiminin, krallık yönetimi olmasından dolayı halkın özgür biçimde yaşayamamasıdır.
- Kralın istek ve emirlerinin kanun kuvvetinde olmasıdır.
- Krallar lüks ve zenginlik içinde yaşarken, halkın; fakirlik ve sefalet içinde yaşamasıdır.
- O dönemde basına ağır sansürler uygulanarak devlet yönetimine yönelen eleştirilere engel olunmasıdır.
- O dönemde yüksek makam sahibi olanların, buldukları makamları oğullarına devredebilmeleridir.



Yukarıda verilen nedenler dikkate alındığında Fransız İhtilali'nin çıkmasında;

- I. Halk ile yöneticiler arasında ekonomik açıdan büyük farklılıkların olması,
- II. Tek kişinin etkin olduğu bir yönetim şeklinin uygulanması,
- III. Önemli görevlere gelecek kişilerin saltanat sistemiyle belirlenmesi

faktörlerinden hangilerinin etkili olduğu söylenebilir?

- A) I ve II                      B) I ve III                      C) II ve III                      D) I, II ve III

2. İngiltere, XX. yüzyıl başlarında Rusya ile anlaşarak Osmanlı Devleti'ni parçalamaya karar verdi. Bunu öğrenen Türk aydınları, anayasanın yeniden yürürlüğe konulması çalışmalarını hızlandırdı. Devletin dağılmasının meşrutiyetin yeniden ilanı ile önlenebileceğini düşünen bu aydınların görüşleri ordu ve halk arasında da taraftar buluyordu. Bunun üzerine Padişah II. Abdülhamit, 23 Temmuz 1908'de Osmanlı anayasası olan Kanun-i Esasi'yi yeniden yürürlüğe koydu.

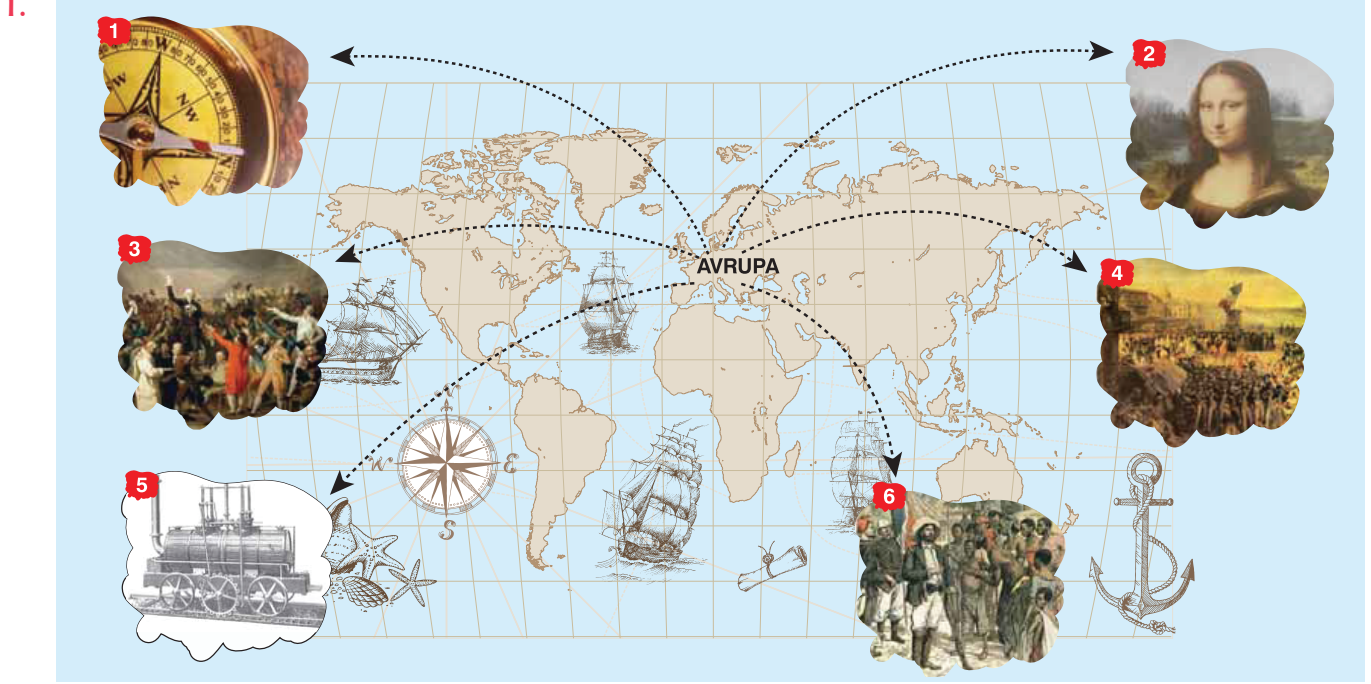
Buna göre, Osmanlı Devleti ile ilgili aşağıdakilerden hangisi söylenemez?

- A) Padişahın otoritesinin artırılmaya çalışıldığı  
B) Ülkenin parçalanmasının önüne geçebilmek için çalışmalar yapıldığı  
C) Aydınların yaptığı çalışmalar ile meşrutiyet yönetimine tekrar geçildiği  
D) Siyasi varlığına son vermek amacıyla bazı devletlerin aleyhine ittifak oluşturduğu



# AVRUPA'DA YAŞANAN DEĞİŞİM VE 20. YÜZYIL BAŞLARINDA OSMANLI DEVLETİ

TEST - 2



20. yüzyıl başlarında Avrupa'da yaşanan gelişmelerin gösterildiği infografikte 2 - 3 - 5 numaralı görsellerin hangi olayları ifade ettiği söylenebilir?

2

- A) Fransız İhtilali
- B) Coğrafi Keşifler
- C) Rönesans Hareketleri
- D) Sanayi İnkılabı

4

- A) Coğrafi Keşifler
- B) Rönesans Hareketleri
- C) Fransız İhtilali
- D) Reform Hareketleri

5

- A) Sanayi İnkılabı
- B) Fransız İhtilali
- C) Sanayi İnkılabı
- D) Coğrafi Keşifler

2. Aydınlanma Çağı'nda her konuda aklın üstünlüğüne, bilimsel çalışmalarda doğayı incelemeye, deney ve gözlem yapmaya önem verildi. Galile Galilei (Galile) Dünya'nın Güneş'in etrafında döndüğünü kitabında anlatırken, Dr. Harvey (Harvin) tıp alanında çalışmalar yaptı. Descartes analitik geometriyi geliştirdi. Mozart müzik alanında dünyaca bilinen eserler verdi. Toplum, doğa, insan, siyaset, ekonomi ve tarih alanında yeni fikirler ve düşünceler ortaya çıktı.

Yukarıdaki bilgiler Aydınlanma Çağı ile ilgili;

- I. Farklı bilim ve sanat dallarında çalışmalar yapıldığı,
- II. Skolastik düşüncenin bilim üzerindeki etkinliğini arttırdığı,
- III. Farklı fikirlerin ortaya atılmasının toplumsal sorunlara neden olduğu

yargılarından hangisini ya da hangilerini kanıtlar nitelik değildir?

- A) Yalnız I
- B) Yalnız III
- C) I ve III
- D) II ve III



Yukarıda verilen harita dikkate alındığında I. Dünya Savaşı'nın başındaki bloklaşma ile ilgili;

- I. Osmanlı Devleti'nin gruplaşmanın dışında kaldığı,
- II. Almanya, İtalya ve Avusturya-Macaristan'ın aynı grupta yer aldığı,
- III. İtilaf Devletleri grubunun sayıca üstün olduğu,
- IV. İngiltere, Fransa ve Rusya'nın savaşta müttefik olduğu

yargılarından hangilerine ulaşılabilir?

- A) I ve II                      B) II ve III                      C) I, II ve IV                      D) I, II, III ve IV

2. Osmanlı Devleti, 1877-1878 Osmanlı-Rus Savaşı'yla kaybettiği; Kars, Ardahan, Batum'u geri almak, Orta Asya'da yaşayan Müslüman Türkleri Rus egemenliğinden kurtarmak ve Turancılık idealini gerçekleştirmek amacıyla bu cepheyi açtı. Enver Paşa, komutasındaki Osmanlı ordusuyla Kars ve Batum'u geri almak için 1914 yılı Aralık ayı sonrasında Ruslara karşı Sarıkamış Harekâtı'nı başlattı. Zorlu kış şartları, salgın hastalıklar ve malzeme eksikliği gibi nedenlerle on binlerce Osmanlı askeri henüz Ruslarla savaşmadan hayatını kaybetti.

Yukarıda verilen bilgilerden hareketle Osmanlı Devleti ile ilgili aşağıdaki yargılardan hangisine ulaşamaz?

- A) İklim şartlarından olumsuz etkilendiğine
- B) Türk birliğini gerçekleştirme hayalinin olduğuna
- C) Enver Paşa'nın saldırı hareketinde bulunduğuna
- D) Rusya'ya karşı belirlediği hedeflerin tamamının gerçekleştiğine





5F6B6366

I.

### MİLLİ MÜCADELE'NİN MİHENK TAŞI: SİVAS KONGRESİ

Türkiye Cumhuriyeti'nin kurucusu Mustafa Kemal Atatürk'ün, "Burada bir milletin kurtuluşunu hazırlayan kararlar verildi." sözüyle önemini vurguladığı Sivas, kurtuluş mücadelesinin mihenk taşı olan Sivas Kongresi'nin 99. yıl dönümünde coşkulu bir güne daha tanıklık ediyor.



#### 2 EYLÜL 1919

Mustafa Kemal Paşa, 2 Eylül 1919 günü Erzurum'dan Sivas'a geldi ve 18 Aralık 1919'a kadar kentte kaldı.

#### 4 - 11 EYLÜL SİVAS KONGRESİ

4 Eylül 1919 perşembe günü saat 14.00'te bugünkü Atatürk Kongre ve Etnografya Müzesi binasında, Türkiye Cumhuriyeti'nin temellerinin atıldığı Sivas Kongresi yapıldı.

7 gün süren ve 'manda' tartışmalarının da yaşandığı kongre, 11 Eylül 1919'da sonuç bildirgesinin yayımlanmasıyla kapandı.

Ulusal kurtuluş mücadelesine ışık tutacak kararların alındığı Kongreye ev sahipliği yapan Sivas, 108 gün millî mücadelenin merkezi oldu.

#### SİVAS KONGRESİ'NDEN CUMHURİYETİN İLANINA KADAR GİDEN SÜREÇ

Halkın bütününe kapsayan ilk örgütsel faaliyet Sivas'ta gerçekleştirildi ve Sivas Kongresi, şekil ve içeriği itibarıyla adeta millî bir meclis işlevi gördü.

Heyet-i Temsiliye bütün vatani temsil eder hâle geldi, ulusal örgütlenme tüm vatani kapsadı.

Sivas Kongresi, halkı bir bütün hâlinde, çizdiği program doğrultusunda harekete geçirmeyi sağladı.

Bu hareket, 29 Ekim 1923'de cumhuriyetin ilanıyla taçlandı.

Yukarıdaki infografik dikkate alındığında Sivas Kongresi ile ilgili aşağıdaki yargılardan hangisine ulaşılabilir?

- A) Millî Mücadeleye yol gösterecek kararların alındığına
- B) Bağımsızlıktan ödün verilmeyeceğinin vurgulandığına
- C) Ulusal örgütlenmenin şekillenmesinde aktif rol oynadığına
- D) Alınan kararlarda ülkenin yönetim şeklinin ilan edildiğine

3.

## BÜYÜK MİLLET MECLİSİNE SUNULAN ÖNERGEDE YER ALAN MADDELERDEN BAZILARI

- Geçici bir hükûmet başkanını tanımak veya bir padişah vekili atamak doğru değildir.
- Mecliste toplanan millî iradeyi, vatanın geleceğine egemen kılmak esastır.
- Büyük Millet Meclisinin üstünde hiçbir güç yoktur.
- Meclis, yasama ve yürütme yetkilerini kendisinde toplamıştır.



Yukarıda verilen kararlar dikkate alındığında aşağıdaki yorumlardan hangisi yapılırsa yanlış olur?

- A) İstanbul Hükûmeti yok sayılmıştır.
- B) Millet iradesinin yönetime yansması amaçlanmıştır.
- C) Kurulacak hükûmetin kalıcı olacağına işaret edilmiştir.
- D) Devlete ait güçler farklı organlara verilerek demokrasi güçlendirilmiştir.

4. Amasya'da Ali Rıza Paşa Hükûmeti adına Bahriye Nazırı Salih Bey ile Temsil Heyeti adına Mustafa Kemal görüşmüştür. Bu görüşmede alınan kararlar:

- Türk vatanının bütünlüğü ve bağımsızlığı korunacaktır.
- Müslüman olmayan azınlıklara devletin siyasi egemenliğini ve sosyal dengesini bozacak ayrıcalıklar verilmeyecektir.
- Anadolu ve Rumeli Müdafaa-i Hukuk Cemiyeti, İstanbul Hükûmeti tarafından tanınacaktır.
- İtilaf Devletleri ile toplanacak konferansa Temsil Heyeti tarafından uygun görülecek temsilciler gönderilecektir.

Bu bilgilerden hareketle Amasya Görüşmeleri ile ilgili aşağıdaki yargılardan hangisine ulaşamaz?

- A) Ülke topraklarının bütünlüğüne vurgu yapılmıştır.
- B) İstanbul Hükûmeti Anadolu hareketini resmen tanımıştır.
- C) Gayrimüslimlere siyasi ve sosyal ayrıcalıklar verilmesine karşı çıkmıştır.
- D) Anadolu ve Rumeli Müdafaa-i Hukuk Cemiyetinin çalışmaları İstanbul Hükûmetinin denetimine girmiştir.

# MİLLÎ UYANIŞ: BAĞIMSIZLIK YOLUNDA ATILAN ADIMLAR

DÜŞÜNDÜREN  
SORU  
YAĞMURU

3.



Bu haritadan hareketle Sevr Antlaşması ile ilgili;

- I. Anadolu toprakları İtilaf Devletleri ve azınlıklar arasında paylaştırılmıştır.
- II. Paylaşımında en fazla toprak parçası İngiltere'ye bırakılmıştır.
- III. Osmanlı Devleti'nin hâkimiyet alanı İstanbul ile sınırlandırılmıştır.
- IV. İzmir ve çevresinin Yunanlılara verilmesi kararlaştırılmıştır.

yargılarından hangilerine ulaşılabilir?

- A) I ve IV                      B) II ve IV                      C) I, II ve IV                      D) II, III ve IV

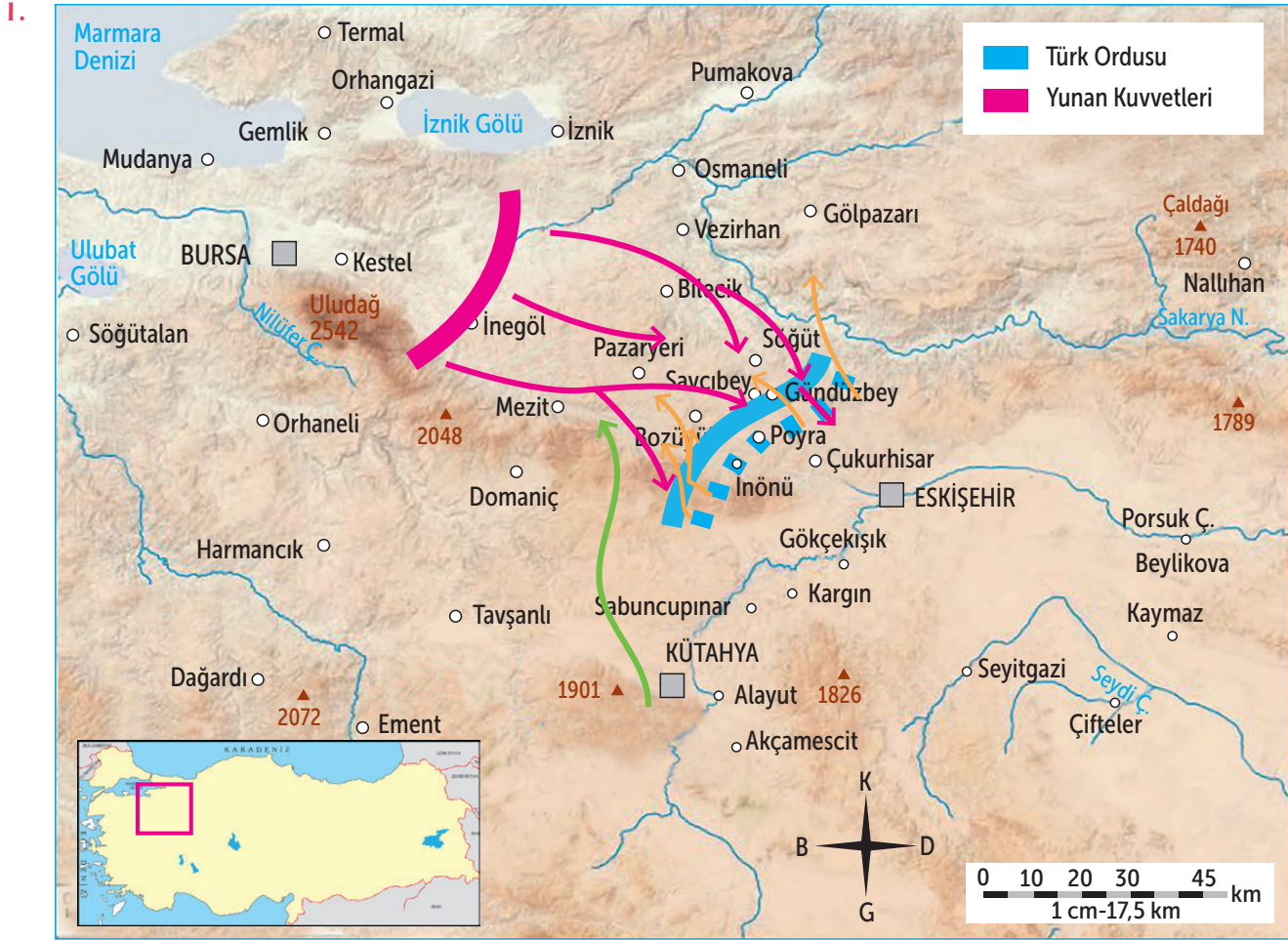
4. 10 Ağustos 1920 tarihinde imzalanan Sevr Antlaşması'nın içeriği genel hatlarıyla şu şekildedir:

“Osmanlı Devleti, İstanbul ile Anadolu'nun Ankara ve Kastamonu vilayetlerini kapsayan küçük bir bölümden oluşacaktı. Boğazlar uluslararası bir komisyon tarafından yönetilecekti. Ege Bölgesi'nin büyük kısmı, Ege Adaları ve Doğu Trakya Yunanistan'a verilecekti. Doğu Anadolu'da bağımsız bir Ermenistan ve onun güneyinde özerk bir Kürdistan kurulacaktı. Mardin, Urfa, Antep ve Suriye, Fransızlara bırakılacak; Arabistan ve Musul dahil Irak, İngiltere ve Fransa arasında paylaşılıp manda altına alınacaktı. Rodos ve On İki Ada İtalyanlara bırakılacaktı.”

Yukarıdaki bilgiler dikkate alındığında Sevr Antlaşması ile ilgili aşağıdakilerden hangisine ulaşamaz?

- A) İtilaf Devletlerinin Anadolu'nun tamamını ele geçirdiğine
- B) Osmanlı topraklarının İtilaf Devletleri arasında paylaşıldığına
- C) Anadolu topraklarında yeni devletlerin kurulmasının planlandığına
- D) Osmanlı Devleti'nin Ege kıyılarındaki topraklarının elinden alınmak istendiğine





28 Mart 1921'de Türk ordusu durumu

31 Mart 1921'de Türk ordusu durumu

Yunan ordusu taarruzu yönü

Yunan ordusu geri çekilme yönü

Yunan ordusunun karşı taarruz yönü

Yukarıda II. İnönü Savaşı'nın gerçekleştiği alanın gösterildiği harita dikkate alındığında;

I. Yunan ordusunun Eskişehir yönünde harekete geçerek Anadolu'ya ilerlemek istediği,

II. Savaşın Yunan birliklerinin üstünlüğüyle sonuçlandığı,

III. Türk ordusunun Yunan ilerleyişine karşı koymak için çalıştığı

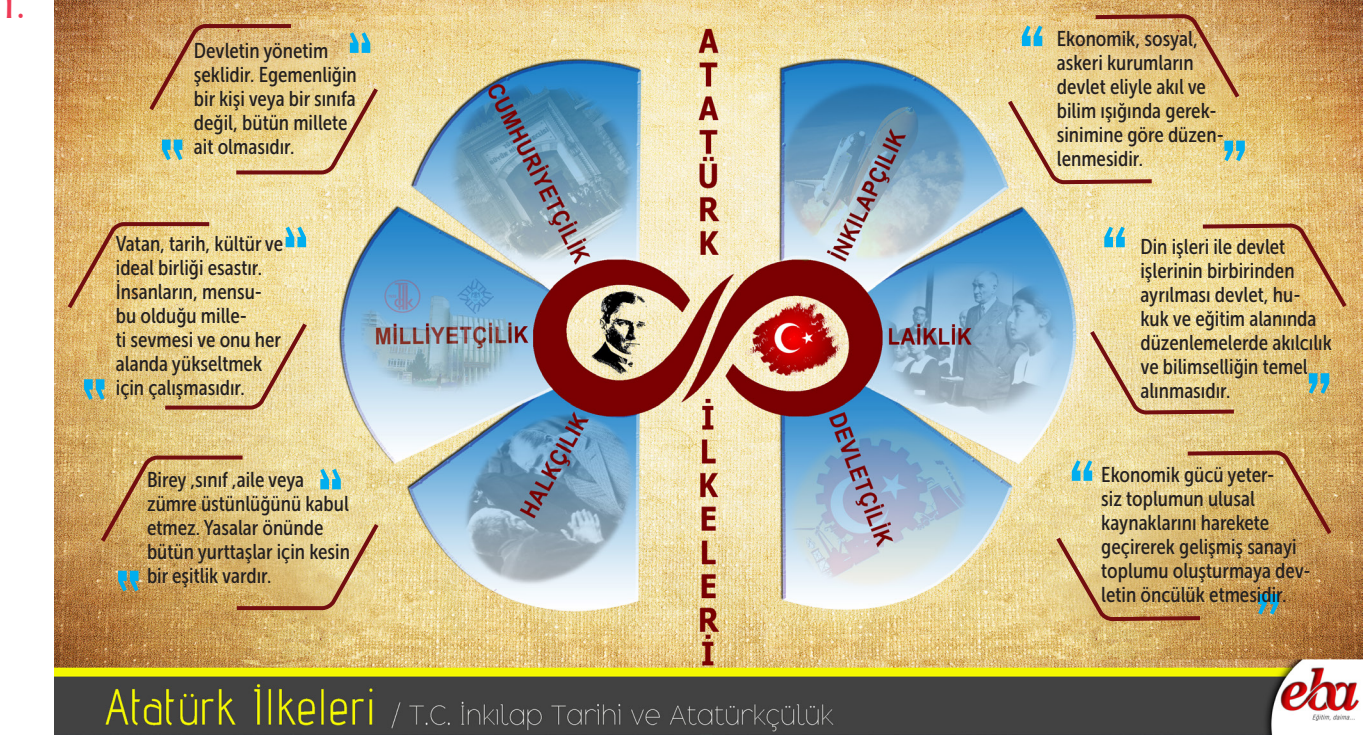
yargılarından hangisine ya da hangilerine ulaşılabilir?

A) Yalnız I

B) Yalnız III

C) I ve III

D) I, II ve III



Yukarıda verilen infografikteki bilgiler dikkate alındığında Atatürk ilkeleri ile ilgili;

- I. İnkılapçılık ve laiklik ilkelerinin akıl ve bilimi esas aldığı,
- II. Cumhuriyetçilik ve halkçılık ilkelerinin birbirini tamamladığı,
- III. Devletçilik ilkesinin devletin ekonomik olarak büyümesini amaçladığı,
- IV. Milliyetçilik ilkesinin Türk milletini kaynaştırıcı bir anlayışa sahip olduğu yorumlarından hangilerine ulaşılabilir?

- A) I ve II                      B) II ve III                      C) I, II ve III                      D) I, II, III ve IV

2. "Türk milleti, tarihinle övün; çünkü senin ecdadın medeniyetler kuran, devletler, imparatorluklar oluşturmuş bir mevcudiyettir. ...Fakat geleceğine güvenebilmek için, bugün çalışman lazımdır; Çünkü yalnız tarih övücü bir mezihet sayılmaz. Türk! övün, çalış, güven."

"Türkiye Cumhuriyeti'ni kuran Türkiye halkına Türk milleti denir. ...Dünya yüzünde ondan daha büyük, ondan daha eski bir yurt, ondan daha temiz bir millet yoktur ve bütün insanlık tarihinde görülmemiştir."

Atatürk'ün yukarıda verilen sözleri aşağıdaki Atatürk ilkelerinden hangisi ile ilişkilendirilebilir?

- A) Milliyetçilik                      B) Halkçılık                      C) Laiklik                      D) Devletçilik





1.

### Saltanatın Kaldırılması (1 Kasım 1922)

Saltanatın kaldırılmasıyla hâkimiyetin belli bir kişide, zümrede veya ailede olamayacağı gösterilmiş, cumhuriyete doğru önemli bir adım atılmıştır.

### Cumhuriyetin İlanı (29 Ekim 1923)

Cumhuriyetin ilanıyla hâkimiyetin sahibinin millet olduğu ve bu hakkını seçimle iş başına gelen TBMM Hükûmeti vasıtasıyla kullanılacağı, millettten üstün hiçbir kuvvetin olmadığı kesinleştirilmiştir.

### Halifeliğin Kaldırılması (3 Mart 1924)

Halifeliğin kaldırılmasıyla yönetimde oluşabilecek çift başlılık engellenmiştir. Ayrıca Şeri'ye ve Evkâf Vekâletinin kaldırılmasıyla dinle ilgili işler siyasi kurumlardan çıkarılmıştır.

### Anayasanın Kabulü (20 Nisan 1924)

Millî Mücadeleden başarıyla çıkmış, ateşkes ilan edilmiştir. Barış dönemine uygun yeni bir anayasa hazırlanarak modernleşme süreci yeni anayasa ile hızlanmıştır.

Yukarıda verilen bilgiler dikkate alındığında aşağıdaki yargılardan hangisi söylenemez?

- A) Yeni Türk Devleti'nin yönetim şekli cumhuriyetin ilanı ile yasallaşmıştır.
- B) Anayasanın kabul edilmesi toplumda sınıf farklılıklarını güçlendirmiştir.
- C) Saltanatın kaldırılması monarşik sistemin sona ermesine neden olmuştur.
- D) Halifeliğin kaldırılması din ve devlet işlerinin birbirinden ayrılmasına neden olmuştur.

2.

Seçim Yılı	Toplam Vekil Sayısı	Erkek Vekil Sayısı	Kadın Vekil Sayısı
1935	399	381	18
1946	465	456	9
1961	450	447	3
1983	399	387	12
2011	550	471	79

Bu tablodan yararlanarak Türk kadını ile ilgili aşağıdaki değerlendirmelerden hangisi yapılamaz?

- A) Siyasal haklarını kullandığı
- B) Devlet yönetimine katılma hakkı elde ettiği
- C) Avrupa ülkesindeki kadınlara göre siyasal haklarına geç kavuştuğu
- D) Siyasal yaşamdaki etkinliğinin sayıca erkeklere göre daha az olduğu



## II. DÜNYA SAVAŞI VE SONRASINDAKİ GELİŞMELER TEST - 82



- |  |   |  |
|--|---|--|
| 1940-1975 yılları arasında Sovyetler Birliği güdümündeki devletler | Sovyetler Birliği güdümündeki devletler | Yugoslavya'nın 1945'te İtalya'dan aldığı bölge |
| Amerikan işgal bölgesi   | İngiliz işgal bölgesi                   | Fransız işgal bölgesi                          |
| Dört işgal bölgesine ayrılan kentler                               | Bağımsızlığına kavuşan ülkeler          | Savaşa katılmayan tarafsız devletler           |
- Dört farklı ülke tarafından işgal edilen Almanya ve Avusturya'nın sınırları

Yukarıda 1945 yılında Avrupa Kıtası'nın gösterildiği harita dikkate alındığında;

- I. Avrupa Kıtası'nda Sovyetler Birliği kontrolünde olan devletlerin olduğu,
- II. Almanya'nın farklı devletler tarafından işgal edildiği,
- III. İngiltere'nin savaşta toprak kaybı yaşadığı

yargılarından hangilerine ulaşılabilir?

- A) I ve II      B) I ve III      C) II ve III      D) I, II ve III

2.

Adnan Menderes

Refik Koraltan

Celal Bayar

Fuat Köprülü

Yukarıdaki isimleri yer alan kişiler aşağıda verilen partilerden hangisini kurarak Türkiye'nin çok partili yaşama geçişini sağlamıştır?

- A) Millet Partisi      B) Demokrat Parti  
C) Cumhuriyet Halk Partisi      D) Millî Kalkınma Partisi