

8. SINIF

# TÜRKÇE

SORU BANKASI

US-TEROİT

DÜŞÜNDÜREN SORU YAĞMURU

4.



**KORONAVİRÜS (COVID - 19)**

**Konulu sempozyumda ele alınacak konular:**

**Pazartesi:** Koronavirüsün Tarihçesi

**Salı:** Koronavirüs Nasıl Bulaşır?

**Çarşamba:** Koronavirüs Kimleri Etkiliyor?

**Perşembe:** Koronavirüse Yakalandığımı Nasıl Anlarım?

**Cuma:** Koronavirüsten Korunma Yolları

Aşağıda, bu sempozyum süresince kurulan cümlelerden bazı alıntılar verilmiştir:

1. Özellikle 65 yaş ve üzeri olanlar, kronik hastalığı olanlar bu yüzden kendilerini daha çok korumalıdır.
2. Maskenizi doğru takmak, gerekmedikçe sokağa çıkmamak, çıkıldığında da sosyal mesafeyi korumak son derece önemlidir.
3. Yüksek ateş, nefes darlığı, şiddetli öksürük gibi şikâyetleriniz olduğunda hemen bir sağlık kurumuna başvurmalısınız.
4. Mesela virüs taşıyan biri ile yakın mesafede temas içinde olduğunuzda siz de risk altındasınız demektir.
5. Koronavirüs, çok uzun yıllardır insan ve hayvan sağlığını tehdit eden bir solunum yolu hastalığıdır.

Buna göre cümlelerin söylenmiş olabileceği günler hangi seçenekte doğru verilmiştir?

	1. Cümle	2. Cümle	3. Cümle	4. Cümle	5. Cümle
A)	Çarşamba	Cuma	Perşembe	Salı	Pazartesi
B)	Cuma	Salı	Perşembe	Çarşamba	Cuma
C)	Çarşamba	Perşembe	Cuma	Salı	Pazartesi
D)	Pazartesi	Çarşamba	Salı	Perşembe	Cuma

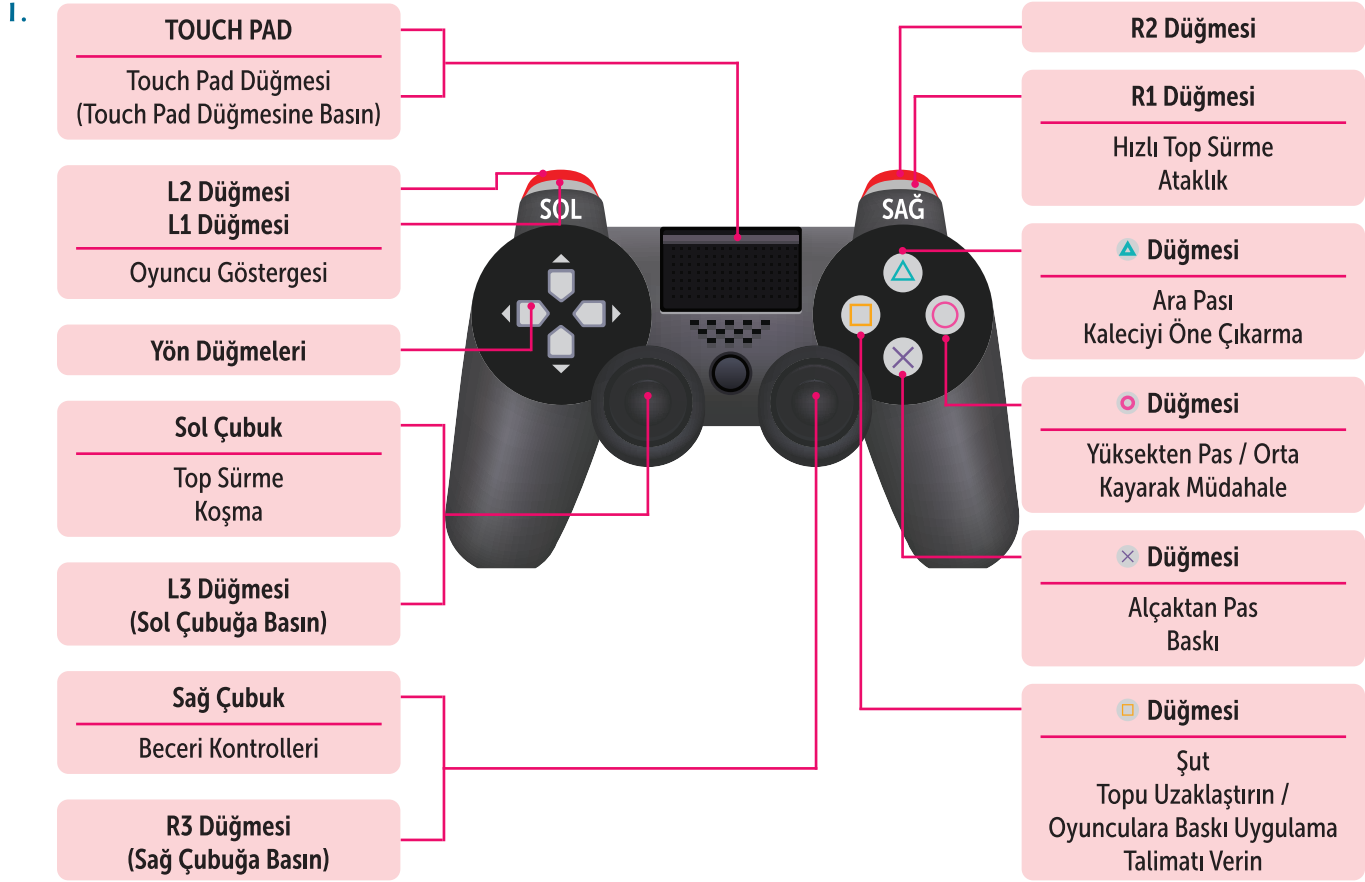
3.



Bu görselde aşağıdakilerden hangisine başvurulmamıştır?

- A) Sayısal verilerden yararlanma
- C) Açıklama

- B) Tanımlama
- D) Karşılaştırma



Yukarıdaki oyun konsolunu kullanarak bir futbol oyunu oynayan Leyla, futbolcusu Bilgin Defterli'yi yönlendirmektedir. Bilgin, önce rakibine kayarak müdahalede bulunup topu rakibinden çalmayı başarmıştır. Daha sonra topu hızla sürmüş ve takım arkadaşına alçaktan pas vermiştir. O sırada Leyla, Bilgin'i koşturmuş, aynı zamanda da takım arkadaşı Aycan'ın rakip takım oyuncularına baskı uygulamasını talimat vermiştir. Topun tekrar Bilgin'e geçebilmesi için Aycan'a ara pası verdirmiş ve Bilgin şutuyla topu kaleye yollamıştır.

Buna göre Leyla'nın konsolu sırasıyla nasıl kullandığı hangi seçenekte doğru verilmiştir?

- A) ○ - R1 - × - Sol çubuk - □ - ▲ - □
- B) L2 - R1 - Sol çubuk - ○ - × - × - □
- C) ○ - Sol çubuk - R1 - Sağ çubuk - × - ▲ - Sağ çubuk
- D) □ - × - ○ - R1 - Sol çubuk - ▲ - Sağ çubuk



I. Aşağıdaki tabloda hangi malzemenin hangi yapıştırıcıyla daha iyi yapıştırılacağı verilmiştir.

	Basit yapıştırıcı	Sıcak tutkal	Ahşap tutkallı	Kumaş tutkallı	Sprey yapıştırıcı	Güçlü yapıştırıcı	Kauçuk tutkallı	Silikon yapıştırıcı
Plastik	✓	✓			✓	✓		✓
Kâğıt	✓	✓		✓	✓		✓	
Seramik		✓				✓		✓
Tahta		✓	✓				✓	
Cam		✓						✓
Kumaş	✓	✓		✓	✓		✓	
Strafor (Köpük)	✓	✓			✓		✓	
Metal						✓		✓
Organik Malzemeler	✓	✓			✓	✓	✓	

Tabloya göre,

- I. Terzilik yapan Mustafa Bey, kızı için diktiği oyuncak bebek kıyafetinin dikilmeyen kısımlarını kauçuk tutkalı, sıcak tutkal veya spre yapıştırıcıyla yapıştırabilir.
- II. Murat, evdeki seramik vazoyu yere düşürür. Birkaç büyük parçaya ayrılan vazoyu Murat, silikon yapıştırıcı, sıcak tutkal veya güçlü yapıştırıcıyla yapıştırabilir.
- III. Melahat Hanım, evdeki kare cam sehpanın kenarının kırıldığını görür. Kırık kenarı sıcak tutkal, silikon ve spre yapıştırıcı ile yapıştırabilir.
- IV. Melis öğretmen derste organik malzemelerden çeşitli eşyalar yapmayı öğretir. Bunun için strafor ve kumaş eşyaların tüm yapıştırıcılarını kullanabilir.
- V. Strafordan değişik süs eşyaları üreten Meltem, arkadaşı için yapacağı süs eşyasında spre, kauçuk ve basit yapıştırıcılardan birini kullanabilir.

Yorumlarından hangileri yapılamaz?

- A) I ve III                      B) II, IV ve V                      C) III ve IV                      D) I, II ve V

2. Arka arkaya gelen 1, 4, 7, 10 numaralı tekli koltuklara tiyatro bileti alan Furkan, Eray, Celal, ve Sefa isimli arkadaşlarla ilgili bilinenler şunlardır:

- Sefa'nın oturduğu koltuğun önünde bir arkadaşı oturmaktadır.
- Eray'ın önünde ve arkasındaki koltuklarda arkadaşları oturmaktadır.
- Sefa, Furkan'ın önündeki koltukların birinde oturmaktadır.

Buna göre Celal'in oturduğu koltuk numarası kaçtır?

- A) 1                      B) 2                      C) 3                      D) 4

3. COVID-19'dan korunmada en önemli savunma gereçlerinden olan maskeler ve eldivenler küresel ölçekte büyük bir atık problemine dönüşüyor. Peki, Türkiye bu konuda hangi önlemleri aldı? İşte cevabı:



Görselden hareketle aşağıdakilerden hangisi söylenemez?

- A) Maske ve eldiven gibi atıklar belli bir süre biriktirme alanlarında bekletildikten sonra belediyelere verilebilecek.
- B) Maske ve eldiven gibi atıkların geri dönüşümü yapılmayacak ve imha edilecektir.
- C) Sadece maske ve eldiven atıklarını toplamak için maske ve eldiven biriktirme kutuları oluşturulmuştur.
- D) Tüm maske ve eldiven atıkları bekletilmeden doğrudan depolamaya veya yakılmaya gönderilecektir.



**Koronavirüs Gündemini  
Takip Ederken Nelere Dikkat Edilmeli?**

**Ayrıştırıcı, kışkırtıcı  
mesajlara müsaade  
etmeyin.**

**Resmî kaynaklara  
itibar edin.**

**Sahte hesaplara  
dikat edin.**

**Haber  
görünümlü  
tuzaklara  
düşmeyin.**

**Kaynağı belirtilmemiş  
ses kayıtları ve görüntülere  
itibar etmeyin.**

**Bilgiyi  
otoritesinden alın.**

Kaynak: www.trthaber.com

Buna göre aşağıdakilerden hangisinin davranışı yanlıştır?

- A) Recep, her akşam günlük vaka sayısının ne kadar olduğunu öğrenmek için Sağlık Bakanlığının Instagram hesabına girmektedir.
- B) Meryem, salgının başladığı dönemde sosyal medya üzerinde "son dakika" gibi dikkat çekici başlıklarla servis edilen haberleri açıp okumamıştır.
- C) Yaşadığı bölgedeki salgın durumunu öğrenmek isteyen Armağan, Korona Danışma Hattı ALO 184'ü arayarak bilgi almıştır.
- D) E-posta üzerinden kendini sağlık çalışanı olarak tanıtan kişilerden mesajlar alan Haydar, mesajların doğru olabileceğini düşünerek ailesiyle de paylaşmıştır.



I.

## DÜNYADA 815 MİLYON KİŞİ AÇLIKLA MÜCADELE EDİYOR



Orta Afrika Cumhuriyeti'nde açlık "son derece ciddi" boyutlarda

Açlık endeksinde göre 119 ülkeden 52'sinde açlık düzeyi

ciddi

alarm verici

son derece ciddi



"Alarm verici" düzeyin görüldüğü ülkeler

Çad, Sierra Leone, Madagaskar, Zambia, Sudan ve Liberya

"Ciddi" düzeyin görüldüğü ülkeler

Afganistan, Pakistan, Hindistan, Myanmar, Bangladeş, Filipinler, Kuzey Kore ve Endonezya

■ Dünya genelinde çatışmalar nedeniyle açlıktan ölme riskiyle karşı karşıya olanların sayısı **124 MİLYONA** yükseldi. **32 MİLYONU Somali, Yemen, Güney Sudan, Nijerya'da**

■ Hindistan'da Devlet Açlık Endeksi'ne göre, yaklaşık **200 MİLYON** kişi açlık çekiyor

■ Yemen'de **8,4 MİLYON KİŞİ** gıda güvensizliği ve açlık tehdidi altında

■ Somali'de kıtlık sebebiyle **6,2 MİLYON** kişinin gıda yardımına, **2,9 MİLYON** kişinin de acil yardıma ihtiyacı var

■ Demokratik Kongo Cumhuriyeti'nde **400 BİN ÇOCUK** ölüm riskiyle karşı karşıya

■ Yetersiz beslenen **490 MİLYON** kişinin **% 80'İNİ ÇOCUK**

Kaynak: www.aa.com.tr

Görselden hareketle,

- Yetersiz beslenenlerin büyük çoğunluğunu çocuklar oluşturmaktadır.
- Yaşanan savaşlar da açlık sorununun meydana gelmesinde etkindir.
- Açlığı engellemek için ülke yönetimleri ortaklaşa hareket etmektedir.
- Bazı ülkelerde sağlık açısından güvenilir olmayan gıdalar tüketilmektedir.
- Ülke topraklarının verimsiz olması, açlık yaşanmasının en büyük sebebidir.

yargılarından kaç tanesi söylenebilir?

A) 2

B) 3

C) 4

D) 5



### 2. Aşağıdaki afişlerden hangisi bu görselle ilişkilendirilemez?

A)

www.sagligim.gov.tr  
TEK TIKLA  
BİLGİ ELİNDE

SAĞLIĞIM  
Halk Sağlığına Yönelik Bilgiler

Yoğun fiziksel aktivite ve spor yapmak için sabah ve akşam saatlerini tercih etmeli, her bir saatlik spor için en az 2-4 bardak sıvı almalısınız.

T.C. Sağlık Bakanlığı  
Halk Sağlığı Genel Müdürlüğü  
/halksagligim

B)

HEM YİYİP  
İÇTİKLERİNİZE  
DİKKAT  
EDEREK  
HEM DE  
DÜZENLİ  
EGZERSİZ  
YAPARAK

OBEZİTEDEN  
KORUNABİLİRSİNİZ.

#AvrupaObeziteGünü

TÜRKİYE CUMHURİYETİ  
SAĞLIK BAKANLIĞI  
saglik.gov.tr  
/SaglikBakanligi

C)

HAREKETE  
ÇOCUKLUKTA BAŞLA  
SAĞLIKLI YAŞA

Çocuğunuzla birlikte  
düzenli fiziksel aktivite yapın,  
ona örnek olun.

#KoşYürüOynaSağlıklıYaşa

saglik.gov.tr  
/SaglikBakanligi

D)

Hayatınız bizim  
için değerlidir

#farkındayızkanseriyeceğiz

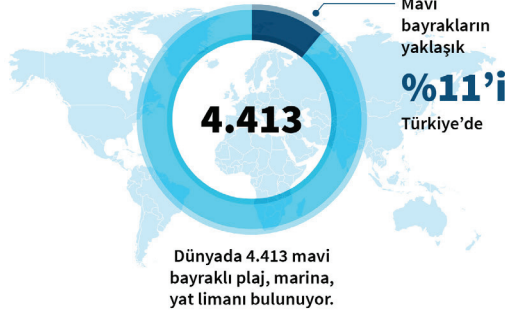
1-7 NİSAN KANSER HAFTASI

Unutmayın, kanser erken  
teşhisle önlenebilir  
bir hastalıktır.

/saglikbakanligi

3.

## MAVİ BAYRAKTA DÜNYA ÜÇÜNCÜSÜYÜZ

Dünyada mavi bayrak  
programına 46 ülke dâhil

Türkiye dünyada en fazla mavi bayraklı plajı olan üçüncü ülke



Görselden hareketle,

1. Antalya'daki mavi bayraklı plaj sayısı, Türkiye'deki toplam mavi bayraklı plaj sayısının yarısından fazladır.
2. Bir plajın mavi bayrak almaya hak kazanması için mutlaka bir deniz kenarında olmasına gerek yoktur.
3. Türkiye mavi bayrak sahibi olan marina ve yat limanları ile de dünyada ilk sıralarda yer almaktadır.
4. Bir plajın, marinanın veya yat limanının mavi bayrak alabilmesi için birtakım şartlar gerekmektedir.
5. Türkiye'de mavi bayrak alan plaj sayısı, mavi bayrak alan marina ve yat limanı sayısından daha fazladır.
6. Tekirdağ, Kocaeli, Ordu ve Yalova'daki mavi bayraklı plaj sayısı birbirine eşittir.

yargılarından hangilerine ulaşılabilir?

A) 2, 5 ve 6

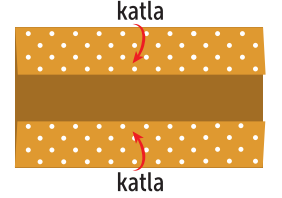
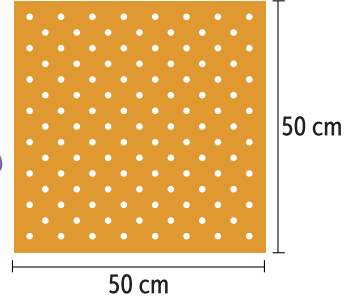
B) 1, 2 ve 4

C) 3, 5 ve 6

D) 1, 3 ve 4

## 2. Aşağıda dikişsiz bez maske yapımının ilk iki aşamasının anlatımı görselleriyle verilmiştir:

Yaklaşık 50 cm kenar uzunluğuna sahip, kare şeklinde pamuklu kumaş (eşarp, bandana vb.) ve 2 adet paket lastiği veya lastikli saç tokası temin edin. Pamuklu kumaşı karşılıklı iki kenarından yaklaşık 10 cm içe doğru katlayın.



Dikişsiz bez maskenin kalan aşamaları şu şekildedir:

Elde ettiğiniz dikdörtgen şeklindeki kumaşı, iki uzun kenar ortada buluşacak şekilde tekrar içe doğru katlayın. Paket lastiği veya lastikli saç tokasını dikdörtgen şeklindeki kumaşın iki kısa kenarından geçirin. Lastikler ve kısa kenarlar arasında yaklaşık 15 cm mesafe olsun. Kısa kenarları içe doğru katlayın. Maskenin açılmasını engellemek için kumaşın bir kısa kenarını aralayıp diğer kısa kenarı bu aralığa yerleştirin. Maskeyi lastiklerinden tutup kulaklarınıza geçirin ve yüzünüze oturacak şekilde ayarlayın.

Bu metindeki açıklamaları içeren görseller aşağıdakilerin hangisinde sırasıyla verilmiştir?

